

# مذكرة الصف الثاني عشر أدبي

## مادة التاريخ

أسئلة اختبارات  
وإجابات نموذجية

العام الدراسي  
2020-2019

الفترة الثانية





أجب عن ( أربعة ) أسئلة فقط على أن يكون السؤال الأول منها ( إجبارياً ) :

السؤال الأول : ( إجباري ) يتكون من ( أ ، ب ، ج ، د ) :

أ ) ضع خطأ تحت الخيار الصحيح من بين الخيارات التي تلي كل عبارة :

- ١- الملك الفرنسي الذي عُرف بضعف شخصيته :  
أ- لويس الثالث عشر      ب- لويس الرابع عشر      ج- لويس الخامس عشر      د- لويس السادس عشر
- ٢- العام الذي سقط فيه حصن الباستيل بيد الثوار الفرنسيين :  
أ- ١٧٦٩ م      ب- ١٧٧٩ م      ج- ١٧٨٩ م      د- ١٧٩٩ م
- ٣- المؤتمر الذي عُقد في الاتحاد السوفيتي عام ١٩٤٥م للدول المحبة للسلام :  
أ- بالما      ب- فرساي      ج- ميونخ      د- ستالينجراد
- ٤- المعركة التي وقعت في غرب مدينة الإسكندرية عام ١٩٤٢م :  
أ- النورماندي      ب- العلمين      ج- ريفولي      د- كوكورد
- ٥- الاتفاق الذي عُقد عام ١٨٨٢م بين كل من ألمانيا والنمسا وإيطاليا :  
أ- الحلف الثلاثي      ب- الوفاق الودي      ج- معاهدة باريس      د- الاتفاق الودي

ب ) أكمل العبارات التالية بما يناسبها فيما درست :

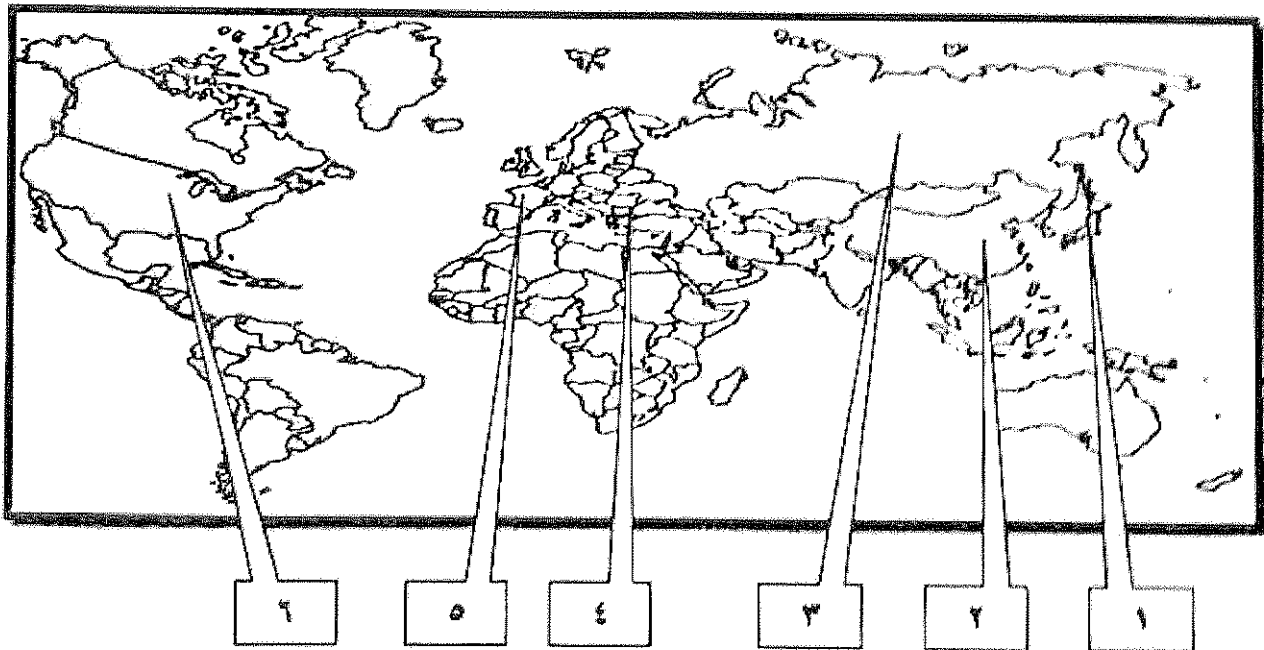
- ١- الدولة التي كان يحكمها "وليم أورنج" قبل تتويجه ملكا على إنجلترا اسمها .....
- ٢- المعر المعاني الذي كان السبب المباشر في قيام الحرب العالمية الثانية اسمه .....
- ٣- الرئيس الأمريكي صاحب فكرة إنشاء عصبة الأمم اسمه .....
- ٤- القائد الذي أعاد لفرنسا أمجادها ولُقّب بـ "رجل فرنسا الأول" اسمه .....

تابع السؤال الأول ( إجباري ) :

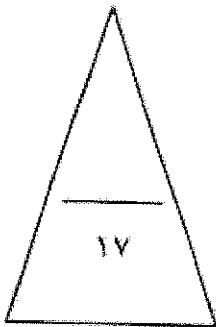
جـ) صوب ما تحته خط في العبارات التالية :

م	العبارة	التصويب
١	عدد الدول المشاركة في الحرب العالمية الأولى بلغ ٢٢ دولة .	
٢	استطاع ميثاق ريبان على مجموعة دول أوروبا الشرقية الاتحاد الأوروبي .	
٣	قال مقولة ( إننا هنا بإرادة الشعب ولن نبرح أماكننا إلا على أسنة الرماح ) اسمه <u>لاهابيت</u> .	
٤	العام الذي انتهت فيه الحرب العالمية الأولى ١٩١٤ م .	

د) أمامك خريطة العالم الصماء - اكتب الرقم الدال على العبارات التالية :



- الدولة التي وقعت على أراضيها معركة لكنجستون يمثلها على الخريطة الرقم ( ) .
- الدولة التي ظهر فيها النظام الديكتاتوري بقيادة "لينين" يمثلها على الخريطة الرقم ( ) .
- الدولة التي استسلمت بعد قصفها بقنبلتين ذريتين بالحرب العالمية الثانية يمثلها على الخريطة الرقم ( ) .
- الدولة التي يمر فيها نهر المارن يمثلها على الخريطة الرقم ( ) .



السؤال الثاني ( اختياري ) ويتكون من ( أ ، ب ، ج ) :

أ) دلي على صحة العبارات التالية :

١- كان رد فعل البرلمان الإنجليزي قاسياً اتجاه ميناه بوسطن عام ١٧٧٣ م .

.....  
.....

٢- مساهمة المفكرين بدور كبير في قيام الثورة الفرنسية .

.....  
.....

٣- لم تقتصر إصلاحات الجمعية الوطنية على إصدار وثيقة الحقوق الفرنسية ودستور ١٧٩١م فقط.

.....  
.....

ب) عرف المفاهيم أو المصطلحات التالية :

١- حزب اليقاقة : .....

٢- القوانين سيئة السمعة : .....

٣- الاتفاقات الدولية : .....

٤- السوفييت : .....

ج) اقرأ الفقرة التالية ثم أجب عما يليها من أسئلة :

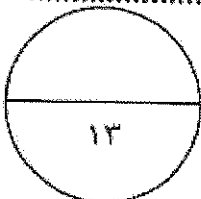
" انقسم العالم سياسياً في أواخر القرن التاسع عشر وبداية القرن العشرين الميلادي بسبب عدة عوامل أهمها بروز النزعة القومية وتصادم الأيديولوجيات وتضارب المصالح الاقتصادية وسياسة التوسع للسيطرة على مناطق مختلفة من العالم وما صاحبه من السباق إلى التسلح "

١- عرف ما تحته خط .

.....  
.....

٢- اكتب العوامل التي أدت إلى انقسام العالم سياسياً في أواخر القرن التاسع عشر وبداية القرن العشرين .

.....  
.....



السؤال الثالث ( اختياري ) ويتكون من ( أ ، ب ، ج ) :

( أ ) علل لما يلي :

١- تعتبر العوامل السياسية من أهم عوامل قيام الثورة الفرنسية .

.....  
.....

٢- قيام الثورة الشيوعية في روسيا .

.....  
.....

٣- انعقاد مجلس طبقات الأمة في الخامس من مايو عام ١٧٨٩م في فرنسا .

.....  
.....

٤- تأخر دخول الولايات المتحدة الأمريكية الحرب العالمية الأولى حتى عام ١٩١٧م .

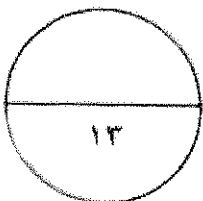
.....  
.....

ب ( قارن بين كل من :

أوجه المقارنة	الطبقة الممتازة ( في المجتمع الفرنسي قبيل الثورة )	الطبقة العاملة ( في المجتمع الفرنسي قبيل الثورة )
الفئات	..... .....	..... .....
المزايا	..... .....	..... .....

ج) اكتب الوكالات الخاصة ذات الصلة بالأمم المتحدة ( مع الشرح ) :

.....  
.....  
.....



السؤال الرابع ( اختياري ) ويتكون من ( أ ، ب ، ج ) :

أ ) فند العبارات التالية :

١- ساعد سقوط حصن الباستيل على استقرار الأوضاع العامة في فرنسا .

.....  
.....

٢- اقتصررت الحرب العالمية الثانية على المواجهة العسكرية فقط .

.....  
.....

ب ) نفذ المطلوب منك ما بين القوسين :

١- النظام النازي . ( المبادئ )

.....  
.....

٢- انهيار سوق الأوراق المالية " وول ستريت " عام ١٩٢٩ م . ( النتائج )

.....  
.....

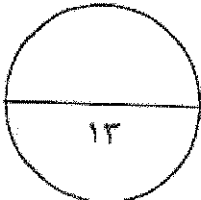
٣- تعد معركة " فالمي " من أهم معارك التاريخ الفرنسي . ( النتائج )

.....  
.....

ج ) من خلال دراستك لموضوع ( بداية تكوين المستعمرات الإنجليزية ) كون فقرة مناسبة باستخدام الكلمات التالية :

( حركة الكشوف الجغرافية - أمريكا الشمالية - جيمس تون )

.....  
.....  
.....



السؤال الخامس ( اختياري ) ويتكون من ( أ - ب - ج ) :  
أ) فسر كل مما يلي :

١- إصدار إعلان بلنتر عام ١٧٩١ م .

.....

٢- احتفال الفرنسيين بيوم ١٤ يوليو من كل عام .

.....

٣- تحالف الإتحاد الألماني مع النمسا وروسيا فيما يعرف بعصبة الأباطرة .

.....

٤- تسمية عام ١٩٤٢ م بالسنة الانقلابية .

.....

ب) فرق بين كل مما يلي :

مهام المحاكم النيابية في المستعمرات الإنجليزية	مهام الحاكم في المستعمرات الإنجليزية
.....	.....
.....	.....
محكمة العدل الدولية	مجلس الوصايا في الأمم المتحدة
.....	.....
.....	.....

ج) اكتب النتائج المترتبة على الأحداث التالية :

١- الثورة الإنجليزية عام ١٦٨٩ م .

.....

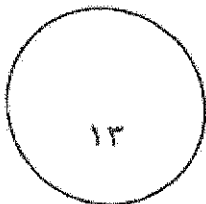
.....

٢- الحرب العالمية الثانية ( سياسياً ) .

.....

.....

.....



( انتهت الأسئلة )




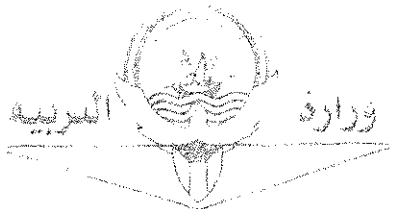
أجب عن ( أربعة ) أسئلة فقط على أن يكون السؤال الأول منها ( إجبارياً ) :  
السؤال الأول : ( إجباري ) يتكون من ( أ ، ب ، ج ، د ) :

( أ ) ضع خطأ تحت الخيار الصحيح من بين الخيارات التي تلي كل عبارة :

- ١- الملك الفرنسي الذي عُرِف بضعف شخصيته : ص ٨٤  
أ- لويس الثالث عشر    ب- لويس الرابع عشر    ج- لويس الخامس عشر    د- لويس السادس عشر
- ٢- العام الذي سقط فيه حصن الباستيل بيد الثوار الفرنسيين : ص ٨٨  
أ- ١٧٦٩ م    ب- ١٧٧٩ م    ج- ١٧٨٩ م    د- ١٧٩٩ م
- ٣- المؤتمر الذي عُقد في الاتحاد السوفيتي عام ١٩٤٥م للدول المحبة للسلام : ص ١١٦  
أ- يالطا    ب- فرساي    ج- ميونخ    د- ستالينجراد
- ٤- المعركة التي وقعت في غرب مدينة الإسكندرية عام ١٩٤٢م : ص ١١١  
أ- النورماندي    ب- العلمين    ج- ريفولي    د- كونكوردي
- ٥- الاتفاق الذي عُقد عام ١٨٨٢م بين كل من ألمانيا والنمسا وإيطاليا : ص ٩٨  
أ- الحلف الثلاثي    ب- الوفاق الودي    ج- معاهدة باريس    د- الاتفاق الودي

ب ) أكمل العبارات التالية بما يناسبها فيما درست :

- ١- الدولة التي كان يحكمها "وليم أورانج" قبل تنويجه ملكا على إنجلترا اسمها هولندا . ص ٢٤
- ٢- الممر المائي الذي كان السبب المباشر في قيام الحرب العالمية الثانية اسمه دانزيغ أو دانزج . ص ١١٠
- ٣- الرئيس الأمريكي صاحب فكرة إنشاء عصبة الأمم اسمه ولسن . ص ١٠٤
- ٤- القائد الذي أعاد لفرنسا أمجادها ولقّب بـ "رجل فرنسا الأول" اسمه نابليون بونابرت . ص ٩٣



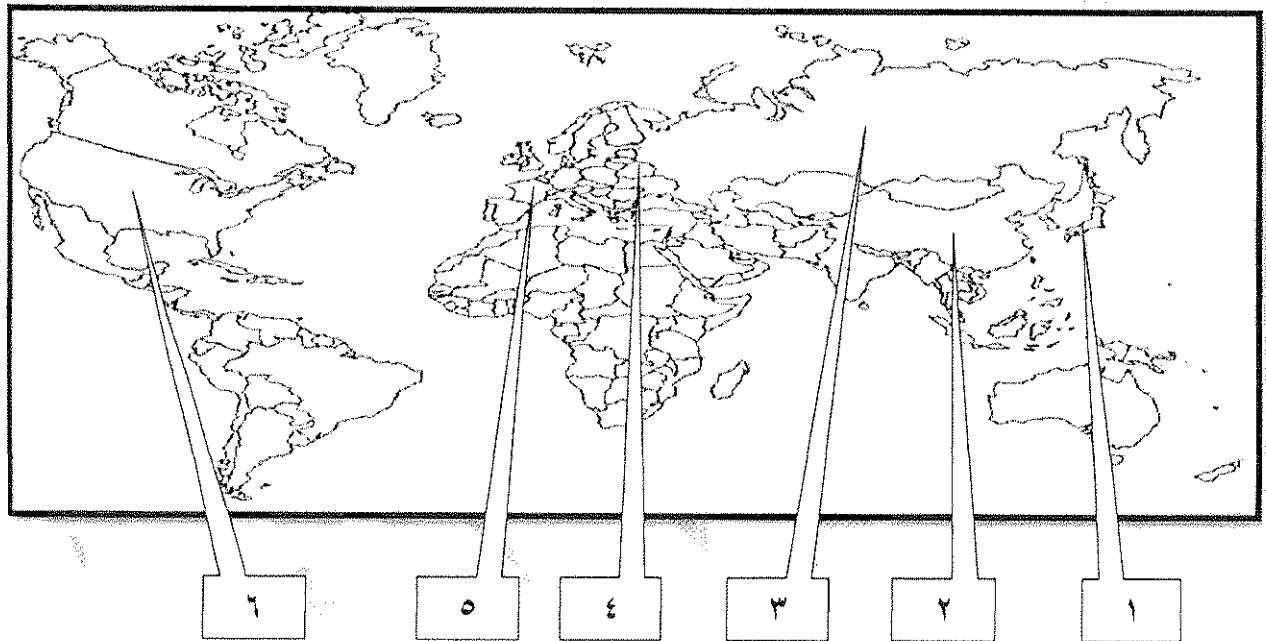


تابع السؤال الأول ( إجباري ) :

جـ ) صوب ما تحته خط في العبارات التالية : ( ٤ درجات كل نقطة درجة )

م	العبرة	التصويب
١	عدد الدول المشاركة في الحرب العالمية الأولى بلغ ٢٢ دولة . ص ١٠٠	٣٣ دولة
٢	اصطلاح سياسي يطلق على مجموعة دول أوروبا الشرقية الاتحاد الأوروبي . ص ١٠٠	البلقان
٣	قائل مقولة ( إننا هنا بإرادة الشعب ولن نبرح أماكننا إلا على أسنة الرماح ) اسمه <u>لافاييت</u> . ص ٨٧	ميرابو
٤	العام الذي انتهت فيه الحرب العالمية الأولى ١٩١٤ م . ص ٩٧	١٩١٨ م

د ) أمامك خريطة العالم الصماء – اكتب الرقم الدال على العبارات التالية : ( ٤ درجات كل نقطة درجة )




- الدولة التي وقعت على أراضيها معركة لكنجستون يمثلها على الخريطة الرقم ( ٦ ) . ص ٨٠

- الدولة التي ظهر فيها النظام الديكتاتوري بقيادة "النين" يمثلها على الخريطة الرقم ( ٣ ) . ص ١٠٦ - ص ١٠٣

- الدولة التي استسلمت بعد قصفها بقنبلتين ذريتين بالحرب العالمية الثانية يمثلها على الخريطة الرقم ( ١ ) . ص ١١٢ - ص ١١١

- الدولة التي يمر فيها نهر المارن يمثلها على الخريطة الرقم ( ٥ ) . ص ١٠١



السؤال الثاني ( اختياري ) ويتكون من ( أ ، ب ، ج ) :

( ٦ درجات كل نقطة درجة )

( أ ) دلل على صحة العبارات التالية :

( يكتفى بنقطتين )

١- كان رد فعل البرلمان الإنجليزي قاسياً اتجاه ميناء بوسطن عام ١٧٧٣م . ص ٧٩

- إغلاق ميناء بوسطن حتى يتم دفع ثمن الشاي . - تعيين الجنرال جيدج حاكماً عسكرياً على بوسطن .

- منع الاجتماعات إلا بإذن من السلطات العسكرية الإنجليزية . ( القوانين الجائرة )

( يكتفى بنقطتين )

٢- مساهمة المفكرين بدور كبير في قيام الثورة الفرنسية . ص ٨٥

- فولتير ( ١٦٩٤م / ١٧٧٨م ) : كاتب ساخر عرف عنه نقده اللاذع وسخريته الشديدة من الأوضاع البالية في فرنسا لا يخشى السجن أو النفي وأهم مؤلفاته ( عهد لويس الرابع عشر ) دعا فيه إلى المساواة وتناول كل طغاة فرنسا بنقده اللاذع للحكم المطلق المستبد وخرافات رجال الدين وانتقد بشدة القوانين الفرنسية الجائرة ونظام الضرائب والامتيازات ولعل مؤلفاته كانت أكثر انتشاراً بين طبقات الشعب الفرنسي بسبب موهبته الفذة في توجيه النقد اللاذع .

- منتيسكيو ( ١٦٨٩م / ١٧٧٥م ) : صاحب كتاب ( روح القوانين ) الصادر في ١٧٤٨م وكان معجباً بالنظام الإنجليزي المقيد لسلطات الملك وكان يعتقد أن النظام الملكي البرلماني الإنجليزي هو النظام الملائم لفرنسا حيث يقوم على أساس الدستور وعلى أساس البرلمان المنتخب والملك المقيد للسلطات .

- روسو ( ١٧١٢م / ١٧٧٨م ) : أهم مؤلفاته ( العقد الاجتماعي ) الذي طالب أن يكون الحكم للشعب واتفق في كثير من الأحيان مع مبادئ المفكر الإنجليزي ( جون لوك ) من حيث إن الشعب هو الذي يفوض السلطة للحاكم بشروط معينة وأن الشعب له الحق في سحب ذلك التفويض إذا ما أخل الملك بوظائفه أو بالشروط المتعاقد عليها بين الشعب والحاكم وأنكر روسو أن يكون هناك حاكم يستمد سلطته من مصدر غير الأمة ويرى أن كل حاكم لا يستند إلى الشعب في حكمه يعتبر حاكماً غير شرعي وأكد على المساواة المطلقة بين أفراد الشعب ولعل قيمة روسو العليا أنه رفع من شأن الفرد وجعل المساواة أساس المجتمع .

٣- لم تقتصر إصلاحات الجمعية الوطنية على إصدار وثيقة الحقوق الفرنسية ودستور ١٧٩١م فقط . ص ٨٩ ( يكتفى بنقطتين )

- كان لها دور كبير في إصلاح النظام الإداري حيث قسمت فرنسا إلى محافظات جغرافية وليس على أساس طبقي .

- ألغت النظام القضائي القديم وأصبح منصب القاضي انتخابياً .

- قامت الجمعية بإصلاح النظام الضريبي والمالي حيث وزعت الضرائب على أساس التساوي بين جميع الأفراد وطبقاً لدخل كل فرد .

- وجهت إصلاحاتها نحو الكنيسة الفرنسية وصدر قرار بمصادرة أملاكها رغبة في الاستحواذ على ممتلكاتها الواسعة وللمساهمة في حل الأزمة المالية .

( ٤ درجات كل نقطة درجة )


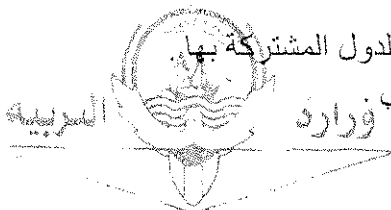
( ب ) عرف المفاهيم أو المصطلحات التالية :

١- حزب اليعاقة : ( ص ٩١ ) حزب من المتطرفين المعروفين بعدانهم الشديد للملكية وهم يمتازون بأنهم أقلية شديدة التنظيم ذات اتصال قوي بالشعب وبجمهور باريس الذي كانت له اليد الطولى في إثارة الشارع في فرنسا .

٢- القوانين سينة السمعة : ( ص ٧٨ ) هي ضرائب باهظة جديدة فرضت على المستعمرات والتي كانت إنجلترا تبررها بالمصروفات اللازمة للجيش البريطاني لحماية المستعمرات ولعلها كانت بمثابة الشرارة التي انطلقت منها الثورة الأمريكية .

٣- الاتفاقات الدولية : ( ص ٩٧ ) تشريعات يتفق عليها دولياً وهي ( مقننة ) تلتزم الدول المشتركة بها .

٤- السوفييت : ( ص ١٠٦ ) المجالس الشيوعية المحلية التي أسسها الحزب الشيوعي .



ج) اقرأ الفقرة التالية ثم أجب عما يليها من أسئلة : ص ٩٧ ( ٣ درجات كل نقطة درجة )

" انقسم العالم سياسياً في أواخر القرن التاسع عشر وبداية القرن العشرين الميلادي بسبب عدة عوامل أهمها بروز النزعة القومية وتصادم الأيديولوجيات وتضارب المصالح الاقتصادية وسياسة التوسع للسيطرة على مناطق مختلفة من العالم وما صاحبه من السباق إلى التسلح "

١- عرف ما تحته خط .

- نسق من الآراء والأفكار السياسية والقانونية والدينية والفلسفية .



٢- اكتب العوامل التي أدت إلى انقسام العالم سياسياً في أواخر القرن التاسع عشر وبداية القرن العشرين . (يكتفى بنقطتين)

- بروز النزعة القومية وتصادم الأيديولوجيات .

- السباق إلى التسلح .

- تضارب المصالح الاقتصادية .

- سياسة التوسع للسيطرة على مناطق مختلفة من العالم .



**السؤال الثالث ( اختياري ) ويتكون من ( أ ، ب ، ج ) :**

**( أ ) علل لما يلي :**

( ٦ درجات كل نقطة درجة )

- ١- تعتبر العوامل السياسية من أهم عوامل قيام الثورة الفرنسية . ص ٨٤
- ( يكتفى بنقطتين )
- كان ملوك فرنسا يحكمون وفق نظرية الحق الإلهي المقدس فكان الملك الفرنسي هو الذي يصدر القوانين ويعلن الحرب ويفرض الضرائب وسلطته أكبر من القضاء حيث كان يعتبر قاضي المملكة الأكبر يستطيع أن يعفو عن مجرم عاقبته المحكمة بالسجن أو يلقي بمن يشاء في السجن المتواصل دون محاكمة ويعين الوزراء ويعزلهم دون مساءلة .
- لم تعرف فرنسا أي نوع من أنواع المشاركة الشعبية في الحكم ولكن كان هناك مؤسسات برلمانية صورية هشّة لم تستطع أن تحد من سلطات الملك أو تراقب أعماله فقد كانت مشاركة الشعب ممثلة في ( محكمة باريس ) و ( مجلس طبقات الأمة ) فقط وكانت قراراتها غير ملزمة للملك .
- توالى الهزائم العسكرية على الجيش الفرنسي منذ أواخر عهد لويس الرابع عشر وحرب السنوات السبع ( ١٧٥٦م / ١٧٦٣م ) الأمر الذي أدى إلى تطلع الشعب الفرنسي إلى ملك قوي يعيد مكانة فرنسا بين ملكيات أوروبا ويعيد كذلك هيبتها بين أفراد الشعب ولم يكن لويس السادس عشر يتمتع بهذه القدرات
- هناك شبه إجماع بين المؤرخين على ضعف شخصية لويس السادس عشر ( ١٧٧٣م / ١٧٩١م ) ولعبت زوجته ( ماري أنطوانيت ) دورا كبيرا في إضعاف مكانته الشعبية وتوجيه سياسة البلاد من خلال اشتراكها في المؤامرات التي تعين وتعزل الوزراء كذلك عدم إحساسها بما يعانيه الشعب الفرنسي من آثار المجاعة الأمر الذي خلق شعورا عاما بالاستياء لدى الشعب ويرى في ( ماري أنطوانيت ) عدوة الشعب الفرنسي لمجرد أنها نساوية الأصل ولقد كانت الكراهية الشعبية للنمسا شديدة على اعتبار أنها المسؤولة عن معظم الكوارث العسكرية التي حلت بفرنسا خلال القرن الثامن عشر .

( يكتفى بنقطتين )

٢- قيام الثورة الشيوعية في روسيا . ص ١٠٦

- فساد الحكم القيصري في روسيا واستبداده .
- الهزائم الكبرى التي حلت بالجيش الروسي منذ عام ١٩٠٥م على يد اليابان ثم الحرب العالمية الأولى وسقوط ملايين من الجرحى والقتلى .
- سوء الحالة الاقتصادية التي تأثر بها العمال والفلاحون وانتشار البطالة والمجاعات والأمراض .
- شخصية لينين وقدرته على إقناع الجماهير من خلال رفع شعاره المشهور ( السلام للجيش - الأرض للفلاحين - الغذاء للجميع - الحكم للسوفيت ) وتنظيم الحزب الشيوعي .
- ٣- انعقاد مجلس طبقات الأمة في الخامس من مايو عام ١٧٨٩م في فرنسا . ص ٨٧
- لبحث الخروج من الأزمة المالية الكبيرة التي كانت تمر بها البلاد عن طريق فرض ضرائب جديدة لتغطية نفقات الدولة .
- ٤- تأخر دخول الولايات المتحدة الأمريكية الحرب العالمية الأولى حتى عام ١٩١٧م . ص ١٠٠
- بسبب مهاجمة الغواصات الألمانية السفن التجارية الأمريكية .

**( ب ) قارن بين كل من : ص ٨٥**

( ٤ درجات كل نقطة درجة )

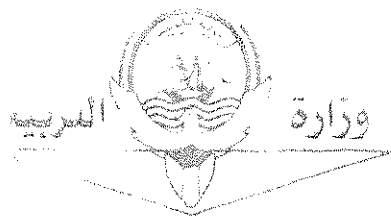
أوجه المقارنة	الطبقة الممتازة	الطبقة العامة
الفئات	( في المجتمع الفرنسي قبيل الثورة ) الأرستقراطية الغنية - رجال الدين	( في المجتمع الفرنسي قبيل الثورة ) عامة الشعب من الزراعة والصناع وأصحاب الحرف وصغار التجار
المزايا	- تمتعوا بجميع المزايا الاجتماعية في المجتمع وتولي المناصب العليا في الدولة والجيش - ليس عليهم أي حقوق تجاه الدولة . - التصاقها بالملك . - تمثل أقلية لا تزيد عن ١% من مجموع الشعب الفرنسي .	- عانت من صنوف الظلم والاستعباد - فرضت عليهم جميع أنواع الضرائب - استبعدت من جميع الوظائف العليا في الدولة . - تمثل نحو ٩٩% من الشعب الفرنسي . ( يكتفى بنقطة )

( يكتفى بنقطة )


**ج) اذكر الوكالات الخاصة ذات الصلة بالأمم المتحدة ( مع الشرح ) : ص ١١٨ ( ٣ درجات كل نقطة درجة )**  
- الوكالات الخاصة ذات الصلة بالأمم المتحدة .

- البنك الدولي للتنمية والتعمير ( IBRD ) : يعرف رسميا بالبنك الدولي للإنشاء والتعمير ويمنح قروضه لمساعدة مختلف الأقطار في تنفيذ مشاريعها كالسدود ومحطات الطاقة الكهربائية والسكك الحديدية .
- منظمة التربية والعلوم والثقافة اليونسكو ( UNESCO ) : هي ( منظمة الأمم المتحدة للتربية والعلوم والثقافة ) ، تقوم بتعزيز التعاون الدولي في مجالات التربية والعلوم والثقافة لتطويرها وتحقيق قدر أكبر من التفاهم بين الأمم .
- منظمة الصحة الدولية ( WHO ) : هي الوكالة الرئيسية في العالم لمواجهة المشاكل الصحية .
- منظمة التغذية والزراعة الفاو ( FAO ) منظمة الأمم المتحدة للأغذية والزراعة تساعد على تحسين إنتاج المزارع والغابات ومناطق صيد الأسماك .
- منظمة العمل الدولية ( ILO ) : منظمة العمل الدولية تساعد في تحسين ظروف العمل والمعيشة في أنحاء العالم .

**( يكتفى بثلاث نقاط فقط )**



التوجيه الفني العام للأجتماعية



السؤال الرابع ( اختياري ) ويتكون من ( أ ، ب ، ج ) :

( ٤ درجات كل نقطة درجة )

( أ ) فند العبارات التالية :

١- ساعد سقوط حصن الباستيل على استقرار الأوضاع العامة في فرنسا . ص ٨٨

( يكتفى بنقطتين )

- هجرة النبلاء إلى خارج فرنسا هربا بحياتهم وسرعان ما أصبح هؤلاء المهاجرون أكبر خطر على الثورة الفرنسية .

- توقف الفلاحون عن دفع الضرائب .

- عمت الفوضى في كل مكان .

- انقض الفلاحون على قصور النبلاء وأحرقوها وقتلوا من فيها وأحرقوا الوثائق التي تعطيهم حقوقا إقطاعية .

( يكتفى بنقطتين )

٢- اقتضت الحرب العالمية الثانية على المواجهة العسكرية فقط . ص ١١٣

- حرب عالمية شاملة : شملت معظم دول العالم بالاشتراك المباشر أو بالتحالف مع الدول .

- تسخير الطاقات البشرية : حيث سخرت دول المحور أسرى الحروب للعمل المصانع والحقول ودفع الحلفاء بالإناث للعمل في هذا المجال بدل الرجال وفتحت الولايات المتحدة باب الهجرة للعمل .

- مواجهة بين أيديولوجيات وصراع بين نظريات دكتاتورية عنصرية تبنتها دول المحور بينما تبني الحلفاء الديمقراطية التي تنادي بالمساواة وحقوق الإنسان .

- تنافس صناعي : سخرت جميع الدول المشتركة في الحرب مقدراتها ومقدرات الشعوب التي احتلتها بهدف تطوير الإنتاج الصناعي الحربي وتطوير الاقتصاد .

- سباق تسلح تكنولوجي : تطور أساليب القتال والأسلحة فاستخدمت التكنولوجيا في الأرض والجو والبحر فكان الدمار أكبر وشمل جميع المجالات .

( ٦ درجات كل نقطة درجة )

( ب ) نفذ المطلوب منك ما بين القوسين :

( يكتفى بنقطتين )

( المبادئ )

١- النظام النازي . ص ١٠٧

- تفوق العنصر البشري الجرمانى ( الألماني ) على جميع العناصر البشرية .

- قيام ألمانيا الكبرى التي تضم كل الألمان .

- امتلاك الدولة للشركات الاحتكارية .

- إلغاء معاهدة فرساي .

- استعادة المستعمرات الألمانية .

( يكتفى بنقطتين )

( النتائج )

٢- انهيار سوق الأوراق المالية " وول ستريت " عام ١٩٢٩ م . ص ١٠٥

- إفلاس كثير من البنوك والمؤسسات .

- انخفاض الأسعار في الولايات المتحدة .

- مطالبة البنوك والمؤسسات بديونها من أوروبا .

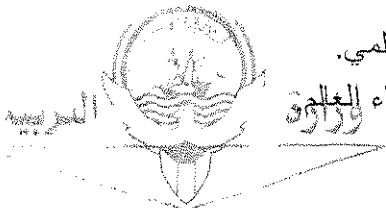
- توقف التطور الاقتصادي الأوروبي الذي اعتمد على الاستقرار المالي للولايات المتحدة .

- أغلقت المصانع .

- انتشرت البطالة .

- تراجع التجارة الخارجية والإنتاج العالمي .

- انهيار البنوك والمؤسسات الأوروبية . - انتشرت آثار هذه الأزمة في كافة أنحاء العالم .



٣- تعد معركة " فالمي " من أهم معارك التاريخ الفرنسي . ص ٩٠ ( النتائج ) ( يكتفى بنقطتين )

- أنقذت أفكار الثورة الفرنسية من الضياع .

- حالت دون وقوع باريس .

- رفعت الروح المعنوية للفرنسيين .

- تحول جيش الثورة بعدها من الدفاع إلى الهجوم .

- أصبح مصدر رعب للدول الأوروبية فيما بعد .

ج ) من خلال دراستك لموضوع ( بداية تكوين المستعمرات الإنجليزية ) كون فقرة مناسبة باستخدام الكلمات

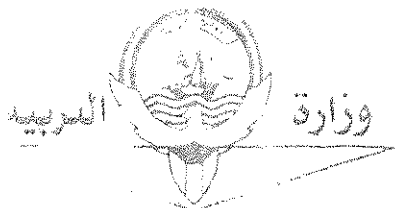
( ٢ درجات )

التالية : ص ٧٦


( حركة الكشوف الجغرافية - أمريكا الشمالية - جيمس تون )

عقب قيام حركة الكشوف الجغرافية وقيام الحركة الاستعمارية أسس الأوروبيون من الإنجليز والأسبان والفرنسيين والهولنديين مستعمرات أوروبية في أمريكا الشمالية إلا أن أكبرها وأقواها على الإطلاق كان المستعمرات الإنجليزية وقد امتدت هذه الولايات في الجزء الشمالي الشرقي إلى الجنوب الشرقي بمحاذاة المحيط الأطلسي في نحو ثلاث عشر ولاية أولها مستعمرة جيمس تون .

( ما يراه المصحح مناسباً )



التوجيه الفني العام للأحياء



**السؤال الخامس ( اختياري ) ويتكون من ( أ - ب - ج ) :**  
**( أ ) فسر كل مما يلي :**

( ٤ درجات كل نقطة درجة )

١- إصدار إعلان بلننز عام ١٧٩١ م . ص ٩٠

- قدم الإمبراطور النمساوي "ليوبولد" مقترحات إلى البلاطات الملكية الأوروبية تحث على القيام بعمل مشترك إزاء الموقف الداخلي في فرنسا وايدته الإمبراطور " فريدريك وليم الرابع " ملك بروسيا الأمر الذي أدى في النهاية إلى إصدار الإعلان .

( يكتفى بنقطة )

٢- احتفال الفرنسيين بيوم ١٤ يوليو من كل عام . ص ٨٨

- ذكرى سقوط حصن الباستيل .

- حيث هاجم الجمهور الغاضب الحصن وقتل جميع الحراس وأفرج عن السجناء وأخذهم الجمهور الغاضب ودار بهم الشوارع في نشوة انتصار عاطفية كبيرة وهي في الحقيقة تعبر عن كبت طويل جدا عاشه الشعب الفرنسي تحت الحكم الملكي المطلق المستبد .

٣- تحالف الإتحاد الألماني مع النمسا وروسيا فيما يعرف بعصبة الأباطرة . ص ٩٧

- عمد بسمارك إلى عزل فرنسا .

٤- تسمية عام ١٩٤٢م بالسنة الانقلابية . ص ١١١

- نمو قوة الحلفاء وضمود القوات الروسية ( الجيش الأحمر ) التي ألحقت هزيمة بالقوات الألمانية في ( ستالينجراد ) في

هجوم مفاجئ عام ١٩٤٢م .

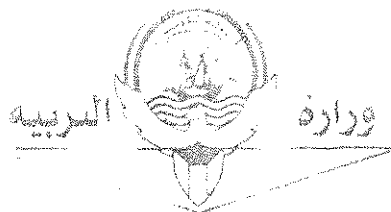
- تمكن البريطانيون من إلحاق هزيمة بالقوات الألمانية - الإيطالية بقيادة "رومل" في معركة العلمين غرب مدينة الإسكندرية

عام ١٩٤٢م . ( يكتفى بنقطة )


( ٤ درجات كل نقطة درجة )

**ب ( فرق بين كل مما يلي :**

مهام المجلس النيابي في المستعمرات الإنجليزية ص ٧٧	مهام الحاكم في المستعمرات الإنجليزية ص ٧٧
- يقوم بسن القوانين والضرائب - مراقبة الموظفين في الولاية . ( يكتفى بنقطة )	- هو المسؤول الأول عن رعاية شؤون الولاية - المحافظة على الأمن . ( يكتفى بنقطة )
محكمة العدل الدولية ص ١١٧	مجلس الوصايا في الأمم المتحدة ص ١١٧
- مركزها لاهاي ( هولندا ) ومهمتها حل النزاعات على الحدود بين الدول الأعضاء والنزاعات الناجمة عن مخالفة القوانين الدولية .	- يتألف من أعضاء الدول الخمس الكبرى ودول أخرى منتخبة كلف بإدارة الأراضي التي وضعتها عصبة الأمم تحت الانتداب ريثما تتأهل الدول القائمة عليها للاستقلال .



لبنان جمهورية الفضي الشام للأجتماعية





( ٥ درجات كل نقطة درجة )

ج ( اكتب النتائج المترتبة على الأحداث التالية :

( يكتفى بنقطتين )

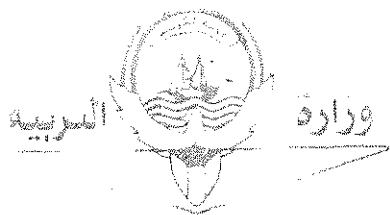
١- الثورة الإنجليزية عام ١٦٨٩ م . ص ٧٥ + ٧٦

- انتشرت فكرة المجالس النيابية لإصدار القوانين وفرض الضرائب وتقرير سياسة الدولة بعد ما كان ذلك من حق الملك فقط في ظل الحق الإلهي المقدس الذي كان يمنح للملوك .
- تم الأخذ بمبدأ تركيز الحياة النيابية في مجلسين ( مجلس اللوردات ) ويمثل الأرستقراطية الإنجليزية و ( مجلس العموم ) الذي يمثل الديمقراطية في أجل صورها ومن ثم أخذت عنها الشعوب الأخرى لذلك نجد نظام المجلسين قد طبق في أغلب دول العالم حتى الآن .
- أخذت معظم دول العالم عن إنجلترا نظامها الانتخابي حيث التمثيل النيابي على حساب الدوائر الانتخابية وليس على أساس طبقي حيث أصبح عضو البرلمان يمثل دائرة انتخابية على حسب التقسيم الجغرافي الذي تراه الدولة فالعضو لا يمثل طبقة اجتماعية أو اقتصادية ولكنه يمثل جميع سكان دائرته .
- كان للثورة الإنجليزية أثر بالغ في إدراك الفرد حقوقه السياسية .
- كان للثورة الإنجليزية الفضل الأكبر في تطور النظريات السياسية ولعل أشهرها نظرية جون لوك المعروفة ب ( السيادة الشعبية ) .


( يكتفى بثلاث نقاط )

٢- الحرب العالمية الثانية سياسياً . ص ١١٤

- تغيرت خريطة أوروبا السياسية وجرى تعديل على الكثير من الحدود .
- تراجعت مكانة دول أوروبا ( بريطانيا وفرنسا ) إلى الدرجة الثانية وتقلص نفوذها الاستعماري .
- انتهت الديكتاتوريات في إيطاليا وألمانيا واليابان .
- قامت أنظمة شيوعية في دول أوروبا الشرقية وظلت قائمة بمساندة الاتحاد السوفيتي وسقطت مع سقوطه .
- انقسمت ألمانيا بعد احتلالها إلى قسمين غربي يتبع النظام الرأسمالي وشرقي يتبع النظام الشيوعي وقسمت برلين إلى قسمين يفصلهما جدار عازل .
- لم تصب إيطاليا بخسائر مباشرة في أراضيها وإنما فقدت كل مستعمراتها .
- فقدت اليابان كل ممتلكاتها التي حصلت عليها منذ نهاية القرن التاسع ودمرت أراضيها .
- برز قطبان جديان في العالم هي الولايات المتحدة الأمريكية والاتحاد السوفيتي ( السابق ) باعتبارهما أقوى دولتين في العالم .



لوجوه الفنى العام للأحياء





أجب عن ( أربعة ) أسئلة فقط على أن يكون السؤال الأول منها ( إجبارياً ) :

السؤال الأول : ( إجباري ) ويتكون من ( أ ، ب ، ج ، د ) :

أ ) ضع خطأ تحت الخيار الصحيح من بين الخيارات التي تلي كل عبارة :

١- قائل هذه العبارة " إننا هنا بإرادة الشعب ولن نبرح أماكننا إلا على أسنة الرماح " :

أ- نيكر      ب- لافاييت      ج- نابليون      د- ميرابو

٢- المستعمرة الإنجليزية التي تأسست عام ١٦٠٧م في أمريكا الشمالية :

أ- بوسطن      ب- جيمس تون      ج- واشنطن      د- نيويورك

٣- الدولة التي وقعت على أراضيها معركة "الكنجستون" :

أ- إنجلترا      ب- الاتحاد السوفيتي      ج- الولايات المتحدة الأمريكية      د- النمسا

٤- الملك الذي لجأ إلى فرنسا عام ١٦٨٩م هرباً من رجال البرلمان الإنجليزي :

أ- جيمس الأول      ب- جيمس الثاني      ج- جيمس الثالث      د- جيمس الرابع

٥- العام الذي عقد فيه صلح باريس وبموجبه اعترفت بريطانيا باستقلال الولايات المتحدة الأمريكية :

أ- ١٧٨٣م      ب- ١٧٨٤م      ج- ١٧٨٥م      د- ١٧٨٦م

ب ) أكمل العبارات التالية بما يناسبها فيما درست :

١- الإمبراطورية الإسلامية التي تفككت بعد الحرب العالمية الأولى اسمها .....

٢- المدينة التي يوجد بها مقر محكمة العدل الدولية اسمها .....

٣- المدينة التي أعتقل فيها الملك " لويس السادس عشر " بعد محاولة هروبه الفاشلة اسمها .....

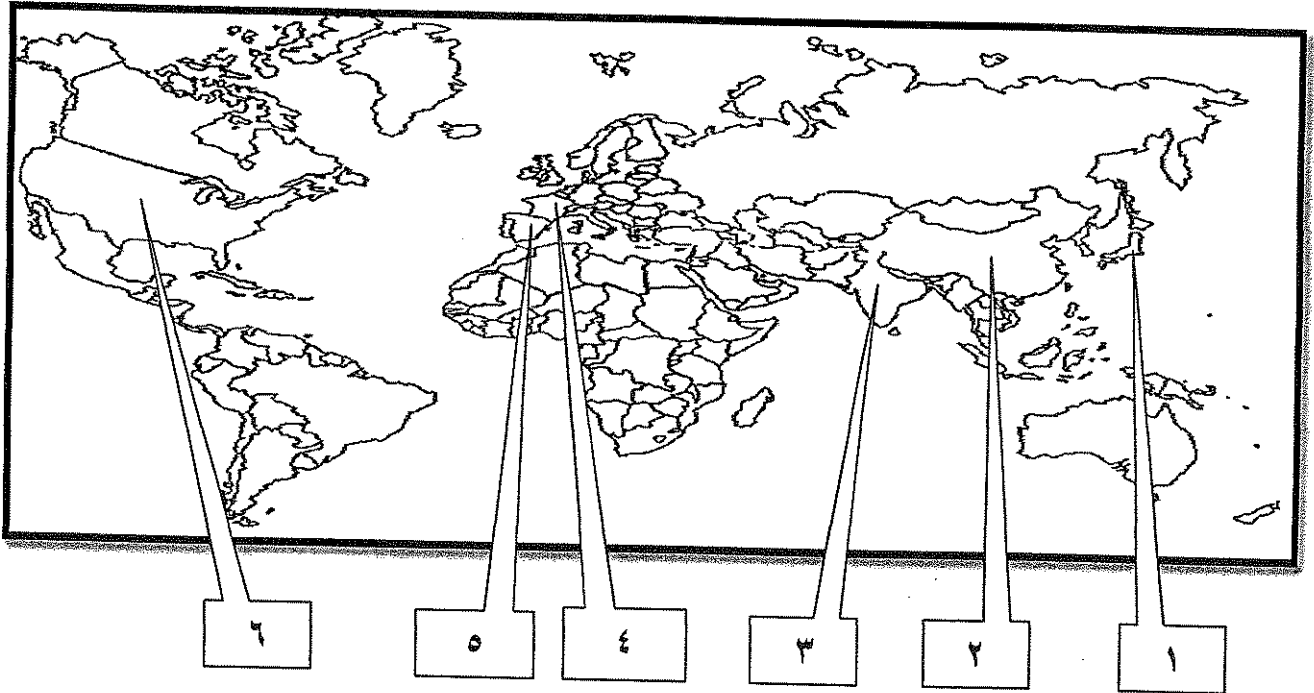
٤- الدولة التي هاجمت السفن التجارية الأمريكية وكانت السبب في دخول الولايات المتحدة الحرب العالمية الأولى اسمها .....

تابع السؤال الأول ( إجباري ) :

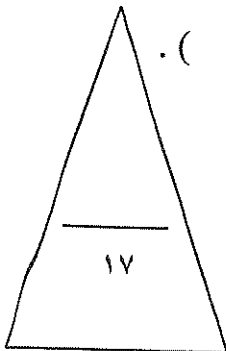
( ج ) اختر للمجموعة ( أ ) ما يرتبط بها من المجموعة ( ب ) بوضع الرقم المناسب :

م	المجموعة ( أ )	الرقم المناسب	المجموعة ( ب )
١	العام الذي اجتاحت فيه هتلر بولندا .		١٩١٦م
٢	العام الذي حدثت فيه معركة فردان .		١٩١٩م
٣	العام الذي أصدر فيه إعلان استقلال المستعمرات في أمريكا عن إنجلترا .		١٩٣٩م
٤	العام الذي أنشأت فيه عصبة الأمم .		١٧٧٦م
			١٧٧٧م

( د ) أمامك خريطة العالم الصماء - اكتب الرقم الدال على العبارات التالية :



- الدولة التي يقع فيها المقر الرسمي للأمم المتحدة يمثلها على الخريطة الرقم ( ) .
- الدولة الآسيوية التي تعد أحد الأعضاء الدائمين في مجلس الأمن يمثلها على الخريطة الرقم ( ) .
- الدولة التي يجري على أرضها نهر " المارن " الشهير يمثلها على الخريطة الرقم ( ) .
- الدولة التي ظهر فيها نظام ديكتاتوري بقيادة " فرانكو " يمثلها على الخريطة الرقم ( ) .



السؤال الثاني ( اختياري ) يتكون من ( أ ، ب ، ج ) :

أ) اكتب النتائج المترتبة على الأحداث التالية :

١- الثورة الأمريكية .

.....  
.....

٢- سقوط حصن الباستيل .

.....  
.....

٣- الحرب العالمية الثانية من الناحية الاقتصادية .

.....  
.....

ب) عرف المفاهيم أو المصطلحات التالية :

١- العلاقات الدولية :

.....

٢- البلقان :

.....

٣- النازية :

.....

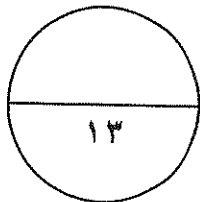
٤- فترة عصر الإرهاب :

.....

ج) من خلال دراستك لموضوع ( هيئة الأمم المتحدة ) كون فقرة مناسبة باستخدام الكلمات التالية :

( السلام العالمي - مؤتمر يالطا - الأمم المتحدة )

.....  
.....  
.....  
.....



السؤال الثالث ( اختياري ) يتكون من ( أ ، ب ، ج ) :

أ ) قارن بين كل من :

أوجه المقارنة	معركة ساراتوجا	معركة فالمي
الموقع	- .....	- .....
النتائج	- ..... - .....	- ..... - .....

ب ) دلل على صحة العبارات التالية :

١- مهد التوتر الدولي بعد الحرب العالمية الأولى لقيام الحرب العالمية الثانية.

- .....  
- .....

٢- اختلفت الحرب العالمية الثانية عن جميع الحروب التي سبقتها .

- .....  
- .....  
- .....

ج ) اقرأ الفقرة التالية ثم أجب عما يليها من أسئلة :

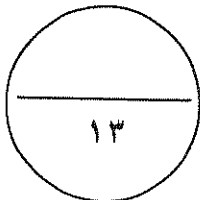
" هناك شبه إجماع بين المؤرخين على ضعف شخصية ملك فرنسا "لويس السادس عشر" (١٧٧٣/١٧٩١م) والذي لعبت زوجته "ماري أنطوانيت" دوراً كبيراً في إضعاف مكانته الشعبية وتوجيه سياسة البلاد على عكس "نابليون بونابرت" الذي أصبح رجل فرنسا الأول وأعطاهما مجداً بشكل لم تكن تتوقعه ووضع مشروعاً لتنظيم التعليم في كل أنحاء فرنسا والعمل على مجانية التعليم للفقراء خاصة التعليم الثانوي " .

١- ما الدور الذي لعبته "ماري أنطوانيت" في إضعاف مكانة "لويس السادس عشر" الشعبية ؟

- .....  
- .....

٢- استخرج من الفقرة السابقة الإصلاحات التي قام بها "نابليون" في مجال التعليم .

- .....  
- .....



السؤال الرابع ( اختياري ) يتكون من ( أ ، ب ، ج ) :

أ) اكتب الدور الذي لعبته الشخصيات التالية :

١- "روزفلت" في إصلاح الاقتصاد الأمريكي بين الحربين العالميتين .

..... -  
..... -

٢- الجنرال الروسي " زوكوف " في الحرب العالمية الثانية.

..... -

٣- " موسوليني " في إيطاليا.

..... -  
..... -

ب) فرق بين كل مما يلي :

حزب الجيرونديين	حزب اليعاقبة
.....	.....

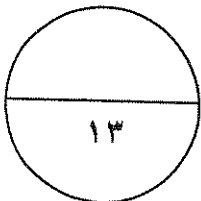
ج) عدد كل مما يلي :

١- أهم ملامح عالمنا المعاصر .

..... -  
..... -  
..... -


٢- النتائج السياسية للحرب العالمية الثانية .

..... -  
..... -  
..... -



السؤال الخامس ( اختياري ) يتكون من ( أ - ب - ج ) :

أ) لاحظ الصورة التي أمامك ثم أجب عن الأسئلة التالية :



١- اكتب الحدث التاريخي الذي تدل عليه الصورة المقابلة ؟

..... -

٢- في أي عام وقع هذا الحدث ؟

..... -

٣- عدد النتائج التي ترتبت على هذا الحدث.

..... -

..... -

ب) ما أوجه الاختلاف بين كل من :

مجلس اللوردات	مجلس العموم
.....-	.....-
.....	.....

ج) علل لما يلي :

١- قيام الثورة الشيوعية في روسيا عام ١٩١٧ م .

..... -

..... -

٢- وقفت عصبة الأمم عاجزة أمام القضايا المهمة .

..... -

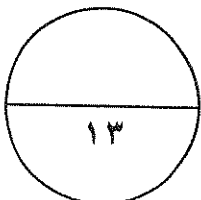
..... -

٣- كانت القارة الأوروبية محور العلاقات الدولية في بداية القرن العشرين .

..... -

..... -

..... -



( انتهت الأسئلة )

أجب عن ( أربعة ) أسئلة فقط على أن يكون السؤال الأول منها ( إجبارياً ) :

السؤال الأول : ( إجباري ) ويتكون من ( أ ، ب ، ج ، د ) :

( أ ) ضع خطأً تحت الخيار الصحيح من بين الخيارات التي تلي كل عبارة : ( ٥ درجات كل نقطة درجة )

١- قائل هذه العبارة " إننا هنا بإرادة الشعب ولن نبرح أماكننا إلا على أسنة الرماح " : ص ٨٧

أ- نيكر      ب- لافاييت      ج- نابليون      د- ميرابو

٢- المستعمرة الإنجليزية التي تأسست عام ١٦٠٧ م في أمريكا الشمالية : ص ٧٦

أ- بوسطن      ب- جيمس تون      ج- واشنطن      د- نيويورك

٣- الدولة التي وقعت على أراضيها معركة "الكنجستون" : ص ٨٠

أ- إنجلترا      ب- الاتحاد السوفيتي      ج- الولايات المتحدة الأمريكية      د- النمسا

٤- الملك الذي لجأ إلى فرنسا عام ١٦٨٩ م هرباً من رجال البرلمان الإنجليزي : ص ٧٤

أ- جيمس الأول      ب- جيمس الثاني      ج- جيمس الثالث      د- جيمس الرابع

٥- العام الذي عُقد فيه صلح باريس وبموجبه اعترفت بريطانيا باستقلال الولايات المتحدة الأمريكية : ص ٨٢

أ- ١٧٨٣ م      ب- ١٧٨٤ م      ج- ١٧٨٥ م      د- ١٧٨٦ م

( ب ) أكمل العبارات التالية بما يناسبها فيما درست :

( ٤ درجات كل نقطة درجة )


١- الإمبراطورية الإسلامية التي تفككت بعد الحرب العالمية الأولى اسمها الدولة العثمانية . ص ١٠٣

٢- المدينة التي يوجد بها مقر محكمة العدل الدولية اسمها لاهاي . ص ١١٧

٣- المدينة التي أعتقل فيها الملك " لويس السادس عشر " بعد محاولة هروبه الفاشلة اسمها فاران . ص ٨٩

٤- الدولة التي هاجمت السفن التجارية الأمريكية وكانت السبب في دخول الولايات المتحدة الحرب العالمية الأولى اسمها ألمانيا .

ص ١٠٠



التوجيه الفني العام للاجتماعيات

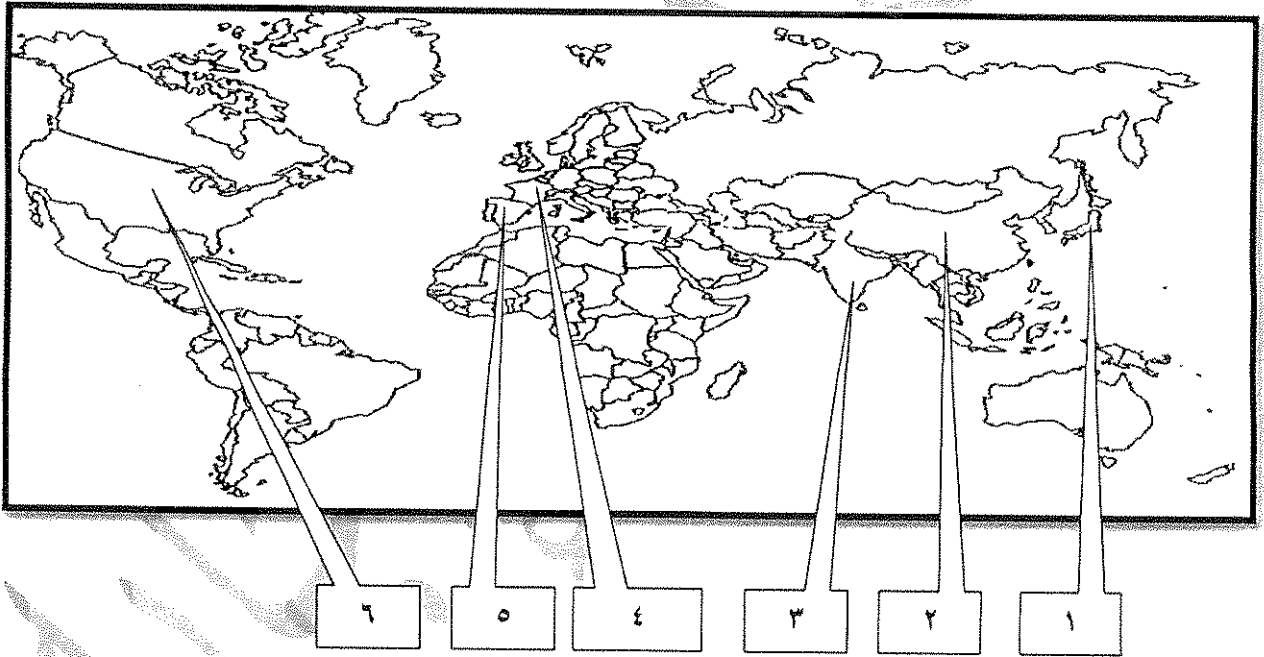


تابع السؤال الأول ( إجباري ) :

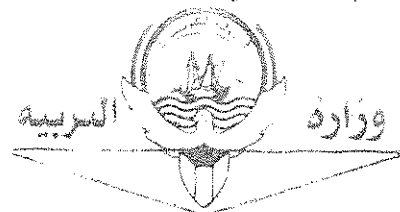
ج) اختر للمجموعة ( أ ) ما يرتبط بها من المجموعة ( ب ) بوضع الرقم المناسب :- ( ٤ درجات كل نقطة درجة )

م	المجموعة ( أ )	الرقم المناسب	المجموعة ( ب )
١	العام الذي اجتاح فيه هتلر بولندا . ص ١١٣	٢	١٩١٦م
٢	العام الذي حدثت فيه معركة فردان . ص ١٠١	٤	١٩١٩م
٣	العام الذي أصدر فيه إعلان استقلال المستعمرات في أمريكا عن إنجلترا . ص ٨١	١	١٩٣٩م
٤	العام الذي أنشأت فيه عصبة الأمم . ص ١٠٤	٣	١٧٧٦م
		-	١٧٧٧م

د) أمامك خريطة العالم الصماء - اكتب الرقم الدال على العبارات التالية : ( ٤ درجات كل نقطة درجة )



- الدولة التي يقع فيها المقر الرسمي للأمم المتحدة يمثلها على الخريطة الرقم ( ٦ ) . ص ٦ ( ١ )
- الدولة الآسيوية التي تعد أحد الأعضاء الدائمين في مجلس الأمن يمثلها على الخريطة الرقم ( ٢ ) . ص ١١١
- الدولة التي يجري على أرضها نهر " المارن " الشهير يمثلها على الخريطة الرقم ( ٤ ) . ص ١٠١
- الدولة التي ظهر فيها نظام ديكتاتوري بقيادة " فرانكو " يمثلها على الخريطة الرقم ( ٥ ) . ص ١٠١ - ١٠٨



السؤال الثاني ( اختياري ) يتكون من ( أ ، ب ، ج ) :

( ٦ درجات )

أ ) اكتب النتائج المترتبة على الأحداث التالية :

( يكتفى بنقطتين )

١- الثورة الأمريكية . ص ٨٣

- انتشرت عدواها إلى سكان أمريكا الجنوبية ( اللاتينية ) .
- تشجيع سكان المستعمرات البريطانية في آسيا وأفريقيا على القيام بثورات ضدها ليتخلصوا من استعمارها .
- أصبحت الولايات المتحدة ملاذاً لدعاة الفكر من الأوروبيين ورمزاً للحرية والتجديد .
- السبب المباشر في قيام الثورة الفرنسية .
- كانت سببا في حدوث الأزمة المالية في عهد الملك الفرنسي "لويس السادس عشر" .

( يكتفى بنقطتين )

٢- سقوط حصن الباستيل . ص ٨٨

- عمت الفوضى في كل فرنسا .
- توقف الفلاحون عن دفع الضرائب .
- هاجم الفلاحون قصور النبلاء وأحرقوها وقتلوا من فيها وأحرقوا الوثائق التي تعطيهم حقوقاً إقطاعية .
- هجرة النبلاء إلى خارج فرنسا هرباً بحياتهم .
- أصبح المهاجرون أكبر خطر على الثورة الفرنسية .

( يكتفى بنقطتين )

٣- الحرب العالمية الثانية من الناحية الاقتصادية . ص ١١٤

- كانت نفقات الحرب باهظة أدت إلى تحمل كثير من الدول ديوناً كبيرة .
- الدمار الذي حل بالمساكن والمصانع والطرق والمؤسسات .
- تحولت دول أوروبا إلى دول مستوردة بعد أن كانت دولاً مصدرة .

( ٤ درجات كل نقطة درجة )

ب ) عرف المفاهيم أو المصطلحات التالية :

١- العلاقات الدولية : الاتصالات بين الدول وبين المنظمات الدولية في جميع المجالات . ص ٩٧

٢- البلقان : اصطلاح سياسي يطلق على مجموعة دول أوروبا الشرقية ( يوغسلافيا السابقة - اليونان - بلغاريا - ألبانيا ) . ص ١٠٠

٣- النازية : كلمة ألمانية مختصرة لعبارة الاشتراكية الوطنية وهي التسمية التي أطلقها أدولف هتلر على

الحزب النازي . ص ١٠٧

٤- فترة عصر الإرهاب : الفترة الزمنية التي قتل فيها الكثير من الفرنسيين دون محاكمة عادلة وكانت تأخذ الناس بالشبهات ووجهت لهم تهمة الخيانة العظمى واستمرت حتى مارس ١٧٩٤ م . ص ٩١


ج ) من خلال دراستك لموضوع ( هيئة الأمم المتحدة ) كون فقرة مناسبة باستخدام الكلمات التالية :

( السلام العالمي - مؤتمر يالطا - الأمم المتحدة ) ( ص ١١٦ ( ٣ درجات )

دعا الحلفاء في نهاية الحرب العالمية الثانية إلى وقف الحروب ، واقترح الرئيس الأمريكي روزفلت

إنشاء منظمة عالمية لتحقيق السلام العالمي ، فاجتمع زعماء دول الحلفاء ( الولايات المتحدة - بريطانيا - الاتحاد

السوفيتي سابقا ) في مؤتمر يالطا عام ١٩٤٥ م الدول المحبة للسلام لحضور مؤتمر سان فرانسيسكو لإبرام ميثاق الأمم المتحدة



( وما يراه المصحح مناسباً )



السؤال الثالث ( اختياري ) يتكون من ( أ ، ب ، ج ) :

( ٤ درجات كل نقطة درجة )

( أ ) قارن بين كل من :

وجه المقارنة	معركة ساراتوجا ص ٨٢	معركة فالمي ص ٩٠
الموقع	أمريكا	فرنسا
النتائج	- خسر الإنجليز جيشا كاملا من ٦ آلاف جندي واستسلم . - سيطر الأمريكيون على حوض هدسون . - اعترف فرنسا باستقلال الثوار الأمريكيين ودخل الحرب إلى جانبهم . - زاد تعاطف الشعوب الأوروبية مع الثورة الأمريكية . ( يكتفى بنقطة )	- أنقذت أفكار الثورة الفرنسية من الضياع . - حالت دون سقوط باريس . - رفعت الروح المعنوية للفرنسيين . - تحول جيش الثورة بعدها من الدفاع إلى الهجوم وأصبح مصدر رعب للدول الأوروبية . ( يكتفى بنقطة )

( ٥ درجات كل نقطة درجة )

ب ( دلل على صحة العبارات التالية :



١- مهد التوتر الدولي بعد الحرب العالمية الأولى لقيام الحرب العالمية الثانية . ص ١٠٩ + ١٠٤  
تمكن كل من النظام الفاشي في إيطاليا والنازي في ألمانيا من بناء جيوش قوية واستغل ضعف الأنظمة الديمقراطية لتحقيق أهدافه التوسعية ومنها:

- احتلال موسوليني أثيوبيا عام ١٩٣٦ م .
- احتلال هتلر منطقة الراين ١٩٣٦ م .
- مساندة هتلر وموسوليني نظام فرانكو في إسبانيا ١٩٣٩/١٩٣٨ م .
- ضمت ألمانيا إليها كل من النمسا وطالبت بضم منطقة السوديت في تشيكوسلوفاكيا .
- اعترضت بريطانيا وفرنسا على هذه الخطوة وعقد مؤتمر ميونخ ١٩٣٨ م .
- هاجمت اليابان منشوريا في الصين .

( يكتفى بنقطتين )

( يكتفى بثلاث نقاط )

- ٢- اختلفت الحرب العالمية الثانية عن جميع الحروب التي سبقتها . ص ١١٣ + ص ١١٤
- حرب عالمية شاملة شملت معظم دول العالم بالاشتراك المباشر أو بالتخالف مع الدول .
  - تسخير الطاقات البشرية حيث سخرت دول المحور أسرى الحروب للعمل في المصانع والحقول ودفع الحلفاء بالإنانث للعمل في هذا المجال بدل الرجال وفتحت الولايات المتحدة باب الهجرة للعمل .
  - مواجهة بين أيديولوجيات وصراع بين نظريات دكتاتورية عنصرية تبنتها دول المحور بينما تبني الحلفاء الديمقراطية التي تنادي بالمساواة وحقوق الإنسان .
  - تنافس صناعي سخرت جميع الدول المشتركة في الحرب مقدراتها ومقدرات الشعوب التي احتلتها بهدف تطوير الإنتاج الصناعي الحربي وتطوير الاقتصاد .
  - سباق تسليح تكنولوجي لتطور أساليب القتال والأسلحة فاستخدمت التكنولوجيا في الأرض والجو والبحر فكان الدمار أكبر وشمل جميع المجالات .





لتوجيه الفني العام للأجتماعيات

**ج) اقرأ الفقرة التالية ثم أجب عما يليها من أسئلة :** ( ٤ درجات كل نقطة درجة )

" هناك شبه إجماع بين المؤرخين على ضعف شخصية ملك فرنسا "لويس السادس عشر" (١٧٧٣/١٧٩١م) والذي لعبت زوجته "ماري أنطوانيت" دوراً كبيراً في إضعاف مكانته الشعبية وتوجيه سياسة البلاد على عكس "نابليون بونابرت" الذي أصبح رجل فرنسا الأول وأعطاهما مجداً بشكل لم تكن تتوقعه ووضع مشروعاً لتنظيم التعليم في كل أنحاء فرنسا والعمل على مجانية التعليم للفقراء خاصة التعليم الثانوي "

- ١- ما الدور الذي لعبته "ماري أنطوانيت" في إضعاف مكانة "لويس السادس عشر" الشعبية ؟ ص ٨٤ (يكتفى بنقطتين)
  - اشتركتها في المؤامرات التي تعين وتعزل الوزراء .
  - عدم إحساسها بما يعاني الشعب الفرنسي من آثار المجاعة مما خلق شعوراً عاماً بالاستياء لدى الشعب .
  - يرى الشعب الفرنسي فيها عدوة لأنها نمساوية الأصل .
- ٢- استخرج من الفقرة السابقة الإصلاحات التي قام بها "نابليون" في مجال التعليم . ص ٩٣
  - وضع مشروعاً لتنظيم التعليم في كل أنحاء فرنسا .
  - العمل على مجانية التعليم للفقراء خاصة التعليم الثانوي .



**السؤال الرابع ( اختياري ) يتكون من ( أ ، ب ، ج ) :**

( ٥ درجات كل نقطة درجة )

**( أ ) اكتب الدور الذي لعبته الشخصيات التالية :**

- ١- " روزفلت " في إصلاح الاقتصاد الأمريكي بين الحربين العالميتين . ص ١٠٥ ( يكتفى بنقطين )  
 - تبنى سياسة اقتصادية جديدة فوضع خططا عرفت بالنظام الجديد . تقوم على الدخول في مشاريع كبرى بهدف تشغيل أكبر عدد ممكن من العمال لحل مشكلة البطالة .  
 - التوسع في المشاريع الإنمائية وبهذا خرج على السياسة الاقتصادية التي كانت تسير عليها بلاده من ( الاقتصاد الرأسمالي الحر ) إلى ( اقتصاد رأسمالي موجه ) .  
 - أعاد الثقة في قطاع البنوك والمؤسسات الكبرى حتى أخذت العجلة الاقتصادية في العمل من جديد ولكن الكساد الاقتصادي استمر حتى قيام الحرب العالمية الثانية .

٢- الجنرال الروسي ( زوكوف ) في الحرب العالمية الثانية . ص ١١٢

- تقدم بالقوات الروسية بعد معركة ستالينجراد حتى احتل برلين .

٣- " موسوليني " في إيطاليا . ص ١٠٨ ( يكتفى بنقطين )

- وصل إلى الحكم عام ١٩٢٢م . - الزحف إلى روما واستولى على السلطة .



( درجتان كل نقطة درجة )

**( ب ) فرق بين كل مما يلي :**

حزب الليعاقبة ص ٩١	حزب الجيرونود ص ٩١
- حزب من المتطرفين المعروفين بعدائهم الشديد للملكية ، ويمتازون بأنهم أقلية شديدة التنظيم ذات اتصال قوي بالشعب وبجمهور باريس الذي كانت له اليد الطولى لإثارة الشارع في فرنسا .	- حزب من المعتدلين في فرنسا .
	وزارة التربية

( 6 درجات كل نقطة درجة )

**( ج ) عدد كل مما يلي حسب جيبه الزمني العام للاحداثيات :**


( يكتفى بثلاث نقاط )

١- أهم ملامح عالمنا المعاصر . ص ١١٥

- مخاوف من حرب نووية واتفاقيات "سالت" لوقف التسلح واستخدام الأسلحة الفتاكة .  
 - هيئة الأمم المتحدة لحفظ السلام والأمن والتعاون بين دول العالم .  
 - ظهور الولايات المتحدة زعيمة الكتلة الغربية الرأسمالية ثم القوة الأعظم بعد تفكك الاتحاد السوفيتي .  
 - تقدم أوروبا في كافة المجالات وتفعيل مشروع مارشال ثم المجموعة الأوروبية ثم الإتحاد الأوروبي .  
 - اليابان قوة اقتصادية عظيمة .  
 - تقدم علمي وانفجار معرفي .  
 - ظهور دول نامية ومتخلفة اقتصادياً واجتماعياً .  
 - فجوة علمية اقتصادية بين الدول المتقدمة والنامية .  
 - زيادة سكانية هائلة .  
 ٢- النتائج السياسية للحرب العالمية الثانية . ص ١١٤ ( يكتفى بثلاث نقاط )  
 - تغيرت خريطة أوروبا السياسية وجرى تعديل على كثير من الحدود .  
 - تراجعت مكانة دول أوروبا ( بريطانيا وفرنسا ) إلى الدرجة الثانية وتقلص نفوذها الاستعماري .  
 - انتهت الديكتاتوريات في إيطاليا وألمانيا واليابان .  
 - قامت أنظمة شيوعية في دول أوروبا الشرقية وظلت قائمة قائمة بمساعدة الإتحاد السوفيتي وسقطت مع سقوطه .  
 - انقسام ألمانيا بعد احتلالها إلى قسمين شرقي يتبع النظام الرأسمالي وشرقي يتبع النظام الشيوعي ، وقسمت برلين إلى قسمين يفصلهما جدار عازل .  
 - لم تصب إيطاليا بخسائر مباشرة في أراضيها وإنما فقدت كل مستعمراتها .  
 - فقدت اليابان كل ممتلكاتها التي حصلت عليها منذ القرن التاسع ودمرت أراضيها .  
 - برز قطبان جديان في العالم هما الولايات المتحدة والاتحاد السوفيتي ( سابقاً ) باعتبارهما أقوى دولتين في العالم .

السؤال الخامس ( اختياري ) يتكون من ( أ - ب - ج ) :

( ٤ درجات كل نقطة درجة )



- ١- اكتب الحدث التاريخي الذي تدل عليه الصورة المقابلة ؟  
ص ٧٩  
- حفلة شاي بوسطن .
- ٢- في أي عام وقع هذا الحدث ؟ ص ٧٩  
- ١٧٧٣ م .
- ٣- عدد النتائج التي ترتبت على هذا الحدث . ص ٧٩  
- اغلاق ميناء بوسطن حتى يتم دفع ثمن الشاي .  
- تعيين الجنرال جينج حاكما عسكريا على بوسطن .  
- منع الاجتماعات الإباذن من السلطات العسكرية الإنجليزية  
وقد عرفت تلك القوانين باسم القوانين الجائرة . ( يكتفى بنقطتين )

( درجتين كل نقطة درجة )

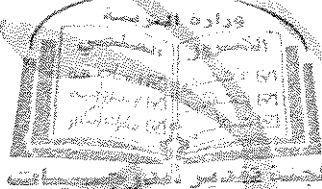
ص ٧٥

( ب ) ما أوجه الاختلاف بين كل من :

مجلس العموم	مجلس اللوردات
- يضم نواب الطبقتين الوسطى الزراعية والوسطى في المدن البرجوازية. - ينتخبهم الشعب. - يمثل الديمقراطية في أجل صورها. ( يكتفى بنقطة )	- يضم نواب الطبقتين الأرستقراطية الإقطاعية ورجال الدين. - يعينهم الملك الإنجليزي - يمثل الارستقراطية الإنجليزية. ( يكتفى بنقطة )

( ٧ درجت كل نقطة درجة )

( يكتفى بنقطتين )



( ج ) علل لما يلي :

- ١- قيام الثورة الشيوعية في روسيا عام ١٩١٧ م . ص ١٠٦  
- فساد الحكم القيصري في روسيا واستبداده .  
- شخصية " لينين " وقدرته على إقناع الجماهير من خلال بعض شعاراته ( السلام للحيش - الأرض للفلاحين - الغذاء للجميع - الحكم للسوفيت ) وتنظيم الحزب الشيوعي .  
- الهزائم الكبرى التي حلت بالحيش الروسي منذ عام ٩٠٥ م على يد اليابان ثم الحرب العالمية الأولى وسقوط ملايين من الجرحى والقتلى .  
- سوء الحالة الاقتصادية التي تأثر بها العمال والفلاحون وانتشار البطالة والمجاعات والأمراض .
- ٢- وقفت عصبة الأمم عاجزة أمام القضايا المهمة . ص ١٠٤  
- عدم التزام الدول الكبرى بميثاق عصبة الأمم .  
- لم يكن لها قوة عسكرية قادرة على تنفيذ قراراتها .  
- أصبحت أداة لمصلحة الدول الكبرى في ذلك الوقت فانهارت هذه المنظمة نتيجة لسياسية الدول المنتصرة في الحرب .  
- لم تشارك الولايات المتحدة في عضويتها على الرغم من أنها صاحبة الفكرة .

( يكتفى بنقطتين )

٣- كانت القارة الأوروبية محور العلاقات الدولية في بداية القرن العشرين . ص ٩٧

( يكتفى بثلاث نقاط )

السريبيد

ورارد

- نشوء الإمبراطوريات الكبرى .
- وفرة الموارد والإمكانات الاقتصادية .
- النفوذ الاستعماري في جميع القارات .



أجب عن أربعة أسئلة مما يلي على أن يكون السؤال الأول من بينهما إجبارياً :-

السؤال الأول : ( إجباري ) يتكون من ( أ ، ب ، ج ، د ) :-

( أ ) ضع خطأً تحت الخيار الصحيح من بين الخيارات التي تلي كل عبارة :-

١- زعيم أمريكي قدم اقتراح يدعو فيه المستعمرات لإعلان الاستقلال عن إنجلترا :

أ- جيمس                      ب- لي                      ج- فرانك                      د- وليم

٢- معركة انتصر فيها الجيش الفرنسي على القوات المشتركة عام ١٧٩٢م :

أ- فالمي                      ب- السنين السبع                      ج- فردان                      د- المارن

٣- زعيم للنظام العالمي الاشتراكي الذي نجح في تحقيق النهضة الشاملة :

أ- أتاتورك                      ب- ستالين                      ج- فرانكو                      د- هتلر

٤- العام الذي احتل فيه الحلفاء إيطاليا :

أ- ١٩٤٢م                      ب- ١٩٤٣م                      ج- ١٩٤٤م                      د- ١٩٤٥م

٥- نظام أقامة موسوليني في إيطاليا بعد وصوله للحكم عام ١٩٢٢م :

أ- النازي                      ب- الشيوعي                      ج- الرأسمالي                      د- الفاشي

( ب ) أكمل العبارات التالية بما يناسبها فيما درست :-

١- نظرية جون لوك المعروفة التي أثرت في تطور النظريات السياسية تسمى.....

٢- الكتاب الذي ألفه روسو طالب فيه أن يكون الحكم للشعب يسمى .....

٣- صاحب شعار ( السلام للجيش - الأرض للفلاحين - الغذاء للجميع ) اسمه .....

٤- حلف وقعه هتلر مع موسوليني في أغسطس عام ١٩٣٩م يسمى.....

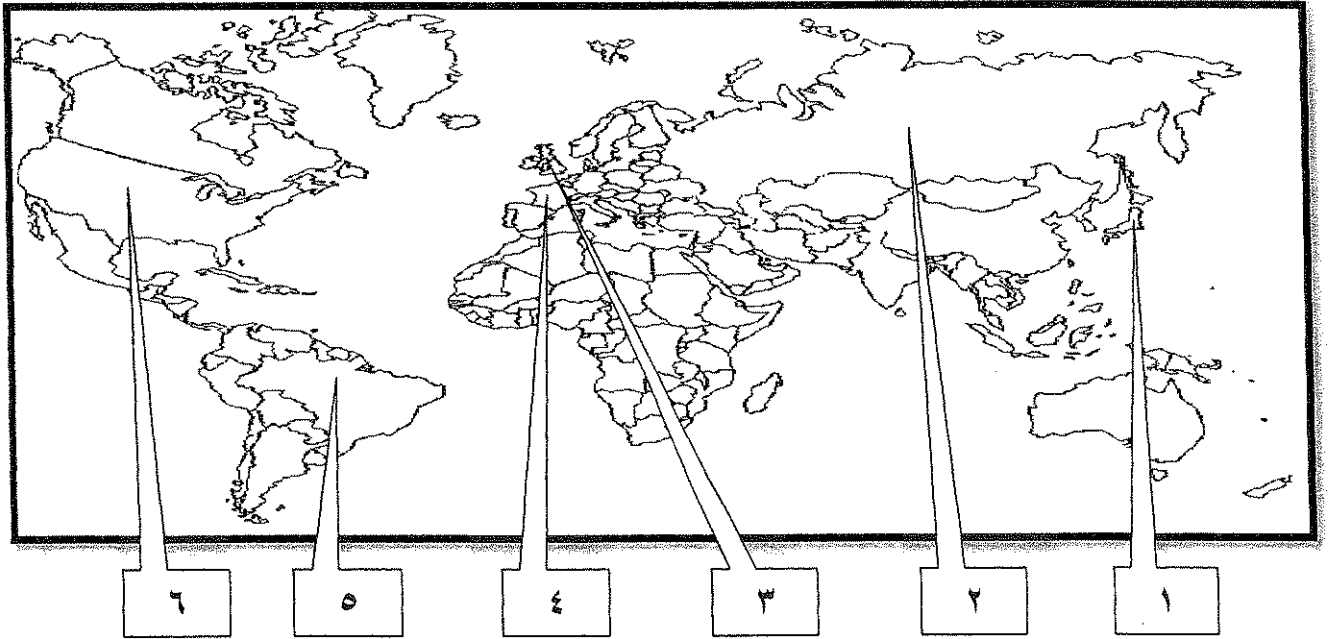
٥- العام الذي افتتحت فيه هيئة الأمم المتحدة رسمياً .....

تابع السؤال الأول ( إجباري ) :-

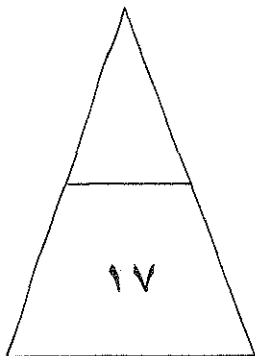
(ج) اختر للمجموعة ( أ ) ما يرتبط بها من المجموعة ( ب ) بوضع الرقم المناسب :-

م	المجموعة ( أ )	الرقم المناسب	المجموعة ( ب )
١	تنازل فرنسا لإنجلترا عن جميع مستعمراتها .		معاهدة كامبو فروميو
٢	اعتراف بريطانيا باستقلال الولايات المتحدة الأمريكية .		السنة الانقلاية
٣	انتصارات نابليون على الجيش النمساوي في إيطاليا .		حرب السنين السبع
٤	التقارب البريطاني الفرنسي لشعورهم بخطر تقدم ألمانيا صناعيا .		اجتياح بولندا
٥	رفض إعادة ممر دانزيغ .		صلح باريس ١٧٨٣ م
			الاتفاق الودي

(د) أمامك خريطة العالم الصماء - اكتب الرقم الدال على العبارات التي تليها :-



- الدولة التي قامت فيها الثورة المجيدة يمثلها على الخريطة الرقم ( ) .
- يقع حصن الباستيل في دولة يمثلها على الخريطة الرقم ( ) .
- دولة هاجمت ميناء بيرل هاربر ودمرت الأسطول الأمريكي يمثلها على الخريطة الرقم ( ) .
- الدولة التي يقع فيها المقر الرسمي للأمم المتحدة يمثلها على الخريطة الرقم ( ) .





السؤال الثاني ( اختياري ) ويتكون من ( أ ، ب ، ج ) :-

( أ ) علل لما يلي :-

١- ظهور الخلافات بين الملك جيمس الثاني والبرلمان الإنجليزي .

..... \*

..... \*

..... \*

٢- دخول الولايات المتحدة الحرب عام ١٩١٧م ضد ألمانيا .

..... \*

٣- تقارب فرنسا وبريطانيا في الاتفاق الودي عام ١٩٠٤م .

..... \*

(ب) قارن بين كل من حسب الجدول التالي :-

أوجه المقارنة	الحاكم في المستعمرات الانجليزية	المجلس النيابي في المستعمرات الانجليزية
المهام	..... *	..... *
أوجه المقارنة	الشيوعية	النازية
المبادئ	..... *	..... *

(ج) عرف المفاهيم التالية :-

١- حزب اليعاقبة :

.....

٢- الاتفاقات الدولية :

.....

السؤال الثالث ( اختياري ) ويتكون من ( أ ، ب ، ج ) :-

أ) اقرأ الفقرة التالية ثم أجب عما يليها من أسئلة :-

" ارتفعت الصيحات من جميع أنحاء البلاد ضد القوانين الجديدة بقيادة الزعيم الأمريكي ( صاموئيل أدامز ) وتركزت صيحات الغضب في مدينة بوسطن ، فلجأ الأمريكيون لسلاح المقاطع التجارية مما كبد إنجلترا خسائر فادحة فأصدرت الحكومة الإنجليزية قراراً بإلغاء جميع الضرائب الجديدة ( سيئة السمعة ) ما عدا ضريبة الشاي "

١- استخرج من الفقرة النتيجة المترتبة على مقاطعة الأمريكيان البضائع الإنجليزية .

..... \*

٢- استنتج سبب إلغاء الحكومة الإنجليزية للقوانين سيئة السمعة ما عدا ضريبة الشاي .

..... \*

٣- عدد القرارات التي اتخذها البرلمان الإنجليزي لمعاقبة ميناء بوسطن .

..... \*

..... \*

ب) عدد كل مما يلي :-

١- أجهزة الأمم المتحدة.

..... \*

..... \*

٢- بنود مؤتمر صلح فرساي عام ١٩١٩ م .

..... \*

..... \*

ج) فند كل مما يلي :-

١- لم تلعب الجمعية الوطنية دوراً في الإصلاحات الفرنسية .

..... \*

..... \*

..... \*

٢- لم يؤثر انهيار سوق الأوراق المالية عام ١٩٢٩ م على التجارة الخارجية والإنتاج العالمي .

..... \*

..... \*

السؤال الرابع ( اختياري ) يتكون من ( أ ، ب ، ج ) :-

( أ ) فسر ما يلي :-

١- لقبث الثورة الفرنسية بالنموذج الشامل للثورة .

\*

\*

٢- عجز عصبة الأمم من حل بعض المشكلات المهمة .

\*

٣- انسحاب روسيا من الحرب العالمية الأولى عام ١٩١٧ م .

\*

( ب ) فرق بين كل مما يلي :-

الفاو	اليونسكو
* ..... .....	* ..... .....
النتائج العلمية للحرب العالمية الثانية	النتائج البشرية للحرب العالمية الثانية
* ..... .....	* ..... .....

( ج ) أذكر لكل من :-

١- قرارات اجتماع الكونجرس الأول سنة ١٧٧٤ م .

\*

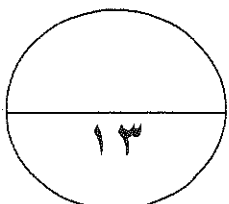
\*

\*

٢- أوجه الشبه بين معركتي ستالينجراد والعلمين .

\*

\*



السؤال الخامس ( اختياري ) يتكون من ( أ ، ب ، ج ) :-

( أ ) دال على صحة العبارات التالية :-

١- يعتبر العامل الاقتصادي أحد عوامل قيام الثورة الفرنسية .

.....\*

.....\*

٢- اختلفت الحرب العالمية الثانية عن غيرها من الحروب.

.....\*

.....\*

.....\*

( ب ) نفذ المطلوب منك بين القوسين :-

١- نابليون بونابرت . ( إصلاح التعليم )

.....\*

.....\*

٢- ملامح عالمنا المعاصر . ( أذكرها )

.....\*

.....\*

( ج ) عدد النتائج المترتبة على الأحداث التالية :-

١- الحرب العالمية الأولى.

.....\*

.....\*

٢- معركة فالمي.

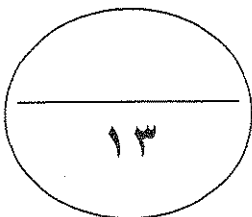
.....\*

.....\*

انتهت الأسئلة مع تمنياتنا

لكم بالتوفيق "

( ٦ )





وزارة التربية

التوجيه الفني العام للاجتماعيات

امتحان نهاية الفترة الدراسية الثانية  
لمادة تاريخ العالم الحديث والمعاصر  
للمصف الثاني عشر الأدبي

العام الدراسي: ٢٠١٧-٢٠١٨ م  
الزمن : ساعتان وربع  
عدد الأوراق: (٦) أوراق

أجب عن أربعة أسئلة مما يلي على أن يكون السؤال الأول من بينهما إجباريا :

السؤال الأول: ( إجباري ) يتكون من ( أ ، ب ، ج ، د ) :-

( أ ) ضع خطا تحت الخيار الصحيح من بين الخيارات التي تلي كل عبارة :- (٥ درجات كل نقطة درجة)

١- زعيم أمريكي قدم اقتراح يدعو فيه المستعمرات لإعلان الاستقلال عن إنجلترا : ص ٨١

أ- خميس      ب- لي      ج- فرانك      د- وليم

٢- معركة انتصر فيها الجيش الفرنسي على القوات المسلحة لـ : ص ٩٠

أ- فالمي      ب- الجيش السلطاني      ج- فردان      د- المارن

٣- زعيم للنظام العالمي الاشتراكي الذي توفي في تحقيق النجدة الشاملة : ص ١٠٦

أ- أتاتورك      ب- ستالين      ج- فرانكو      د- هتلر

٤- العام الذي احتل فيه الحلفاء إيطاليا : ص ١١٢

أ- ١٩٤٢ م      ب- ١٩٤٣ م      ج- ١٩٤٤ م      د- ١٩٤٥ م

٥- نظام إقامة موسوليني في إيطاليا بعد وصوله للحكم عام ١٩٢٢ م : ص ١٠٨

أ- النازي      ب- الشيوعي      ج- الرأسمالي      د- الفاشي

(ب) أكمل العبارات التالية بما يناسبها فيما درست :- (٥ درجات كل نقطة درجة)

١- نظرية جون لوك المعروفة التي أثرت في تطور النظريات السياسية تسمى السيادة الشعبية ص ٧٦

٢- الكتاب الذي ألفه روسو طالب فيه أن يكون الحكم للشعب يسمى العقد الاجتماعي . ص ٨٥

٣- صاحب شعار ( السلام للجيش - الأرض للفلاحين - الغذاء للجميع ) اسمه لينين . ص ١٠٦

٤- حلف وقعه هتلر مع موسوليني في أغسطس عام ١٩٣٩ م يسمى الحلف الفولاذي . ص ١٠٩

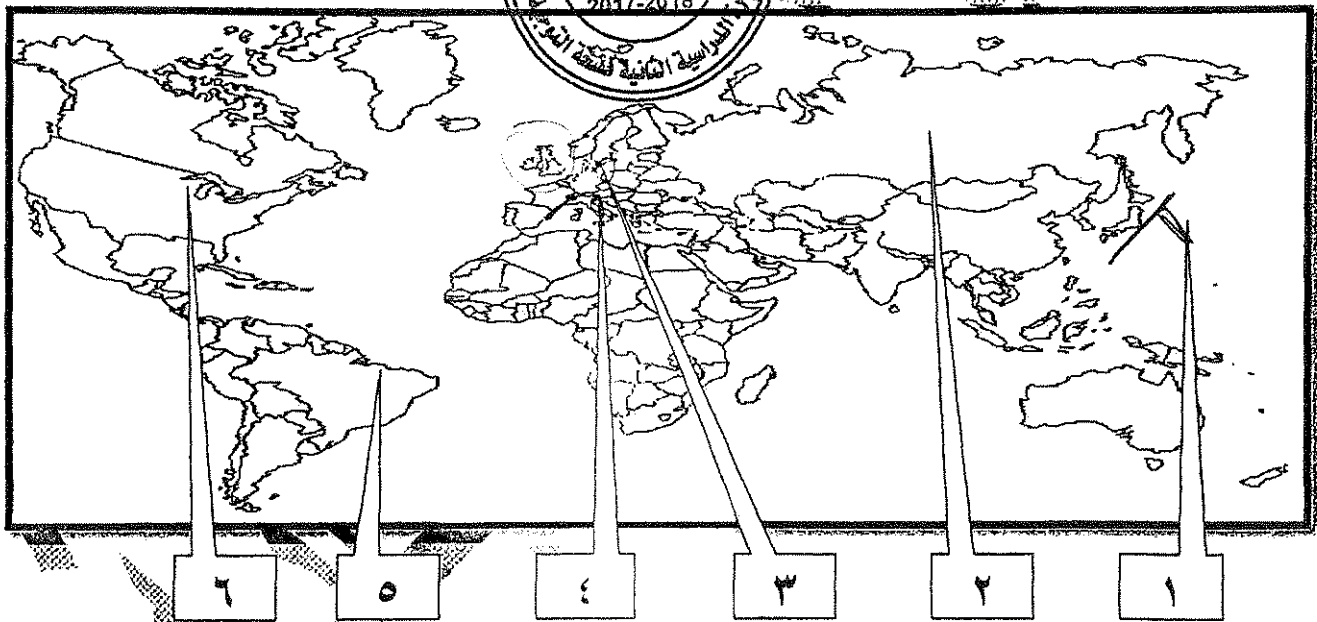
٥- العام الذي افتتحت فيه هيئة الأمم المتحدة رسميا ١٩٤٥ م . ص ١١٦

تابع السؤال الأول ( إجباري ) :-

(ج) اختر للمجموعة ( أ ) ما يرتبط بها من المجموعة ( ب ) بوضع الرقم المناسب :- ( ٥ درجات كل نقطة درجة

م	المجموعة ( أ )	الرقم المناسب	المجموعة ( ب )
١	تنازل فرنسا لإنجلترا عن جميع مستعمراتها . ص ٧٧-	٣	معاهدة كامبو فروميو
٢	اعتراف بريطانيا باستقلال الولايات المتحدة الأمريكية . ص ٨٢	-	السنة الانقلابية
٣	انتصارات نابليون على الجيش النمساوي في إيطاليا . ص ٩٢	١	حرب السنين السبع
٤	التقارب البريطاني الفرنسي لشعورهم بخطر تقدم ألمانيا صناعياً . ص ٩٨	٥	اجتياح بولندا
٥	رفض إعادة ممر دانزيغ . ص ١١٠	٢	صلح باريس ١٧٨٣ م
		٤	الاتفاق الودي

(د) أمامك خريطة العالم الصماء اكتب الرقم بإدال على العناوين التي تليها :- (درجتان كل نقطة نصف درجة)



- ١- الدولة التي قامت فيها الثورة المجيدة يمثلها على الخريطة رقم ( ٣ ) .
- ٢- يقع حصن الباستيل في دولة يمثلها على الخريطة رقم ( ٤ ) .
- ٣- دولة هاجمت ميناء بيرل هاربر ودمرت الأسطول الأمريكي يمثلها على الخريطة رقم ( ١ ) .
- ٤- الدولة التي يقع فيها المقر الرسمي للأمم المتحدة يمثلها على الخريطة رقم ( ٦ ) .

١٧٨٣

السؤال الثاني (اختياري) ويتكون من ( أ ، ب ، ج ) :-

(أ) علل لما يلي:-

١- ظهور الخلافات بين الملك جيمس الثاني والبرلمان الإنجليزي. صفحة ٧٣ ثلاثة درجات

\* الكاثوليكية

\* الحكم المطلق.


\* التعاون مع لويس الرابع عشر ملك فرنسا.

٢- دخول الولايات المتحدة الحرب عام ١٩١٧م ضد ألمانيا. ص ١٠٠ (يكتفى بوحدة)

\* بسبب مهاجمة الغواصات الألمانية السفن التجارية الأمريكية.

٣- تقارب فرنسا وبريطانيا في الاتفاق الودي عام ١٩٠٤م. ص ٩٧ (يكتفى بوحدة)

\* لتفاديها بالخطر من الهجوم الألماني الاقتصادي والاقصادي ونمو قوتها البحرية مما يهدد سيادتها.



(ب) قارن بين كل من ( أ ، ب ) درجات كل نقطة من نقطة

أوجه المقارنة	الخاكم في المستعمرات الألمانية في ص ٧٧	المجلس النيابي في المستعمرات الانجليزية ص ٧٧
المهام	* المشنول الأول عن رعاية شؤون الولاية والمحافظة على الأمن ويعين ويعزل من خلال الملك الإنجليزي فقط. (درجة)	* يقوم بسن القوانين والضرائب ومراقبة الموظفين في الولاية. (درجة)
أوجه المقارنة	الشيوعية ص ١٠٦	النازية ص ١٠٧
المبادئ	* سيطرة الدولة على جميع مصادر الثروة ووسائل الإنتاج. * إلغاء الملكية الخاصة وإشراف الدولة على التخطيط الاقتصادي. * تحقيق العدالة الاجتماعية بين أفراد الشعب. * محو الفوارق بين القوميات في روسيا. (يكتفى بنقطتين)	* تفوق العنصر البشري الجرمانى (الألماني) على جميع العناصر البشرية. * قيام ألمانيا الكبرى التي تضم كل الألمان. * امتلاك الدولة للشركات الاحتكارية. * إلغاء معاهدة فرساي. * استعادة المستعمرات الألمانية. (يكتفى بنقطتين)

(ج) عرف المفاهيم التالية (درجتان كل نقطة درجة)

١- حزب اليعاقبة : ص ٩١ (درجة)

\* حزب من المتطرفين المعروفين بعدائهم الشديد للملكية في فرنسا.

٢- الاتفاقات الدولية : ٩٧ (درجة)

\* تشريعات يتفق عليها دوليا وهي مقننة تلتزم الدول المشتركة بها.

السؤال الثالث ( اختياري ) يتكون من ( أ ، ب ، ج ) :-

( أ ) اقرأ الفقرة التالية ثم أجب عما يليها من أسئلة :- ص (٧٩) (٤ درجات كل نقطة درجة)

" ارتفعت الصيحات من جميع أنحاء البلاد ضد القوانين الجديدة بقيادة الزعيم الأمريكي (صامونيل أدامز) وتركزت صيحات الغضب في مدينة بوسطن ، فلجأ الأمريكيون لسلاح المقاطعة التجارية مما كبد إنجلترا خسائر فادحة فأصدرت الحكومة الإنجليزية قراراً بإلغاء جميع الضرائب الجديدة (سنة السمعة) ما عدا ضريبة الشاي "

١- استخرج من الفقرة النتيجة المترتبة على مقاطعة الأمريكيان البضائع الإنجليزية. (درجة)

\* أصاب إنجلترا خسائر اقتصادية فادحة حيث تراجعت صادرات إنجلترا للمستعمرات إلي النصف وتراجع البرلمان الإنجليزي عن تلك الضرائب التي أثارت الشعب الأمريكي .

٢- استنتج سبب إلغاء الحكومة الإنجليزية للقوانين سنة السمعة ما عدا ضريبة الشاي. (درجة)

\* ليبقى حتى البرلمان الإنجليزي في فرض الضرائب على المستعمرات قائماً .

٣- عدد القرارات التي اتخذها البرلمان الإنجليزي لمعاقبة ميناء بوسطن. (يكتفى بنقطتين)

\* إغلاق ميناء بوسطن حتى يتم دفع ثمن الشاي . \* تعيين الجنرال جيدج حاكماً عسكرياً على بوسطن .

\* منع الاجتماعات إلا بإذن من السلطات العسكرية الإنجليزية .

( ب ) عدد كل مما يلي :- (٤ درجات كل نقطة درجة)

١- أجهزة الأمم المتحدة .

\* الجمعية العامة (العمومية)

\* محكمة العدل الدولية .

\* الأمانة العامة .

٢- بنود مؤتمر صلح فرساي عام ١٩١٩ ص (١٠٣) (يكتفى بنقطتين)

\* تفكك إمبراطوريات عريقة مثل ( الألمانية / النمسا / الروسية / الدولة العثمانية ) وظهور دول قومية جديدة في أوروبا مثل ( بولندا / تشيكوسلوفاكيا / يوغسلافيا / المجر ) . \* أن تتحمل ألمانيا مسؤولية الحرب حيث فرضت عليها دفع تعويضات مالية كبيرة للتحفظ . \* تخفيض عدد الجيش الألماني ومنع ألمانيا من تصنيع أو اقتناء الأسلحة العسكرية .

\* اقتطاع أجزاء من ألمانيا وضمها لدول أخرى . \* وضع إقليم الساي تحت الإدارة الدولية .

( ج ) فند كل مما يلي :- (٥ درجات كل نقطة درجة)

١- لم تلعب الجمعية الوطنية دوراً في الإصلاحات الفرنسية . ص (٨٨) (يكتفى بنقطة نقطتين)

\* إصدار وثيقة الحقوق الفرنسية ودستور ١٧٩١ م .

\* قسمت فرنسا إلي محافظات جغرافية وليس على أساس طبقي .

\* ألغت النظام القضائي القديم وأصبح منصب القاضي انتخابياً .

\* وزعت الضرائب على أساس التساوي بين جميع الأفراد طبقاً لدخل الفرد .

\* صدور قرار بمصادرة أملاك الكنيسة .

٢- لم يؤثر انهيار سوق الأوراق المالية عام ١٩٢٩ م على التجارة الخارجية والإنتاج العالمي . ص ١٠٥

\* أغلقت المصانع . \* وانتشرت البطالة . \* وانهارت البنوك والمؤسسات . (يكتفى بنقطتين)



السؤال الرابع ( اختياري ) يتكون من ( أ ، ب ، ج ) :-

- ( أ ) فسر كلاً مما يلي : (٤ درجات كل نقطة درجة) <sup>اصنوه</sup>
- ١- لقبث الثورة الفرنسية بالنموذج الشامل للثورة (٨٣ يكتفى بنقطتين) \* أعطت مفاهيم جديدة للعالم .  
غيرت الثورة و شملت التمييز جميع مناحي الحياة \* وضعت في حيز التنفيذ مبادئ عامة كانت قبلها مجرد نظريات / الفرنسية \* لم يكن التمييز
  - ٢- عجز عصبة الأمم من حل بعض المشكلات المهمة . ص ١٠٤ (درجة) قاصراً على فرنسا وأوروبا  
\* بسبب عدم التزام الدول الكبرى بميثاق العصبة  
\* لم يكن للعصبة قوة عسكرية قادرة على تنفيذ قراراتها  
ل تصدي إلى جميع العالم
  - ٣- انسحاب روسيا من الحرب العالمية الأولى عام ١٩١٧ م . ص ١٠١ (درجة)  
\* بسبب قيام الثورة الشيوعية .



( ب ) فرق بين كل مما يلي : (٤ درجات كل نقطة درجة)

الفوا ص ١١٨	اليونسكو ص ١١٨
* هي منظمة الأمم المتحدة للتربية والعلوم والثقافة * منظمة الأمم المتحدة للأغذية والزراعة تساعد على تقوم بتعزيز التعاون الدولي في مجالات التربية والثقافة لتطورها وتحقيق قدر أكبر من التفاهم والعلم والثقافة بين الأمم . (درجة)	* هي منظمة الأمم المتحدة للتربية والعلوم والثقافة * منظمة الأمم المتحدة للأغذية والزراعة تساعد على تقوم بتعزيز التعاون الدولي في مجالات التربية والثقافة لتطورها وتحقيق قدر أكبر من التفاهم والعلم والثقافة بين الأمم . (درجة)
النتائج العلمية للحرب العالمية الثانية ص ١١٤	النتائج البشرية للحرب العالمية الثانية ص ١١٤
* كانت احتياجات الحرب دافعا للتطور العلمي التقني في مجال الأسلحة والمواصلات بأنواعها والطب والطباعة ووسائل الاتصالات . (درجة)	* سقط ٥٠ مليون قتيل وشرد الملايين في أوروبا واليابان وعم الخراب والدمار معظم أنحاء العالم وبرزت مشكلة المشوهين والمعاقين وانتشار ممارسة العنف . (درجة) <del>ليكتفى بنقطتين</del>

( ج ) أذكر لكل من : (٤ درجات كل نقطة درجة)

- ١- قرارات اجتماع الكونجرس الأول سنة ١٧٧٤ م . ص ٨٠ ( يكتفى بثلاث نقاط )  
\* عدم الرضوخ للقوانين الجائرة التي أصدرتها إنجلترا ضد ميناء بوسطن .  
\* وجهوا طلبا من الشعب الأمريكي للملك الإنجليزي بإلغاء تلك القوانين الجائرة .  
\* إعادة سلاح المقاطعة التجارية للبضائع الإنجليزية وتشكيل لجان في كل المدن لتنظيم عملية المقاطعة والإشراف عليها .
- ٢- أوجه الشبه بين معركتي ستالينجراد والعلمين . ص ١١١ ( يكتفى بنقطتين )  
\* هزيمة ألمانيا في كلا المعركتين .  
\* وقعت المعركتين في عام ١٩٤٢ م . \* كلاهما في الحرب العالمية الثانية .

السؤال الخامس ( اختياري ) يتكون من ( أ ، ب ، ج ) :-

( أ ) دلل على صحة العبارات التالية :- ( ٥ درجات كل نقطة بدرجة )

١- يعتبر العامل الاقتصادي أحد عوامل قيام الثورة الفرنسية . ص ٨٦ ( يكتفى بنقطتين )

\* الخسائر الكبيرة التي ترتبت على الحروب الخاسرة التي خاضتها فرنسا خلال القرن الثامن عشر أدت إلى استنزاف كثير من أموال الخزانة الفرنسية ، وفقد الفرنسيون الكثير من المستعمرات التي كانت تدر دخلا كبيرا لاسيما تلك المستعمرات الفرنسية في أمريكا الشمالية والهند . \* اشترك فرنسي في حرب الاستقلال الأمريكية نتجه عنه تحمل الخزانة الفرنسية أموال طائلة أجهزت على خزينة الدولة وأصبحت فرنسا على شفا الإفلاس .

\* سياسة الامتيازات والإعفاءات الضريبية حيث كانت الطبقة الممتازة التي تملك الثروة معفاة من جميع أنواع الضرائب وكذلك الكنيسة مما حرّمها من مصدر كبير من المال . \* حياة الترف والبيذخ التي كان يعيشها البلاط الفرنسي في الوقت نفسه كان الشعب يئن تحت وطأة المجاعة والفقر والحرمان وارتفاع الأسعار والبطالة .

٢- اختلفت الحرب العالمية الثانية عن غيرها من الحروب . ص ١١٣+١١٤ ( يكتفى بثلاث نقاط )

\* حرب عالمية شاملة : شملت معظم دول العالم بالاشتراك أو بالتحالف مع الدول . \* تسخير الطاقات البشرية : حيث سخرت دول المحور أسرى الحروب للعمل في المصانع والحقول ودفع الحلفاء بالإناث للعمل في هذا المجال بدل الرجال وفتحت الولايات المتحدة باب الهجرة للمهاجرين من دول المحور بينما تبقى الحلفاء الذين سخرت جميع الدول المشتركة في الحرب مقدراتهم لمقتدرات الشعوب التي احتلتها بهدف تطوير الإنتاج الصناعي الحربي وتطوير الاقتصاد .

\* سباق تسلح تكنولوجي: تطور أساليب القتال والاستراتيجية باستخدامت التكنولوجيا في الأرض والجو والبحر فكان الدمار أكبر وشمل جميع المجالات .

( ب ) نفذ المطلوب منك بين القوسين :- ( ٤ درجات كل نقطة بدرجة )

١- نابليون بونابرت . ( إصلاح التعليم ) ص ٩٣ ( يكتفى بنقطتين )

\* العمل على مجانية التعليم للفقراء خاص التعليم الثانوي .

\* وضع مشروع لتنظيم التعليم . \* آتاحت للطبقات الفقيرة إمكانية التعليم

٢- ملامح عالمنا المعاصر . ( أذكرها ) ص ١١٥ ( يكتفى بنقطتين )

\* اليابان قوة اقتصادية عظيمة . \* الصين دولة كبرى مستقلة عن الكتلتين . \* ماونسي تونج دولة نامية ومتخلفة اقتصاديا واجتماعيا . \* زيادة سكانية هائلة . \* تقدم علمي وانفجار سكاني . \* فجوة علمية اقتصادية بين الدول المتقدمة والنامية . \* تقدم أوروبا في كافة المجالات . \* الولايات المتحدة زعيمة للكتلة الغربية الرأسمالية ثم القوة العظمى . \* هيئة الأمم المتحدة لحفظ السلام والأمن والتعاون بين دول العالم .

( ج ) ما النتائج المترتبة على الأحداث التالية :- ( ٤ درجات كل نقطة بدرجة )

١- الحرب العالمية الأولى . ص ١٠٢ الاكتفاء بنقطتين

\* تركت الحرب دماراً هائلاً . \* تسببت في خسائر مادية و بشرية .

\* سقط ملايين الجرحى والقتلى . \* الركود الاقتصادي . \* تغيرت خريطة أوروبا السياسية .

٢- معركة فالمي . ص ٨٢ ( يكتفى بنقطتين ) ص ٩٠

\* أنقذت أفكار الثورة الفرنسية من الضياع . \* حالت دون وقوع باريس . \* أصبح مصدر رعب للدول الأوروبية .

\* رفعت الروح المعنوية للفرنسيين . \* تحول جيش الثورة بعدها من الدفاع إلى الهجوم .

\* أصبح مصدر رعب للدول الأوروبية .

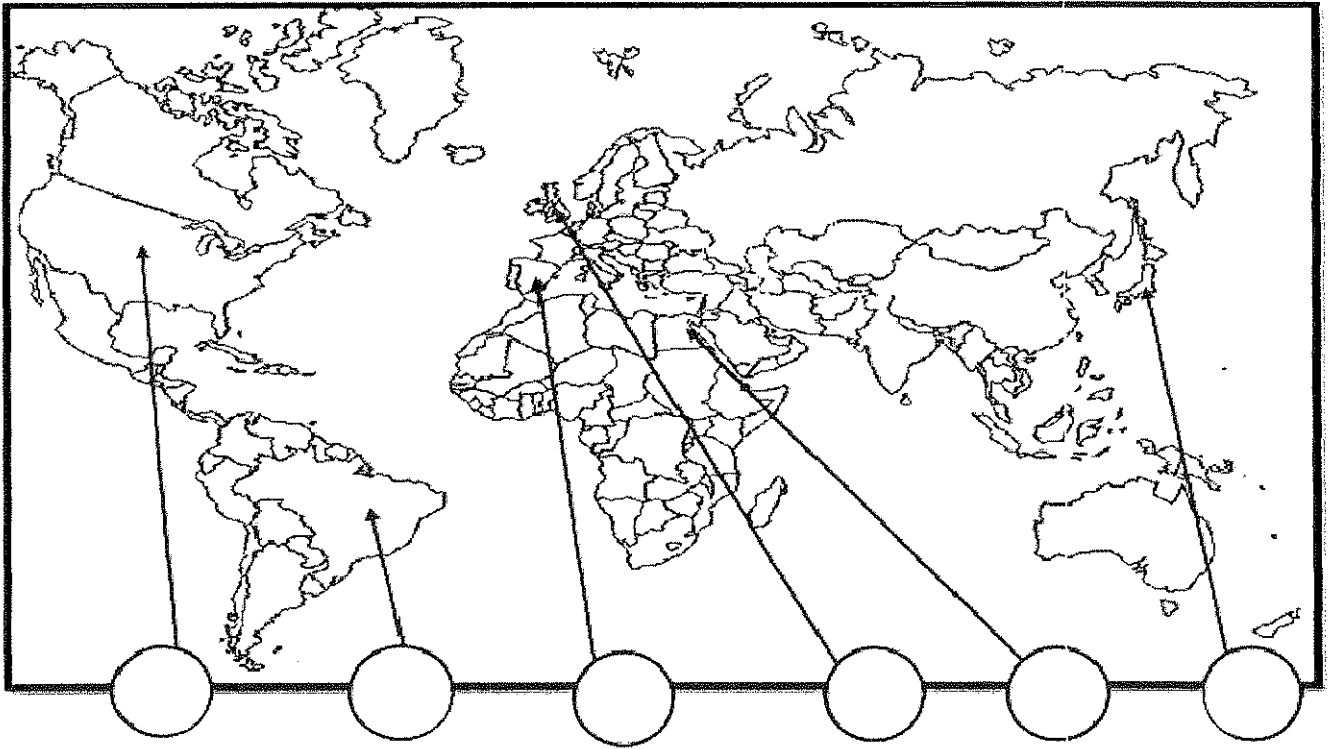


تابع السؤال الأول ( إجباريا ) :

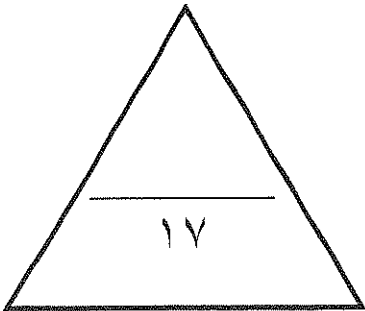
(ج) - اكتب المفاهيم أو المصطلحات الدالة على العبارات التالية:-

- ١- ( ..... ) كنيسة تعتنق المذهب البروتستانتي المعادي للمذهب الكاثوليكي.
- ٢- ( ..... ) قانون انجليزي فرض على المستندات التجارية وعقود البيع الأمريكية.
- ٣- ( ..... ) اتفاق تم بين كل من فرنسا وبريطانيا عام ١٩٠٤ م .
- ٤- ( ..... ) تشريعات يتفق عليها دوليا وهي مقننة تلتزم الدول المشتركة بها .
- ٥- ( ..... ) مجلس يضم نواب الطبقتين الوسطى والزراعية والوسطى في المدن البرجوازية وينتخبهم الشعب .

(د) - أمامك خريطة العالم أكتب الرقم الدال على العبارات التالية في الدائرة المناسبة لها :



- ١- دولة ظهر منها صاحب نظرية السيادة الشعبية .
- ٢- ثورة انتشرت أفكارها بين سكان أمريكا الجنوبية .
- ٣- معركة العلمين .
- ٤- النظام الديكتاتوري بزعامة فرانكو .



السؤال الثانى :- ( اختياري ) ويتكون من ( أ - ب - ج )

( أ ) - علل لكل مما يلي :-

١ - لم تدم عصبة الأباطرة طويلاً .

.....-

٢ - تعتبر العوامل الاقتصادية من أسباب قيام الثورة الفرنسية .

.....-

.....-

.....-

(ب) - كون فقرة باستخدام الكلمات التالية :-

( قصر التويلري - فرنسا - مدينة فاران - هروب لويس السادس عشر )

.....-

.....-

.....-

(ج) - اكتب مما درست فيما يلي :-

١ - قرارات الكونجرس الأول ١٧٧٤ م .

.....-

.....-

٢ - المرحلة الثالثة في الحرب العالمية الأولى .

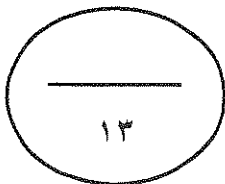
.....-

.....-

٣ - أهداف هيئة الأمم المتحدة .

.....-

.....-



السؤال الثالث : ( اختياري ) ويتكون من ( أ - ب - ج ) :-

(أ) - عرف ما يلي :-

١- علاقات دولية : .....

٢- إعلان بلننز: .....

(ب) - قارن بين كل مما يلي حسب الجدول التالي :-

أوجه المقارنة	معركة ساراتوجا	معركة ريفولي
العام	م.....	م.....
النتائج	- .....	- .....
	- .....	- .....

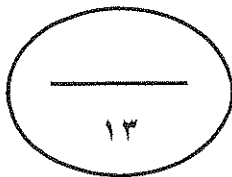
(ج) - فند العبارات التالية :

١- شهد العالم وحدة سياسية وعسكرية بعد اجتياح هتلر لبولندا ١٩٣٩ م .

..... -  
..... -

٢- لم يترتب علي الحرب العالمية الثانية نتائج بشرية .

..... -  
..... -  
..... -



السؤال الرابع :- ( اختياري ) ويتكون من ( أ - ب - ج ) :-

( أ ) - فسر لكل مما يلي :-

١ - قيام الثورة الأمريكية .

..... -  
..... -

٢ - فشل عصبة الأمم كمنظمة دولية .

..... -  
..... -

٣ - انقسام العالم سياسيا في أواخر القرن ١٩ .

..... -  
..... -  
..... -

( ب ) - فرق بين كل مما يلي حسب الجدول التالي :

المارن الأولى	المارن الثانية
.....-	.....-
.....-	.....-

( ج ) - ماذا يحدث لو لم :-

١ - تعقد محكمة الثورة في فرنسا ١٧٩٣ م .

.....-

٢ - ينجح هتلر في الوصول للحكم ١٩٣٤ م .

.....-

السؤال الخامس : ( اختياري ) ويتكون من ( أ - ب - ج ) :-

( أ ) - عدد لكل مما يلي:-

١- لائحة الحقوق الإنجليزية .

.....-

.....-

٢- ملامح عالمنا المعاصر.

.....-

.....-

.....-

(ب)- اكتب النتائج المترتبة على ما يلي:

١- حرب السنين السبع علي سكان المستعمرات .

.....-

.....-

٢- سقوط حصن الباستيل عام ١٧٨٩ م .

.....-

.....-

(ج)- نفذ المطلوب منك بين الأقواس :

١- القارة الأوربية محور العلاقات الدولية . ( الأسباب )

.....-

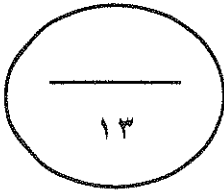
.....-

٢- الشيوعية في روسيا . ( المبادئ )

.....-

.....-

انتهت الأسئلة مع تمنياتنا لكم بالتوفيق







وزارة التربية

التوجيه العام للاجتماعيات

نموذج إجابة

امتحان الدور الثاني (الفترة الدراسية الثانية) العام الدراسي: ٢٠١٧-٢٠١٨م

لمادة تاريخ العالم الحديث والمعاصر

للمصف الثاني عشر الأدبي

الزمن : ساعتان وربع

عدد الأوراق: (٦) أوراق

أجب عن أربعة أسئلة مما يأتي على أن يكون السؤال الأول من بينهما إجبارياً :-

السؤال الأول ( إجباري ) يتكون من ( أ - ب - ج - د )

(أ) ضع خطا تحت الخيار الصحيح من بين الخيارات التي تلي كل عبارة :- (درجة لكل نقطة) ٥ درجات

١ صاحب نظرية السيادة الشعبية :ص ٧٦

أ- جون لوك ب- فولتير ج- روسو د- منتيسكيو

٢- زعيم النظام الفاشي في إيطاليا : ص ١٠٨

أ- هتلر ب- موسوليني ج- فرانكو د- ستالين

٣- تأسست المستعمرة الإنجليزية جيمس تومسون في

أ- ١٦٠٧م ب- ١٦٠٨م ج- ١٦٠٩م د- ١٦١٠م

٤- دولة انتهكت حياد البلجيك فأعلنت بريطانيا الحرب عليها :ص ١٠٠

أ- إيطاليا ب- ألمانيا ج- النمسا د- النمسا

٥- عدد الدول التي تتمتع بحق الفيتو في مجلس الأمن :- ص ١١٧

أ- ٥ دول ب- ١٠ دول ج- ١٥ دولة د- ٢٠ دولة

(ب) أكمل العبارات التالية بما يناسبها فيما درست :- (درجة لكل نقطة) ٥ درجات

١- المدينة التي بدأ فيها الصدام المسلح بين سكان الأمريكيين والقوات الانجليزية عام ١٧٧٥م اسمها لكنجستون ص ٨٠

٢- العام الذي انتصر فيه الفرنسيون في معركة فالمي ١٧٩٢م ص ٩٠

٣- فترة الانتقال من عهد الاضطرابات والثورات إلى عهد الحكم الديكتاتوري في فرنسا اسمها حكومة الإدارة ص ٩٢ .

٤- عرفت المرحلة الثانية من الحرب العالمية الأولى باسم حرب الخنادق ص ١٠١

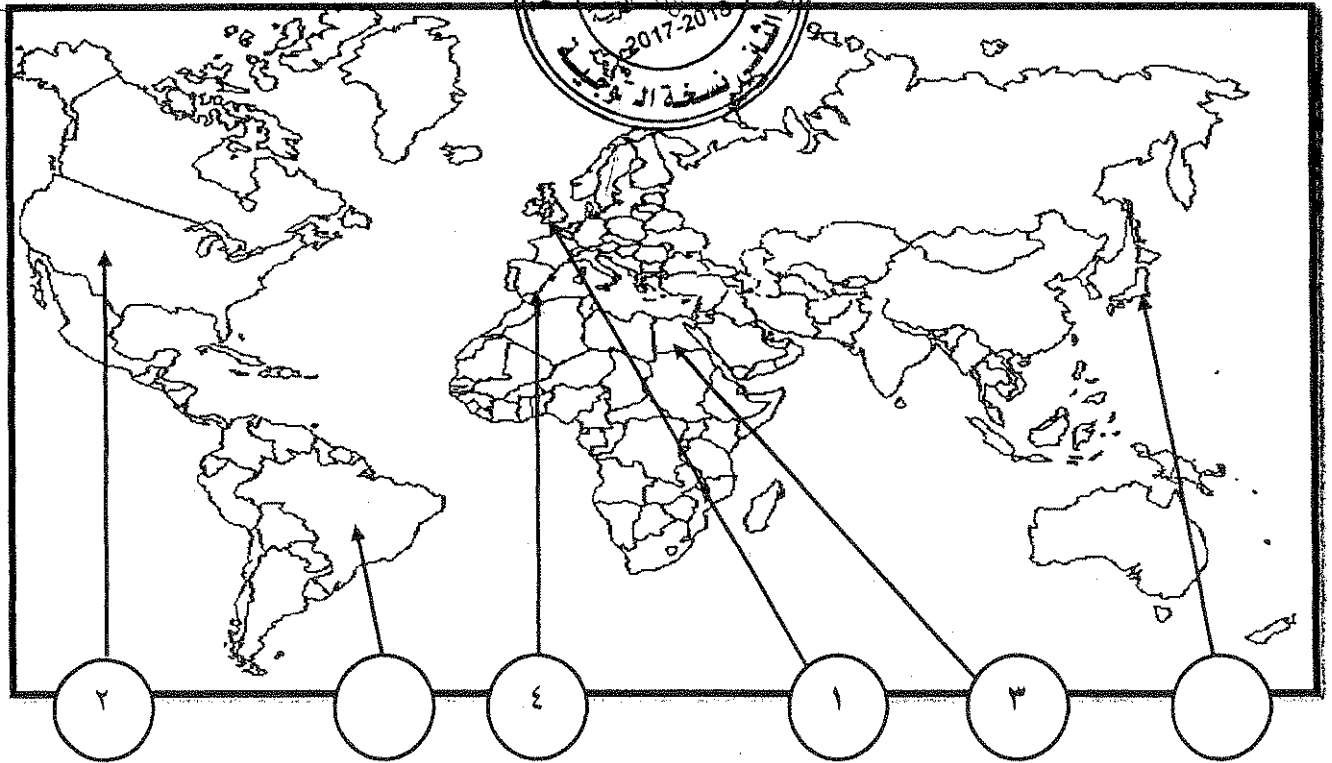
٥- زعيم النظام الديكتاتوري في تركيا اسمه كمال أتاتورك ص ١٠٨

تابع السؤال الأول ( إجباريا ) :

( ج ) اكتب المفاهيم أو المصطلحات الدالة على العبارات التالية :- ( درجة لكل نقطة ) ( ٥ درجات )

- ١- ( الكنيسة الأنجليكانية ) كنيسة تعتنق المذهب البروتستانتي المعادي للمذهب الكاثوليكي. ص ٧٣
- ٢- ( قانون التمغة ) قانون انجليزي فرض على المستندات التجارية وعقود البيع الأمريكية. ص ٧٨
- ٣- ( الاتفاق الودي ) اتفاق تم بين كل من فرنسا وبريطانيا عام ١٩٠٤ م. ص ٩٨
- ٤- ( الاتفاقات الدولية ) تشريعات يتفق عليها دوليا وهي مقننة تلتزم الدول المشتركة بها. ص ٩٧
- ٥- ( مجلس العموم ) مجلس يضم نواب الطبقتين الوسطى والزراعية والوسطى في المدن البرجوازية وينتخبهم الشعب. ص ٧٥

( د ) - أمامك خريطة العالم اكتب الرقم الدال على الأماكن التالية في الدائرة المناسبة لها : (درجتان لكل نقطة )  
لكل نقطة نصف درجة



- ١- دولة ظهر منها صاحب نظرية السيادة الشعبية . ص ٧٦
- ٢- ثورة انتشرت أفكارها بين سكان أمريكا الجنوبية . ص ٨٣
- ٣- معركة العلمين . ص ١١١
- ٤- النظام الديكتاتوري بزعامة فرانكو . ص ١٠٨

السؤال الثاني :- ( اختياري ) ويتكون من ( أ - ب - ج )

( أ ) علل لكل مما يلي :- ( ٤ درجات لكل نقطة درجة )

( ١ ) لم تدم عصبة الأباطرة طويلا . ص ٩٧

- خروج روسيا لخلافها مع النمسا عام ١٨٧٨م

( ٢ ) تعتبر العوامل الاقتصادية من أسباب قيام الثورة الفرنسية . ص ٨٦ ( يكتفي بثلاث نقاط )

- الخسائر الكبيرة التي ترتبت علي الحروب الخاسرة التي خاضتها فرنسا أدت إلي استنزاف كثير من أموالها، وفقد الفرنسيون الكثير من المستعمرات التي كانت تدر دخلا كبير - اشتراك فرنسا في حرب الاستقلال الأمريكية - سياسة الامتيازات والإعفاءات الضريبية التي كانت فرنسا تطبقها - حياة الترف والبدخ التي كان يعيشها البلاط الفرنسي في الوقت الذي عاش الشعب الفرنسي الفقر الحرمان والمجاعة.

( ب ) كون فقرة باستخدام الكلمات التالية [ ٣ درجات ] ص ٨٩ ( أو أي فقرة مناسبة تحتوي الكلمات )

( قصر التويلري - مدينة فاران - فرنسا - هروب لويس السادس عشر )

دبر الملك لويس السادس عشر خطة للفرار من فرنسا مع زوجته ونجح في البداية ووصل إلي مدينة فاران حيث اكتشفت شخصيته فاعتقل هناك وأعيد إلي باريس فأصبح الملك سجين قصر التويلري .



( ج ) اكتب مما درست فيما يلي : [ ٦ درجات لكل نقطة درجة ] لكل

١- قرارات الكونجرس الأول ١٧٧٤م ص ٨٠

- عدم الرضوخ للقوانين الجائرة التي أصدرتها إنجلترا -

الإنجليزي بإلغاء القوانين الجائرة - إعادة سلاح المقاطعة من الشعب الأمريكي للبضائع الإنجليزية

٢ - المرحلة الثالثة في الحرب العالمية الأولى ص ١٠١

- انسحاب روسيا من الحرب ١٩١٧ . - دخول الولايات المتحدة الحرب إلي جانب الحلفاء

هزيمة ألمانيا في معركة المارن الثانية ١٩١٨م - انتهاء الحرب .

٣- أهداف هيئة الأمم المتحدة ص ١١٦

- المحافظة علي السلام والأمن الدوليين وحل النزاعات بالطرق السلمية

- تنمية العلاقات الودية بين الدول علي المساواة واحترام حقوق الإنسان

- تحقيق التعاون الدولي في جميع المجالات - تكون الأمم المتحدة أداة للتنسيق بين أعمال الدول

والمنظمات.

السؤال الثالث : ( اختياري ) ويتكون من ( أ - ب - ج ) :-

(أ) عرف ما يلي :- ( ٢ درجة لكل نقطة درجة )

- ١- العلاقات الدولية :الاتصالات بين الدول وبين المنظمات الدولية في جميع المجالات ص ٩٧
- ٢- إعلان بلننتز:إعلان تم بين إمبراطوريتي النمسا وبروسيا عام ١٧٩١م لإنقاذ الملكية الفرنسية .ص ٩٠

(ب) قارن بين كل مما يلي حسب الجدول التالي :- ( ٦ درجات لكل نقطة درجة )

أوجه المقارنة	معركة ساراتوجا ص ٨٢	معركة ريفولي ص ٩٢
العام	١٧٧٧م	١٧٩٧م
النتائج	- خسر الانجليز جيشا كاملا - سيطر الأمريكيون علي حوض هيدسون - اعتراف فرنسا باستقلال الثوار الأمريكيون ودخولها الحرب الي جانبهم - زاد تعاطف الشعوب الأوربية مع الثورة الأمريكية	- أجبرت النمسا علي توقيع معاهدة كامبو فروميو - أعطت فرنسا مكاسب كبيرة وحققت للفرنسيين الفخر والعزة .



(ج) فند العبارات التالية : ( ٥ درجات لكل نقطة درجة )

- ١- شهد العالم وحدة سياسية وعسكرية بعد اجتياح هتلر لبولندا ١٩٣٩م .
- انقسام العالم لمحورين الحلفاء و المحور . - بداية الحرب العالمية الثانية.
- ٢- لم يترتب علي الحرب العالمية الثانية نتائج بشرية . ص ١١٤ ( يكتفي بثلاث درجات )
- سقط حوالي ٥٠ مليون قتيل - شرد الملايين في أوروبا واليابان
- عم الخراب والدمار معظم أنحاء العالم - برزت مشكلة المشوهين والمعاقين
- انتشار ممارسة العنف .

السؤال الرابع :- ( اختياري ) ويتكون من ( أ - ب - ج ) :-

( أ ) : فسر لكل مما يلي :- [ ٧ درجات لكل نقطة درجة ( يكتفى بنقطتين )

١ - قيام الثورة الأمريكية . ص ٧٨

- تطبيق قوانين الاحتكار التجاري وقوانين الملاحة ١٦٥١-١٦٧٣م والتسلط علي المستعمرات بقوة و حزم .

- فرض ضرائب باهضة جديدة علي المستعمرات (قوانين سيئة السمعة )

٢ - فشل عصبة الأمم كمنظمة دولية . ص ١٠٤ ( يكتفى بنقطتين )

- عدم التزام الدول الكبرى بميثاق العصبة عاجزة أمام القضايا الكبرى .



- لم يكن للعصبة قوة عسكرية قادرة علي تنفيذ قرار تهلكة

٣- انقسام العالم سياسيا في أواخر القرن ١٩ ص ٧٧ ( يكتفى بثلاث درجات )

- بروز النزعة القومية - تصادم الأيديولوجيات - تضارب المصالح الاقتصادية

- سياسية التوسع للسيطرة علي مناطق مختلفة - سباق التسلح

- ( ب ) - فرق بين كل مما يلي حسب الجدول التالي : (٤ درجات) ص ١٠١

المارن الأولى	المارن الثانية
- أوقف الحلفاء زحف الألمان على باريس عام ١٩١٤م.	- شن الحلفاء هجوماً معاكساً أدى إلى إنزال الهزيمة بالألمان عام ١٩١٨م.

( ج ) ماذا يحدث لو لم :- [ درجتان ] ( ما يراه المصحح )

١- تعقد محكمة الثورة في فرنسا ١٧٩٣م .

- لما قتل الكثير من المواطنين دون محاكمة عادلة . - لما تم توجيه تهمة الخيانة العظمى للمواطنين .

٢- ينجح هتلر في الوصول للحكم ١٩٣٤م . ص ٩١

- لما قامت الحرب العالمية الثانية . - لما تشكل الحزب النازي . - لما ظهرت الدكتاتوريات .

الخامس : ( اختياري ) ويتكون من ( أ - ب - ج ) :-

( أ ) عدد لكل مما يلي : ٥ درجات

١- لائحة الحقوق الإنجليزية . ص ٧٤ يكتفى بنقطتين

- لايجوز للملك ابطال أو تعديل قانون صادر من البرلمان - لا يحق للملك فرض ضرائب جديدة وتشكيل جيش أو إعلان الحرب دون موافقة البرلمان - للبرلمان الحق الكامل في التعبير عن آرائهم بحرية تامة - إعطاء البرلمان المواطنين حصانة حيث لا يمكن اعتقال مواطن دون محاكمة .

٢- ملامح عالما المعاصر . ص ١١٥ يكتفى بثلاث

- اليابان قوة اقتصادية عظمي - الصين دولة مستقلة عن الكتلتين - تقدم علمي وانجاز معرفي
- زيادة سكانية هائلة - فجوة علمية اقتصادية بين الدول النامية والمتقدمة - مخاوف من حرب نووية واتفاقيات سالت لوقف التسلح - أوروبا تقدم في كافة المجالات تفعيل مشروع مارشال
- الولايات المتحدة زعيمة الكتلة الغربية الرأسمالية ثم القوة الأعظم بعد تفكك الاتحاد السوفيتي
- هيئة الأمم المتحدة لحفظ السلام والأمن والتعاون بين دول العالم العربية



(ب) اكتب النتائج المترتبة على ما يلي : ٤ درجات يكتفى بنقطتين

- ١- حرب السنين السبع علي سكان المستعمرات . ص ٧٨  
شعورهم بقوتهم الحقيقة - بروز كثير من أبنائهم أمثال جورج واشنطن
- أزال التهديد الخارجي من الفرنسيين نحو المستعمرات - التوسع نحو الغرب دون حدود أو قيود
- ٢- سقوط سجن الباستيل عام ١٧٨٩م . ص ٨٨  
- عمت الفوضى في كل مكان - توقف الفلاحون عن دفع الضرائب - انقض الفلاحون علي قصور النبلاء وأحرقوها وقتلوا منفيها وأحرقوا الوثائق - هجرة النبلاء إلي خارج فرنسا

(ج) نفذ المطلوب منك بين الأقواس : أربع درجات لكل نقطة درجة يكتفى بنقطتين

- ١- القارة الأوروبية محور العلاقات الدولية . ص ٩٧ ( الأسباب )  
- مركز الثورة الصناعية - وفرة الموارد والإمكانات الاقتصادية  
- النفوذ الاستعماري في جميع القارات - نشوء الإمبراطوريات
- ٢- الشيوعية في روسيا . ص ١٠٦ ( المبادئ )  
- سيطرة الدولة على جميع مصادر الثروة ووسائل الإنتاج .  
- إلغاء الملكية الخاصة وإشراف الدولة على التخطيط الاقتصادي . تحقيق العدالة الاجتماعية بين أفراد الشعب .  
- محو الفوارق بين القوميات في روسيا .



وزارة التربية

امتحان نهاية الفترة الدراسية الثانية العام الدراسي : ٢٠١٦ / ٢٠١٧ م

التوجيه الفني العام للاجتماعيات

للمصف الثاني عشر الأدبي

الزمن : ساعتان

لمادة تاريخ العالم الحديث والمعاصر

عدد الأوراق : ٧ ورقات

أجب عن أربعة أسئلة مما يلي على أن يكون السؤال الأول من بينها إجبارياً:-

السؤال الأول: (إجباري) يتكون من ( أ - ب - ج - د ):-

( أ ) أكمل العبارات التالية بما يناسبها فيما درست :-

- ١- الكنيسة الإنجليزية التي تعتنق المذهب البروتستانتي تسمى .....
- ٢- العام الذي انتصر فيه سكان المستعمرات في معركة ساراتوجا .....
- ٣- كاتب ساخر عرف بنقده اللاذع وسخريته الشديدة للأوضاع البالية في فرنسا يسمى .....
- ٤- جماعة سيطرت على قرارات المؤتمر الوطني ١٧٩٢ م وأشتهرت بعدائها الشديد للملكية تسمى .....
- ٥- المعركة التي هُزم فيها الألمان على يد الجيش الأحمر عام ١٩٤٢ م تسمى .....

(ب) أكتب المفاهيم أو المصطلحات الدالة عليها العبارات التالية :-

- ١- (.....) مؤتمر عقد عام ١٩٣٨ م تم بموجبه ضم هتلر لتشيكوسلوفاكيا .
- ٢- (.....) تشريعات يتفق عليها دوليا وهي مقننة تلتزم الدول المشتركة بها .
- ٣- (.....) المجالس المحلية التي أسسها الحزب الشيوعي .
- ٤- (.....) حزمة من الضرائب التي كانت بمثابة الشرارة التي انطلقت منها الثورة الأمريكية .
- ٥- (.....) إعلان تم بين أميراطوريتي النمسا وبروسيا عام ١٧٩١ م لإنقاذ الملكية الفرنسية .

تابع / السؤال الأول ( إجباري ) :-

ج) ضع خطأً تحت الخيار الصحيح من بين الخيارات التي تلي كل عبارة :-

١- عدد النواب الذين اجتمعوا عام ١٧٨٧م لوضع دستور يجمع الولايات المتحدة الأمريكية :

( ٥٢ نائباً - ٥٣ نائباً - ٥٤ نائباً - ٥٥ نائباً )

٢- المفكر الفرنسي الذي ألف كتاب روح القوانين :

( مونتسكيو - فولتير - جون لوك - روسو )

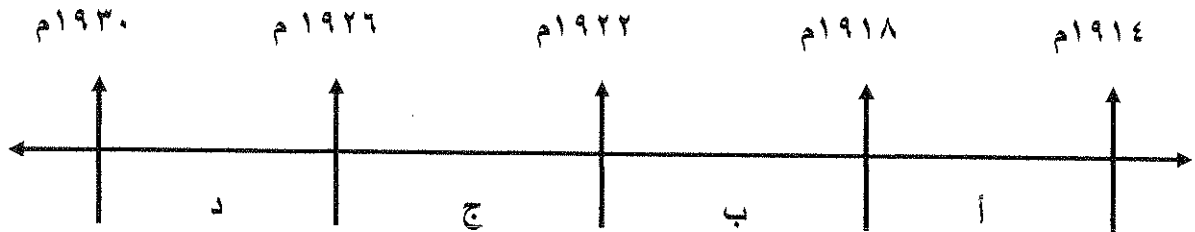
٣- احتل هتلر الراين في عام :

( ١٩٣٣م - ١٩٣٤م - ١٩٣٥م - ١٩٣٦م )

٤- المعاهدة التي أعطت لفرنسا العديد من المكاسب عام ١٧٩٧م :

( لوزان - كامبو فروميو - باريس - لندن )

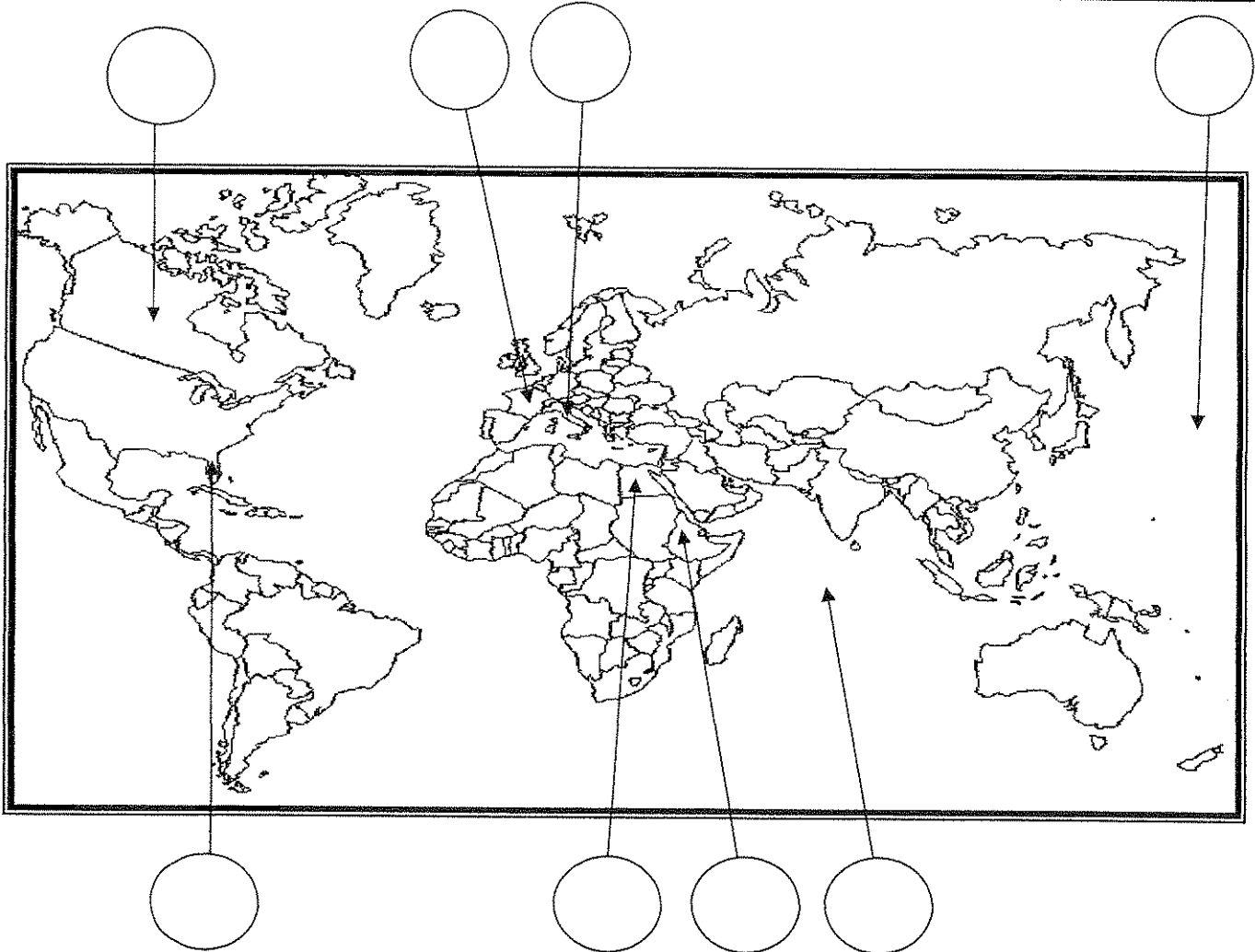
٥- الفترة الزمنية التي تمثل الحرب العالمية الأولى يمثلها على المخطط الزمني الحرف :





تابع / السؤال الأول ( إجباري ) :-

(د) أمامك خريطة العالم - أكتب الرقم الدال على العبارات التالية في الدائرة المناسبة لها :-

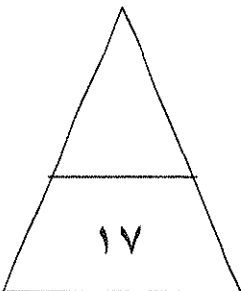


١- دولة شهدت أحداث معركة ريفولي الشهيرة في ١٤ يناير سنة ١٧٩٧م .

٢- مسطح مائي شهد النزاع بين اليابان والولايات المتحدة الأمريكية خلال الحرب العالمية الثانية.

٣- دولة وقعت تحت الإحتلال الإيطالي عام ١٩٣٦م .

٤- المستعمرة الأسبانية في أمريكا الشمالية .



السؤال الثاني : ( إختياري ) يتكون من ( أ ، ب ، ج ) :-

أ - علل لما يلي :-

١- تعتبر معركة فالمي من المعارك الفاصلة في التاريخ على الرغم من صغر حجمها .

٢- إصرار البرلمان الإنجليزي على بقاء ضريبة الشاي بالرغم من إلغاء بقية الضرائب .

ب - عرف المفاهيم والمصطلحات التالية :-

١- النظام الجديد :

٢- أيديولوجيه :

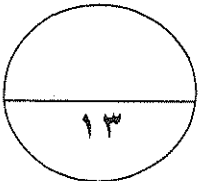
٣- المارن :

ج- أذكر النتائج المترتبة على الأحداث التالية :-

١- الثورة الأمريكية .

٢- سقوط حصن الباستيل في فرنسا .

٣- مؤتمرات الصلح التي عقدتها الدول المنتصرة بعد الحرب العالمية الأولى .



السؤال الثالث : ( إختياري ) يتكون من ( أ ، ب ، ج ) :-

أ- فند العبارات التالية :-

١- تمتعت الطبقة العامة في فرنسا بالكثير من الإمتيازات قبيل الثورة الفرنسية .

..... -  
..... -

٢- أعطت وثيقة الحقوق الإنجليزية العديد من الصلاحيات للملك الإنجليزي.

..... -  
..... -  
..... -

ب- قارن بين كل من :-

مؤتمر فيلادلفيا الثاني	مؤتمر فيلادلفيا الأول	أوجه المقارنة
.....	.....	السنة
..... -	..... -	القرارات
..... -	..... -	

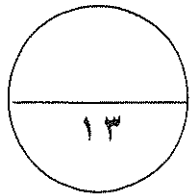
ج- ماذا يحدث لو لم :-

١ - يسقط سوق الأوراق المالية في مدينة نيويورك عام ١٩٢٩م .

..... -  
..... -

٢- تهاجم اليابان ميناء بيرل هاربر الأمريكي .

..... -



السؤال الرابع : ( اختياري ) يتكون من ( أ ، ب ، ج ) :-

أ-اقرأ الفقرة التالية ثم اجب عما يليها من أسئلة :-

(اجتمع زعماء الدول الكبرى الثلاث (روزفلت - تشرشل - ستالين) في مؤتمر يالطا في الإتحاد السوفيتي عام ١٩٤٥م ودعوا الدول المحبة للسلام لحضور مؤتمر سان فرانسيسكو لإبرام ميثاق الأمم المتحدة ، فقامت ( ٥٠ ) دولة بالتوقيع على الميثاق ثم افتتحت هيئة الأمم المتحدة رسمياً في ٢٤ أكتوبر ١٩٤٥م ، وقد نادت بالمحافظة على السلام والأمن الدوليين ، وتحقيق التعاون الدولي في جميع المجالات )

١- عرف ماتحته خط .

هيئة الأمم المتحدة : .....

٢- أستخرج من الفقرة السابقة هدفين من أهداف الأمم المتحدة .

..... -

..... -

ب فسر كلاً مما يلي :-

١- استحالة التوافق بين الحاكم والمجلس التشريعي في المستعمرات الإنجليزية في أمريكا الشمالية .

..... -

..... -

2- فشل عصبة الأمم في تحقيق الغايات التي أنشئت من أجلها.

..... -

..... -

ج - عدد كلاً مما يلي :-

١- ملامح عالمنا المعاصر .

..... -

..... -

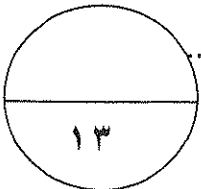
..... -

٢- العوامل الاقتصادية للثورة الفرنسية .

..... -

..... -

..... -



السؤال الخامس : ( إختياري ) يتكون من ( أ ، ب ، ج ) :-

أ- فرق بين كل مما يلي :-

السبب المباشر للحرب العالمية الثانية	السبب المباشر للحرب العالمية الأولى
.....	.....
.....	.....

ب- نفذ المطلوب منك بين الأقواس :-

( أوضاع الكنيسة )

١- إصلاحات نابليون الداخلية .

..... -  
..... -

( مبادئها )

٢- النازية .

..... -  
..... -  
..... -

( النتائج البشرية )

٣- الحرب العالمية الثانية

..... -  
..... -

ج - أكتب فقرة مترابطة مستعيناً بالكلمات التالية:-

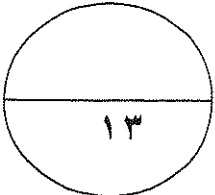
( المجالس النيابية - الحق الإلهي المقدس - مجلس اللوردات - مجلس العموم )

.....  
.....  
.....

انتهت الأسئلة

مع تمنياتنا لكم بالتوفيق

( ٧ )





وزارة التربية

التوجيه الفني العام للاجتماعيات

امتحان نهاية الفترة الدراسية الثانية العام الدراسي : ٢٠١٦ / ٢٠١٧ م

الزمن ( ساعتان )

للفن الثاني عشر الأدبي

عدد الأوراق : ٨ ورقات

لمادة تاريخ العالم الحديث والمعاصر

أجب عن أربعة أسئلة مما يلي على أن يكون السؤال الأول من بينها إجبارياً :-

لكل نقطة درجة

السؤال الأول: ( إجباري ) يتكون من ( أ - ب - ج - د ) :-

( أ ) أكمل العبارات التالية بما يناسبها فيما درست :-

ص ٧٣

ص ٨٢

ص ٨٥

ص ٩١

ص ١١١



١- الكنيسة الإنجليزية التي تعتنق المذهب البروتستانتي تسمى الإنجليكانية.

٢- العام الذي انتصر فيه سكان المستعمرات في معركة ساراتوجا ١٧٧٧ م

٣- كاتب ساخر عرف بنقده اللاذع وسخريته الشديدة للأوضاع البالية في فرنسا يسمى فولتير.

٤- جماعة سيطرت على قرارات المؤتمر الوطني ١٧٩٢ م واشتهرت بعنائها الشديد للملكية تسمى اليعاقبة

٥- المعركة التي هُزم فيها الألمان على يد الجيش الأحمر عام ١٩٤٢ م تسمى ستالينجراد

ب) أكتب المفاهيم أو المصطلحات الدالة عليها العبارات التالية :- لكل نقطة درجة

ص ١٠٩

ص ٩٧

ص ١٠٦

١- (مؤتمر ميونخ) مؤتمر عقد عام ١٩٣٨ م تم بموجبه ضم هتلر لتشيكوسلوفاكيا.

٢- (الاتفاقيات الدولية) تشريعات يتفق عليها دوليا وهي مقننة تلتزم الدول المشتركة بها.

٣- (السوفيت) المجالس المحلية التي أسسها الحزب الشيوعي.

٤- (القوانين سينة السمعة) حزمة من الضرائب التي كانت بمثابة الشرارة التي انطلقت منها الثورة الأمريكية . ص ٧٨

ص ٩٠

٥- (إعلان بلنتر) إعلان تم بين أميراطوريتي النمسا وبروسيا عام ١٧٩١ م لإنقاذ الملكية الفرنسية.

تابع / امتحان تاريخ العالم الحديث والمعاصر - الصف الثاني عشر الأدبي - نهاية الفترة الدراسية الثانية - العام الدراسي ٢٠١٦/٢٠١٧م

تابع السؤال الأول ( إجباري ) :-

ج) ضع خطأ تحت الخيار الصحيح من بين الخيارات التي تلي كل عبارة :- لكل نقطة درجة

١- عدد النواب الذين اجتمعوا عام ١٧٨٧م لوضع دستور يجمع الولايات المتحدة الأمريكية : ص ٨٢

( ٥٢ نائباً - ٥٣ نائباً - ٥٤ نائباً - ٥٥ نائباً )

٢- المفكر الفرنسي الذي ألف كتاب روح القوانين : ص ٨٥

( مونتسكيو - فولتير - جون لوك - روسو )

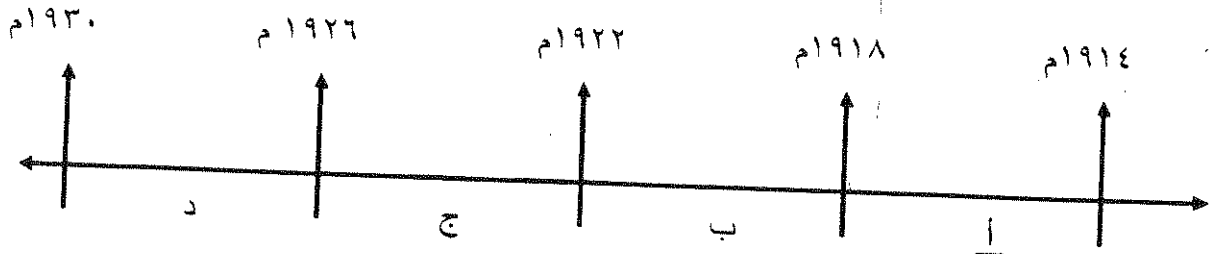
٣- احتل هتلر الراين في عام : ص ١٠٩

( ١٩٣٣م - ١٩٣٤م - ١٩٣٥م - ١٩٣٦م )

٤- المعاهدة التي أعطت لفرنسا العديد من المكاسب عام ١٧٩٧م :

( لوزان - كامبو فروميو - باريس - لندن ) ص ٩٢

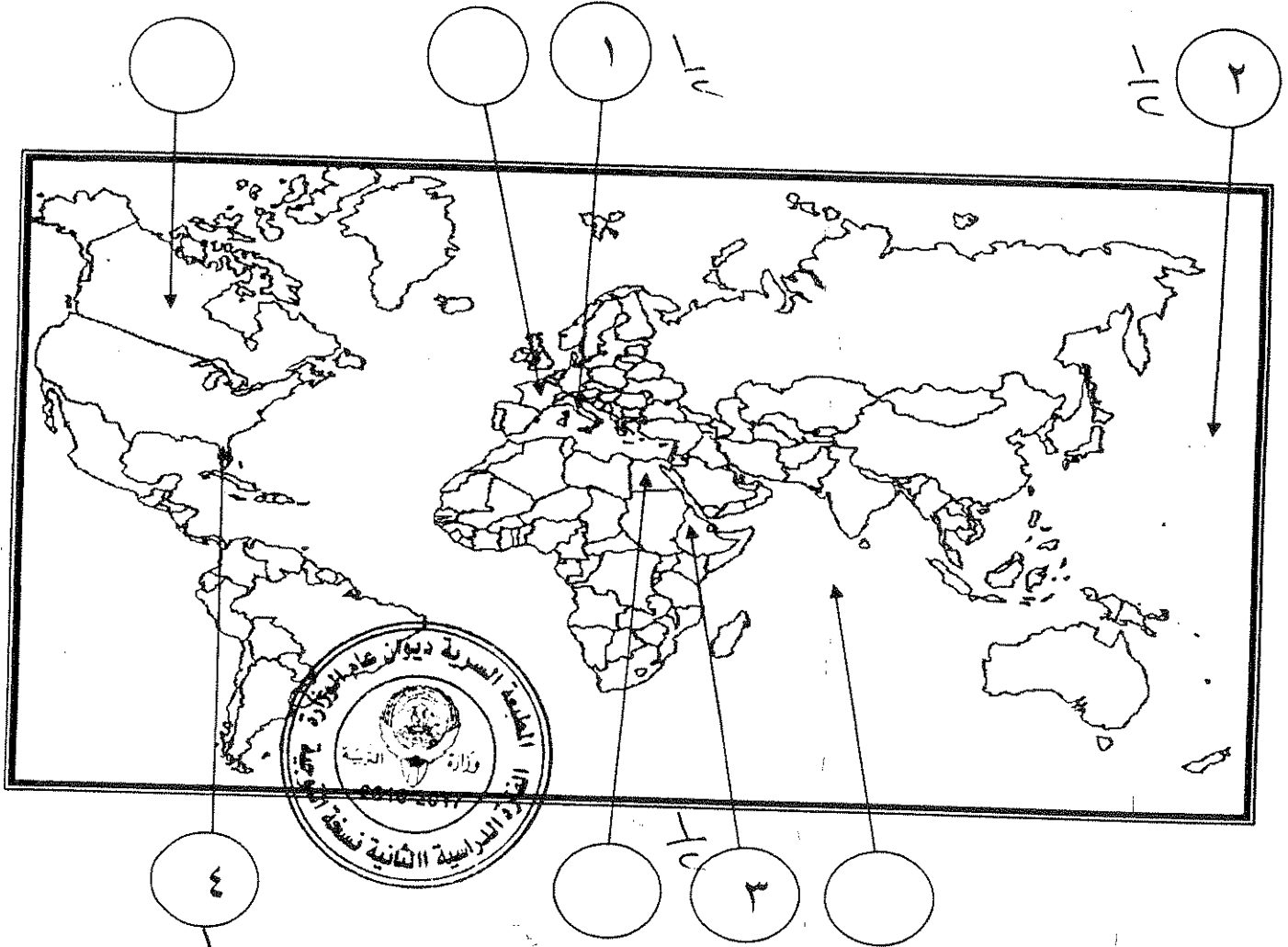
٥- الفترة الزمنية التي تمثل الحرب العالمية الأولى يمثلها على المخطط الزمني الحرف : ص ٩٧



نصف درجة لكل نقطة

تابع السؤال الأول (إجباري) :-

د- أمامك خريطة العالم - أكتب الرقم الدال على العبارات التالية في الدائرة المناسبة لها :-



ص ٩٢

١- دولة شهدت أحداث معركة ريفولي الشهيرة في ١٤ يناير سنة ١٧٩٧م .

ص ١١١

٢- مسطح مائي شهد النزاع بين اليابان والولايات المتحدة الأمريكية خلال الحرب العالمية الثانية.

ص ١٠٩

٣- دولة وقعت تحت الإحتلال الإيطالي عام ١٩٣٦م .

ص ٧٧

٤- المستعمرة الأسبانية في أمريكا الشمالية .



السؤال الثاني: (إختياري) يتكون من (أ ، ب ، ج )

أ - علل لما يلي :-

- ١- تعتبر معركة فالمي من المعارك الفاصلة في التاريخ على الرغم من صغر حجمها . يكتفي بـ ٣ نقطه ص ٩٠
- أنقذت افكار الثورة الفرنسية من الضياع - حالت دون وقوع باريس - رفعت الروح المعنوية للفرنسيين - تحول جيش الثورة بعدها من الدفاع إلى الهجوم وأصبح مصدر رعب للدول الأوروبية .
- ٢- إصرار البرلمان الإنجليزي على بقاء ضريبة الشاي بالرغم من إلغاء بقية الضرائب . يكتفي بنقطة ص ٧٩
- ليبقي حق فرض الضرائب قائما على المستعمرات .

ب - عرف المفاهيم والمصطلحات التالية :-

- ١- النظام الجديد : مشروع اقتصادي ينسب للرئيس الأمريكي مشاريع كبري تهدف لتشغيل أكبر عدد من العمال لحل مشكلة البطالة وأنه سيجلب المشاريح الإنمائية وبهذا خرج على السياسة الإقتصادية التي تسير عليها بلادة من الإقتصاد الرأسمالي إلى الإقتصاد راسمالي موجه . ص ١٠٥
- ٢- أيديولوجيه : نسق من الآراء والأفكار السياسية والفلسفية التي نشأت في أمريكا في الفترة من ١٨٠٠ إلى ١٨٦٠م . ص ٩٧
- ٣- المارن : نهر في فرنسا كان مسرحاً لمعركتين حاسمتين في الحرب العالمية الأولى . ص ١٠١

( لكل نقطة درجة )

يكتفي بنقطتين ص ٨٣

(٢درجة)

ج- أذكر النتائج المترتبة على الأحداث التالية :-

- ١- الثورة الأمريكية .
- انتشرت عداواها إلى سكان أمريكا الجنوبية (اللاتينية)
- تشجيع سكان المستعمرات البريطانية في آسيا وأفريقيا على القيام بثورات ضدها كي يتخلصوا من استعمارها .
- صارت الولايات المتحدة ملاذاً لدعاة الفكر من الاوربيين ورمزاً للحرية والتجديد .
- السبب المباشر في قيام الثورة الفرنسية نتيجة للأموال الطائلة التي أنفقتها في الحوب ضد بريطانيا في العالم الجديد .
- ٢- سقوط حصن الباستيل في فرنسا .
- عمت الفوضى في كل مكان . - توقف الفلاحون عن دفع الضرائب .
- انقض الفلاحون على قصور النبلاء واحرقوا الوثائق التي تعطيهم حقوقا إقطاعية .
- هجرة النبلاء إلى خارج فرنسا وسرعان ما أصبح هؤلاء المهاجرون أكبر خطر على الثورة الفرنسية .
- ٣- مؤتمرات الصلح التي عقدتها الدول المنتصرة في الحرب العالمية الأولى .
- تفكك إمبراطوريات عريقة مثل ( الألمانية /النمسا/ الروسية / الدولة العثمانية ) وظهور دول قومية جديدة في أوربا مثل ( بولندا / تشيكوسلوفاكيا / يوغسلافيا / المجر )
- أن تتحمل ألمانيا مسؤولية الحرب حيث فرضت عليها دفع تعويضات مالية كبيرة للحلفاء .
- تخفيض عدد الجيش الألماني ومنع ألمانيا من تصنيع أو اقتناء الأسلحة العسكرية .
- اقتطاع اجزاء من ألمانيا وضمها لدول أخرى . - وضع إقليم السار تحت الإدارة الدولي .

السؤال الثالث : ( اختياري ) يتكون من ( أ ، ب ، ج ) :-

أ- فند العبارات التالية :-

(لكل نقطة درجة)

١- تمتعت الطبقة العامة في فرنسا بالكثير من الإمتيازات قبيل الثورة الفرنسية (درجتان) يكتفي بنقطتين ص ٨٥  
بالعكس من ذلك بل :

- عانت هذه الطبقة من صنوف الظلم والاستعباد.
- استبعدت من جميع الوظائف العليا في الدولة.
- فرضت عليهم جميع أنواع الضرائب .
- عاشت هذه الطبقة في بؤس وشقاء.

٢- أعطت وثيقة الحقوق الإنجليزية العديد من الصلاحيات للملك الإنجليزي. يكتفي بثلاث نقاط ص ٧٤

(ثلاث درجات)

بالعكس من ذلك بل :

انتزعت من الملك الإنجليزي معظم صلاحياته وفقاً لوثيقة الحقوق الإنجليزية حيث جاء فيها :

- لا يجوز للملك إبطال أو تعديل قانون صادر عن البرلمان .
- لا يجوز للملك فرض ضرائب أو تشكيل جيش أو إعلان حرب دون موافقة البرلمان.
- للبرلمان الحق الكامل في التعبير عن آرائهم في حرية تامة .
- أعطي البرلمان حصانة للمواطنين حيث لا يمكن اعتقال مواطن دون محاكمة تجري وفق القوانين .

ب ( قارن بين كل من :- (درجات) لكل نقطة درجة ص ٨٠

أوجه المقارنة	مؤتمر فيلادلفيا الأول	مؤتمر فلادلفيا الثاني
السنة	١٧٧٤م $\frac{1}{6}$	١٧٧٥م $\frac{1}{6}$
القرارات	<p>- عدم الرضوخ للقوانين الجائرة التي أصدرتها إنجلترا ضد ميناء بوسطن</p> <p>- وجهوا طلباً من الشعب الأمريكي للملك الإنجليزي بإلغاء تلك القوانين الجائرة</p> <p>- إعادة سلاح المقاطعة التجارية للبضائع الإنجليزية .</p> <p>- تشكيل لجان في كل المدن لتنظيم عملية المقاطعة والإشراف عليها. ( يكتفي بنقطتين )</p>	<p>- اعتبار جيش بوسطن جيشاً أمريكياً يخص كل المستعمرات .</p> <p>- تعيين جورج واشنطن قائداً عاماً للقوات ، وبذلك تكون الجيش الوطني الأمريكي الذي سيخوض حرب الاستقلال الأمريكية .</p> <p>( يكتفي بنقطتين )</p>



درجتان

(٥) درجات

تابع السؤال الثالث (اختياري) :-

درجه ارم

ج- ماذا يحدث لو لم :-

ص ١٠٥

يكتفي بنقطتين

١- يسقط سوق الأوراق المالية في مدينة نيويورك عام ١٩٢٩م.

- لما أفلست كثير من البنوك والمؤسسات .
  - لما ظالبت البنوك والمؤسسات بديونها من اوروبا .
  - لما أغلقت المصانع وانتشرت البطالة .
  - لما إنتشرت اثارها في انحاء العالم .
  - لما إنخفضت الاسعار في الولايات المتحدة .
  - لما توقفت التطور الاقتصادي الاوروبي .
  - لما إنهار البنوك والمؤسسات الاوروبية .
  - لم تتراجع التجارة الخارجية والإنتاج العالمي .
- ( أي إجابة يراها المصحح مناسبة )

ص ١١١

يكتفي بنقطة

(درجة)

٢- تهاجم اليابان ميناء بيرل هاربر الأمريكي .

- لما دخلت الولايات المتحدة الأمريكية الحرب العالمية الثانية .
  - لما لقت الولايات المتحدة الأمريكية قنبلتين ذريتين على هيروشيما و نجازاكي .
- ( أي إجابة يراها المصحح مناسبة )



السؤال الرابع : ( اختياري ) يتكون من ( أ ، ب ، ج ) :-

ص ١١٦

أ- اقرأ الفقرة التالية ثم نفذ المطلوب منك :-

(اجتمع زعماء الدول الكبرى الثلاث (روزفلت - تشرشل - ستالين) في مؤتمر يالطا في الإتحاد السوفيتي عام ١٩٤٥م ودعوا الدول المحبة للسلام لحضور مؤتمر سان فرانسيسكو لإبرام ميثاق الأمم المتحدة ، فقامت (٥٠) دولة بالتوقيع على الميثاق ثم افتتحت هيئة الأمم المتحدة رسمياً في ٢٤ أكتوبر ١٩٤٥م ، وقد نادى بالمحافظة على السلام والأمن الدوليين ، وتحقيق التعاون الدولي في جميع المجالات .)

- ١- عرف ما تحته خط . ( هيئة الأمم المتحدة ) منظمة دولية تضم جميع دول العالم المستقلة تأسست عام ١٩٤٥م ، مقرها الولايات المتحدة الأمريكية .
- ٢- أستخرج من الفقرة السابقة هدفين من أهداف الأمم المتحدة .  
- المحافظة على السلام والأمن الدوليين .  
- تحقيق التعاون الدولي في جميع المجالات .

يكتفي بنقطتين

( درجتان )

ب فسر كلاً مما يلي :-

( درجة لكل نقطة )

١- استحالة التوافق بين الحاكم والمجلس التشريعي في المستعمرات الإنجليزية في أمريكا الشمالية .

درجتان

يكتفي بنقطتين ص ٧٧

- إن الحاكم يهمة بالدرجة الأولى مصالح الملك الذي يمثله بينما المجلس المنتخب (النيابي) يهمة مصالح الشعب الأمريكي في المقام الأول ويدافع عنها بإستقامته .  
كانت إنجلترا تنظر للمواطن الأمريكي على أنه مواطن من الدرجة الثانية بينما المجلس (النيابي) لا يرى أن هناك فارق بين المواطن الأمريكي والمواطن الإنجليزي .

درجتان

يكتفي بنقطتين ص ١٠٤

٢- فشل عصابة الأمم في تحقيق الغايات التي أنشئت من أجلها .  
- عدم التزام الدول الكبرى بميثاق العصبة - لم يكن للعصبة قوة عسكرية قادرة على تنفيذ قراراتها فأصبحت أداة لمصلحة الدول لكبرى . - سياسة الدول المنتصرة في الحرب . - لم تشارك الولايات المتحدة في عضويتها .

( درجة لكل نقطة )

ج - عدد كلاً مما يلي :-

يكتفي بـ ٣ نقاط ص ١١٥

- ١- ملامح عالما المعاصر .  
- اليابان قوة اقتصادية عظمي  
- ظهور دول نامية ومتخلفة اقتصاديا واجتماعيا  
- فجوة علمية اقتصادية بين الدول المتقدمة والنامية  
- مخاوف من حرب نووية واتفاقيات (سالت) لوقف التسلح واستخدام الأسلحة الفتاكة .  
- تفعيل مشروع مارشال ثم المجموعة الأوروبية ثم الإتحاد الأوروبي .  
- الولايات المتحدة زعيمة الكتلة الغربية الرأسمالية ثم القوة الأعظم بعد تفكك الإتحاد السوفيتي .  
- هيئة الأمم المتحدة لحفظ السلام والأمن والتعاون بين دول العالم .
- ٢- العوامل الاقتصادية للثورة الفرنسية .  
- الخسائر الكبيرة التي ترتبت على الحروب الخاسرة التي خاضتها فرنسا خلال القرن الثامن عشر مما أدى الى استنزاف كثير من أموال الخزانة الفرنسية وفقدت فرنسا الكثير من المستعمرات .  
- اشتراك فرنسا في حرب الاستقلال الأمريكية ونتيجة لذلك تحملت الخزانة أموالاً طائلة أجهزت على خزانة الدولة .  
- سياسة الامتيازات والاعفاءات الضريبية التي كانت فرنسا تطبقها على الطبقة الممتازة والكنيسة معفاة من جميع الضرائب .  
- حياة الترف والبدخ التي كان يعيشها البلاط الفرنسي .

٣ درجات

٣ درجات



تابع / امتحان تاريخ العالم الحديث والمعاصر - الصف الثاني عشر الأدبي - نهاية الفترة الدراسية الثانية - العام الدراسي ٢٠١٦/٢٠١٧م

السؤال الخامس: ( إختياري ) يتكون من ( أ ، ب ، ج ) :-

أ- فرق بين كل مما يلي :-

السبب المباشر للحرب العالمية الثانية ص ١١٠	السبب المباشر للحرب العالمية الأولى ص ١٠٠
مفاجئة هتلر للعالم أول سبتمبر ١٩٣٩ باجتياح بولندا ورفضه إنذار بريطانيا وفرنسا فأنقسم العالم إلي معسكرين الحلفاء والمحور وكانت هذه بداية الحرب العالمية الثانية .	قيام طالب صربي باغتيال ولي عهد النمسا فرديناند وزوجته في مدينة سراييفو عاصمة البوسنة في ٢٨ يونيو عام ١٩١٤م وكان هذا الحادث البداية التي أدت إلي قيام الحرب .
درجة ولصف	درجة ولصف

ب- نفذ المطلوب منك بين الأقواس :-

١- إصلاحات نابليون الداخلية .

- إصلاح أوضاع الكنيسة : في ١٦ يوليو ١٨٠١م وقع نابليون مع البابا ( بيوس السابع ) اتفاقاً نهائياً اعترفت فرنسا فيها بالكنيسة الكاثوليكية وسيادتها الروحية وفي المقابل اعترفت البابوية بقوانين مصادرة أملاك الكنيسة التي أصدرتها الثورة .

- يتم تعيين رجال الكنيسة بالتعاون بين البابوية والدولة الفرنسية .

٢- النازية .  
يكتفي ب٣ نقاط ص ١٠٧ ( مبادئها )

- تفوق العنصر البشري الجرمانى ( الألماني ) على جميع العناصر البشرية .

- قيام ألمانيا الكبرى التي تضم كل الألمان .

- امتلاك الدولة للشركات الاحتكارية - إلغاء معاهدة فرساي - استعادة المستعمرات الألمانية .

٣- الحرب العالمية الثانية .  
يكتفي بنقطتين ( النتائج البشرية ) ص ١١٤

- سقط في هذه الحرب حوالي ٥٠ مليون قتيل .

- شرد الملايين في أوروبا واليابان .

- انتشار ممارسة العنف .


- عم الخراب والدمار معظم أنحاء العالم وبرزت مشكلة المشوهين والمعاقمين

ج - أكتب فقرة مترابطة مستعيناً بالكلمات التالية :-  
(٣ درجات) ص ٧٥

( المجالس النيابية - الحق الإلهي المقدس - مجلس اللوردات - مجلس العموم )

قضت المجالس النيابية بعد الثورة الإنجليزية على الحق الإلهي المقدس الذي كان يمنح للملوك حيث تم الأخذ بمبدأ تركيز الحياة النيابية في مجلسي مجلس اللوردات الذي يمثل الأرستقراطية الإنجليزية و مجلس العموم الذي يمثل الديمقراطية .

( ما يراد المصحح مناسباً )



اجب عن أربعة أسئلة مما يلي على أن يكون السؤال الأول من بينها إجباريا:-

السؤال الأول (إجباري) ويتكون من ( أ - ب - ج - د ):-



( أ ) أكمل العبارات التالية بما يناسبها فيما درست:-

- ١- الكتاب الشهير الذي ألفه المفكر الفرنسي "روسو" يسمى.....
- ٢- المنظمة العالمية المسؤولة عن مواجهة المشاكل الصحية في العالم تسمى.....
- ٣- القانون الإنجليزي الذي فرض رسوما على المستندات التجارية وعقود البيع والرهن الأمريكية يسمى.....
- ٤- الحق الذي يتمتع به الأعضاء الدائمون في مجلس الأمن يسمى.....
- ٥- النهر الفرنسي الذي كان مسرحا لمعركتين حاسمتين في الحرب العالمية الأولى يسمى.....

( ب ) أعد ترتيب الأحداث التاريخية التالية تصاعديا من الأحدث ( إلى الأقدم ):-

( سقوط موسوليني - هتلر يكتسح بولندا - استسلام فرنسا للألمان - إنزال الحلفاء في النورماندي - انتحار هتلر )

.....	.....	.....	.....	.....
-------	-------	-------	-------	-------

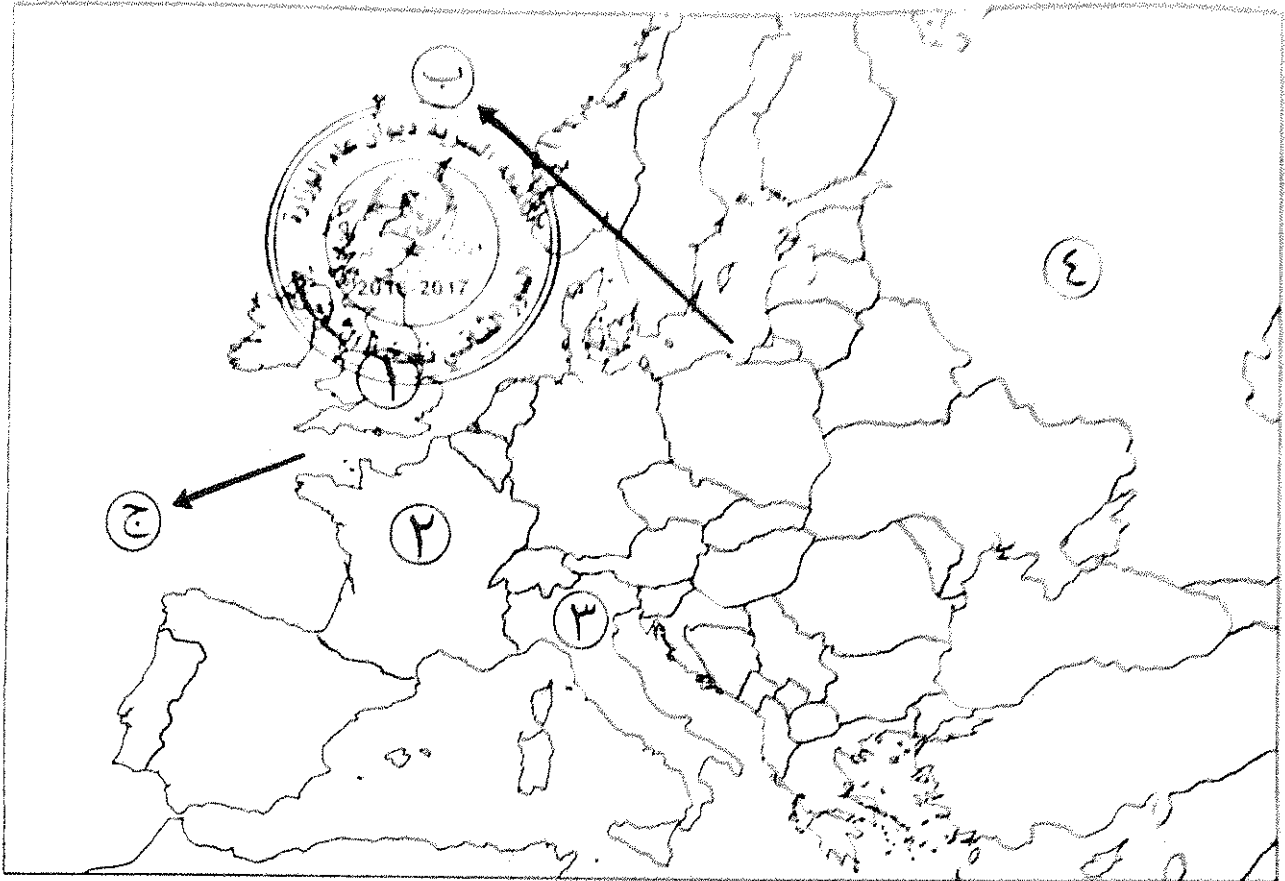
( ج ) ضع أسماء المجالس التالية في مكانها الصحيح حسب الجدول التالي:-

( طبقات الأمة - الكونجرس - اللوردات - العموم - الخمسمائة )

مجالس إنجليزية	مجالس فرنسية	مجالس أمريكية
.....	.....	.....
.....	.....	.....

تجميع السؤال الأول ( إجباري ) :-

( اعمد خريطة أوروبا - اكتب الرقم او الحرف الدال على العبارات التي تليها :-

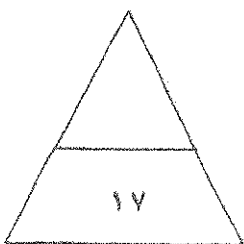


- الدولة التي حكمها النظام الفاشي يمثلها على الخريطة الرقم .....

- العاصمة التي تم فيها توقيع معاهدة استقلال الولايات المتحدة الأمريكية يمثلها على الخريطة الرقم .....

- الدولة التي قامت فيها الثورة المجيدة عام ١٦٨٩م يمثلها على الخريطة الرقم .....

- العمر العالمي الذي كان الصراع عليه سببا مباشرا لقيام الحرب العالمية الثانية يمثله على الخريطة الحرف .....



مجموع درجات السؤال الأول .....

السؤال الثاني (اختياري) ويتكون من (أ - ب - ج) :-

(أ) فند العبارات التالية :-

١- لا يجوز وصف ما حدث لبورصة نيويورك (وول ستريت) عام ١٩٢٩م بأزمة.

٢- لعبت ماري أنطوانيت زوجة الملك الفرنسي لويس السادس عشر دورا كبيرا في تعزيز مكانته الشعبية.



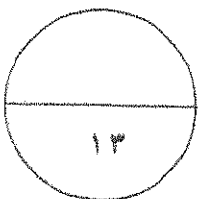
(ب) قارن بين كل من :-

أوجه المقارنة	حاكم المستعمرة الإنجليزية	المجلس النيابي في المستعمرة الإنجليزية
طريقة التعيين		
المهام		

(ج) علل لما يلي :-

١- ظهور الحركة النازية في ألمانيا.

٢- توقيع بريطانيا وفرنسا الاتفاق الودي عام ١٩٠٤م.



مجموع درجات السؤال الثاني .....



السؤال الثالث ( اختياري ) ويتكون من ( أ - ب - ج - د ) :-

أ) علل لما يلي :-

١- انقسام العالم سياسيا في أواخر القرن التاسع عشر وبداية القرن العشرين.



ب) دلل على صحة العبارة التالية :-

١- قامت الجمعية الوطنية الفرنسية بإصلاحات إدارية عديدة من أجل ترقية الحقوق الفرنسية ودستور عام ١٧٩١م.

ج) اكتب النتائج المترتبة على الأحداث التالية :-

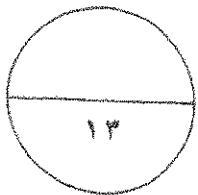
١- الثورة الأمريكية.

٢- الحرب العالمية الأولى.

د) عرف ما يلي :-

١- الكنيسة الإنجليكانية:

٢- البلقان:



مجموع درجات السؤال الثالث .....

السؤال الرابع ( اختياري ) ويتكون من ( أ - ب - ج ) :-

( أ ) ماذا يحدث لو لم :-

١- تنتهك ألمانيا حياد البلجيك عام ١٩١٤م.

٢- تهاجم اليابان ميناء بيرل هاربر عام ١٩٤١م.

٣- تخسر فرنسا الحروب التي خاضتها في القرن الثامن عشر



( ب ) فرق بين كل مما يلي :-

دول المحور في الحرب العالمية الثانية	دول الحلفاء في الحرب العالمية الثانية
.....	.....
.....	.....
العلاقات الدولية	الاتفاقيات الدولية
.....	.....
.....	.....


( ج ) نفذ المطلوب منك ما بين الأقواس :-

(النتائج)

١- سقوط حصن الباستيل عام ١٧٨٩م.

(البنود)

٢- لائحة الحقوق الإنجليزية.



مجموع درجات السؤال الرابع .....

السؤال الخامس ( اختياري ) ويتكون من ( أ - ب - ج ) :-

( أ ) اقرأ الفقرة التالية ثم نفذ المطلوب :-

"في مساء ١٦ سبتمبر سنة ١٧٧٣م تسلل عدد من الأمريكيين إلى ميناء بوسطن ليلا والقوا بحمولة ثلاث سفن إنجليزية من الشاي في البحر، وقد أثار هذا العمل غضب البرلمان الإنجليزي الذي أصدر عدة قرارات لمعاقبة ميناء بوسطن كان من أبرزها إغلاق ميناء بوسطن حتى يتم دفع ثمن الشاي وتعيين الجنرال جيدج حاكما عسكريا على بوسطن."



١- ضع عنوانا للفقرة السابقة.

٢- استخرج من الفقرة السابقة القرارات التي اتخذها البرلمان الإنجليزي لمعاقبة ميناء بوسطن.

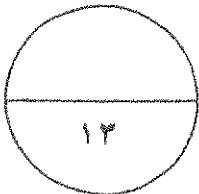
( ب ) قارن بين كل من :-

معاركة فالمي	معاركة ساراتوجا	أوجه المقارنة
م .....	م .....	العام
.....	.....	النتائج

( ج ) عدد لكل من الأسئلة التالية :-

١- العوامل التي ساعدت على نجاح الثورة الشيوعية في روسيا عام ١٩١٧م.

٢- أهداف منظمة الأمم المتحدة.



( انتهت الاسئلة )  
مع تمنياتنا بالنجاح والتوفيق

مجموع درجات السؤال الخامس .....

اجب عن اربعة أسئلة مما يلي على ان يكون السؤال الأول من بينها إجباريا:-



السؤال الأول (إجباري) ويتكون من ( أ - ب - ج - د ):-

- ( أ ) أكمل العبارات التالية بما يناسبها فيما درست:- ( ٥ درجات )
- ١- الكتاب الشهير الذي ألفه المفكر الفرنسي "روسو" يسمى العقد الاجتماعي (ص ١١٨)
  - ٢- المنظمة المسؤولة عن مواجهة المشاكل الصحية تسمى منظمة الصحة العالمية (WHO) (ص ١١٨)
  - ٣- القانون الإنجليزي الذي فرض رسوما على المستندات التجارية وعقود البيع والرهن الأمريكية يسمى .. التمغة (ص ٧٨)
  - ٤- الحق الذي يتمتع به الأعضاء الدائمون في مجلس الأمن يسمى النقض (الفيتو) (ص ١١٧)
  - ٥- النهر الفرنسي الذي كان مسرحا لمعركتين حاسمتين في الحرب العالمية الأولى يسمى المارن (ص ١٠١)
- ( ب ) أعد ترتيب الأحداث التاريخية التالية تصاعديا من الأحدث إلى الأقدم:- ( ٥ درجات ) (ص ١١٣)
- ( سقوط موسوليني - هتلر يكتسح بولندا - استسلام فرنسا للألمان - إنزال الحلفاء في النورماندي - انتحار هتلر )

انتحار هتلر	إنزال الحلفاء في النورماندي	سقوط موسوليني	استسلام فرنسا للألمان	هتلر يكتسح بولندا
-------------	-----------------------------	---------------	-----------------------	-------------------

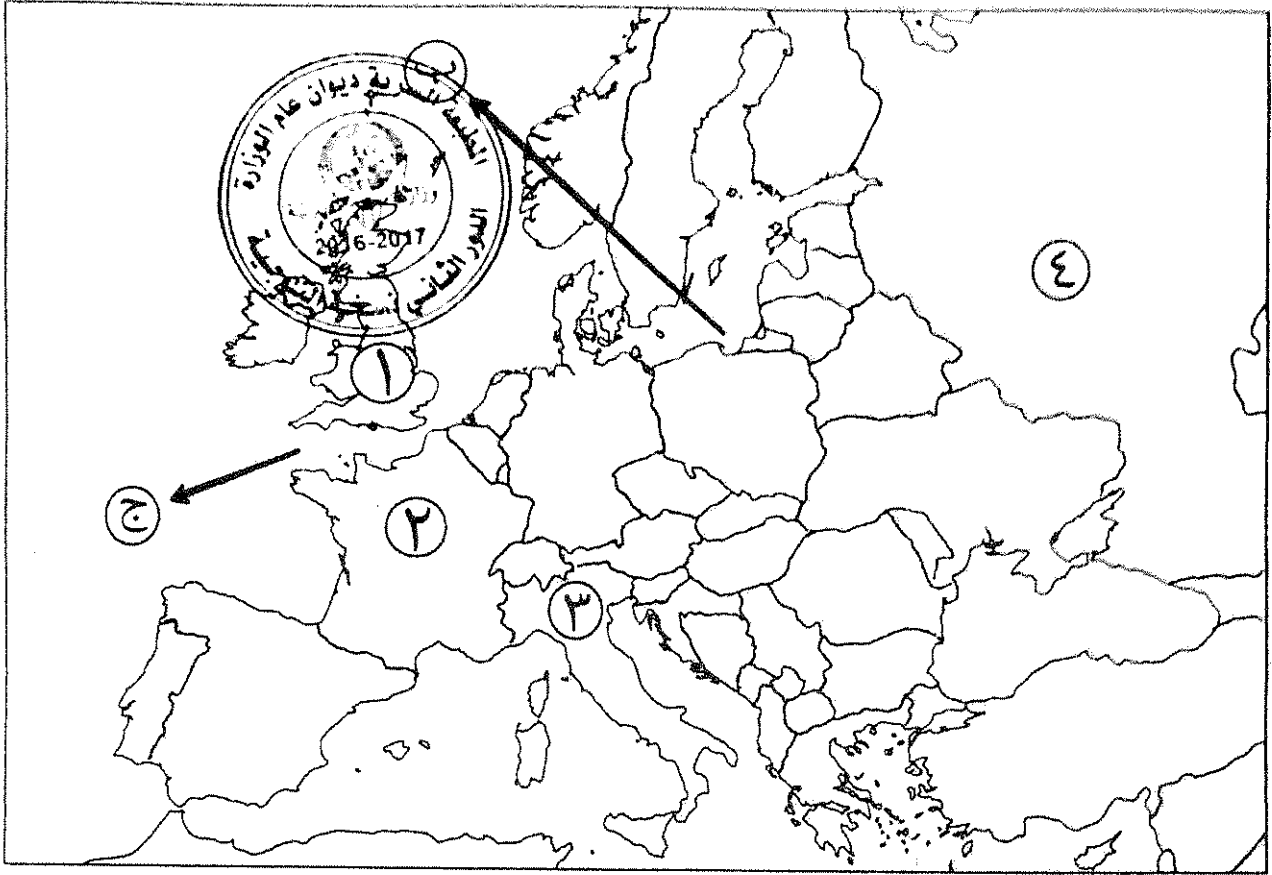
( ج ) ضع أسماء المجالس التالية في مكانها الصحيح حسب الجدول التالي: ( ٥ درجات )

( طبقات الأمة - الكونجرس - اللوردات - العموم - الخمسمائة )

مجالس إنجليزية	مجالس فرنسية	مجالس أمريكية
اللوردات (ص ٧٥) العموم (ص ٧٥)	طبقات الأمة (ص ٨٧) الخمسمائة (ص ٩٢)	الكونجرس (ص ٨١)

تابع السؤال الأول ( الإجابى ) :-

(د) أمامك خريطة أوروبا - اكتب الرقم أو الحرف الدال على العبارات التى تليها :-  
( لكل نقطة نصف درجة )



- الدولة التى حكمها النظام الفاشى يمثلها على الخريطة الرقم .. ٣ (ص ١٠٨)

- العاصمة التى تم فيها توقيع معاهدة استقلال الولايات المتحدة الأمريكية يمثلها على الخريطة الرقم .. ٢ (ص ٨٢)

- الدولة التى قامت فيها الثورة المجيدة عام ١٦٨٩م يمثلها على الخريطة الرقم .. ١ (ص ٧٣)

- الممر المائى الذى كان الصراع عليه سببا مباشرا لقيام الحرب العالمية الثانية يمثلها على الخريطة الحرف..ب  
(ص ١١٠)

السؤال الثاني ( اختياري ) ويتكون من ( أ - ب - ج ) :-

( أ ) فند العبارات التالية :-

- ١- لا يجوز وصف ما حدث لبورصة نيويورك ( وول ستريت ) عام ١٩٢٩م بأزمة. ( ٣ درجات ) (ص ١٠٥)  
بل بالعكس حيث:  
- أفلس العديد من البنوك والمؤسسات وانخفضت الأسعار في الولايات المتحدة فقامت هذه البنوك والمؤسسات بالمطالبة بديونها من أوروبا.  
- توقف التطور الاقتصادي الأوروبي الذي اعتمد على الاستقرار المالي للولايات المتحدة فأغلقت المصانع وانهارت البنوك والمؤسسات الأوروبية.  
- شهدت الفترة ما بين ١٩٢٩/١٩٣٩م تراجعا في التجارة الخارجية والإنتاج العالمي.

- ٢- لعبت ماري أنطوانيت زوجة الملك الفرنسي لويس السادس عشر دورا كبيرا في تعزيز مكانته الشعبية. (درجتان) (ص ٨٤)

- بل على العكس حيث:  
- اشتركت في المؤامرات التي تعين وتعزل الورثة.  
- عدم إحساسها بما يعانيه الشعب الفرنسي من آثار المجاعة الأمر الذي خلق شعورا بالاستياء لدى الشعب.

( ب ) قارن بين كل من :- ( ٤ درجات ) (ص ٧٧)

أوجه المقارنة	حاكم المستعمرة الإنجليزية	المجلس النيابي في المستعمرة الإنجليزية
طريقة التعيين	يعزل ويعين من الملك الإنجليزي	يتم انتخابه من شعب الولاية
المهام	- وهو يمثل الملك الإنجليزي في المستعمرة، والمسؤول الأول عن رعاية شؤون الولاية والمحافظة على الأمن. - يقوم بسن القوانين والضرائب . - مراقبة الموظفين في الولاية. ( يكتفى بمهمة واحدة )	

( ج ) علل لما يلي :-

- ١ ظهور الحركة النازية في ألمانيا.  
- بسبب سخط الشعب الألماني على حكومته لموافقته على شروط معاهدة فرساي المذلة له.  
- بالإضافة إلى آثار الأزمة الاقتصادية التي قاست منها ألمانيا أكثر من غيرها.  
- وبسبب انتشار الأفكار الشيوعية ومحاولة العمال الاستيلاء على السلطة.

- ٢- توقيع بريطانيا وفرنسا الاتفاق الودي عام ١٩٠٤م.  
- لشعورها بالخطر من تقدم ألمانيا الصناعي والاقتصادي.  
- ونمو قوتها البحرية مما يهدد سيادتها.

السؤال الثالث ( اختياري ) ويتكون من ( أ - ب - ج - د ) :-

أ) علل لما يلي :-

- ١- انقسام العالم سياسيا في أواخر القرن التاسع عشر وبداية القرن العشرين. (٣ درجات) (ص ٩٧) (يكتفى بثلاث)
  - بروز النزعة القومية.
  - تصادم الأيدولوجيات.
  - تضارب المصالح الاقتصادية.
  - سياسة التوسع للسيطرة على مناطق مختلفة من العالم وما صاحبه من السياق إلى التسلح.

ب) دلل على صحة العبارة التالية:

- ١- قامت الجمعية الوطنية الفرنسية بإصلاحات إدارية **بعد إصدارها لثلاث دساتير** (يكتفى بثلاث) (٣ درجات) (ص ٨٩)
  - قسمت فرنسا إلى محافظات جغرافية وليس على أساس طقفي.
  - ألغت النظام القضائي القديم وأصبح منصب القاضي انتخابيا.
  - إصلاح النظام الضريبي والمالي حيث وزعت الضرائب على أساس التثمين السري بين جميع الأفراد وطبقا لدخل كل فرد.
  - وجهت إصلاحاتها نحو الكنيسة الفرنسية فصدر قرار بمصادرة أملاكها.

ج) اكتب النتائج المترتبة على الأحداث التالية:

- ١- الثورة الأمريكية. (٣ درجات) (ص ٨٣) (يكتفى بثلاث)
  - انتشرت عدواها إلى سكان أمريكا الجنوبية (اللاتينية).
  - تشجيع سكان المستعمرات البريطانية في آسيا وأفريقيا على القيام بثورات ضدها كي يتخلصوا من استعمارها.
  - صارت الولايات المتحدة ملاذا لدعاة الفكر من الأوروبيين ورمزا للحرية والتجديد.
  - كانت سببا مباشرا في قيام الثورة الفرنسية لأن فرنسا أنفقت أموالا طائلة في حربها ضد بريطانيا في العالم الجديد، وهي تساند الثوار وتساعدهم وتحارب إلى جانبهم مما أرهاق ميزانية الدولة الفرنسية وحملها الكثير من الديون فكانت سببا في حدوث الأزمة المالية في عهد الملك الفرنسي لويس السادس عشر سنة ١٧٨٩م.

٢- الحرب العالمية الأولى. (درجتان) (ص ١٠٢) (يكتفى بنتيجتين)

- تركت الحرب دمارا هائلا.
- خسائر مادية وبشرية فسقط ملايين القتلى والجرحى بالإضافة إلى الركود الاقتصادي في العالم.
- حدوث تغيير جذري في خريطة أوروبا السياسية.

د) عرف ما يلي :-

- ١- الكنيسة الإنجليكانية: (درجة) (ص ٧٣)
  - هي الكنيسة الإنجليزية التي تعتنق المذهب البروتستانتي المعادي بشدة للمذهب الكاثوليكي.
- ٢- البلقان: (درجة) (ص ١٠٠)
  - اصطلاح سياسي يطلق على مجموعة دول أوروبا الشرقية (يوغسلافيا السابقة - اليونان - بلغاريا - ألبانيا)

السؤال الرابع ( اختياري ) ويتكون من ( أ - ب - ج ) :-

(أ) ماذا يحدث لو لم :-

- ١- تنتهك ألمانيا حياد البلجيك عام ١٩١٤م. (درجة) (ص ١٠٠)  
لما أعلنت بريطانيا الحرب على ألمانيا. (ما يراه المصحح مناسباً)
- ٢- تهاجم اليابان ميناء بيرل هاربر عام ١٩٤١م. (درجة) (ص ١١١)  
لما دخلت الولايات الأمريكية المتحدة الحرب العالمية الثانية إلى جانب الحلفاء. (ما يراه المصحح مناسباً)
- ٣- تخسر فرنسا الحروب التي خاضتها في القرن الثامن عشر. (درجة) (ص ٨٦)  
- لما استنزفت كثير من أموال الخزانة الفرنسية.  
- لما فقد الفرنسيون الكثير من المستعمرات التي كانت تدبرهم في آسيا وأفريقيا.  
- لما قامت الثورة الفرنسية. (ما يراه المصحح مناسباً)



(ب) فرق بين كل مما يلي :- (٤ درجات)

دول المحور في الحرب العالمية الثانية (ص ١١٠)	دول المحور في الحرب العالمية الثانية (ص ١١٠)
حلف تكون من بريطانيا وفرنسا والاتحاد السوفيتي والولايات المتحدة ودول أخرى ومستعمرات الصغيرة.	حلف تكون من ألمانيا وإيطاليا واليابان مع بعض الدول الصغيرة.
الاتفاقيات الدولية (ص ٩٧)	العلاقات الدولية (ص ٩٧)
تشريعات يتفق عليها دوليا وهي مقننة تلتزم الدول المشتركة بها.	الاتصالات بين الدول وبين المنظمات الدولية في جميع المجالات.

(ج) نفذ المطلوب منك ما بين الأقواس :-

- ١- سقوط حصن الباستيل عام ١٧٨٩م. (٣ درجات) (ص ٨٨) (يكتفى بثلاث) (النتائج)  
- عمت الفوضى في كل مكان.  
- وتوقف الفلاحون عن دفع الضرائب.  
- وانقض الفلاحون على قصور النبلاء وأحرقوا الوثائق التي تعطيهم حقوقا إقطاعية.  
- هجرة العديد من النبلاء إلى خارج فرنسا.
- ٢- لائحة الحقوق الإنجليزية. (٣ درجات) (ص ٧٤) (يكتفى بثلاث) (البنود)  
- لا يجوز للملك إبطال أو تعديل قانون صادر من البرلمان.  
- لا يحق للملك فرض ضرائب جديدة أو تشكيل جيش أو إعلان حرب دون موافقة البرلمان.  
- للبرلمان الحق الكامل في التعبير عن آرائهم بحرية تامة.  
- أعطى البرلمان حصانة للمواطنين بحيث لا يمكن اعتقال مواطن دون محاكمة تجرى وفق القوانين السائدة.



السؤال الخامس ( اختياري ) ويتكون من ( أ - ب - ج ) :-

(أ) اقرأ الفقرة التالية ثم نفذ المطلوب :- (٣ درجات) (ص ٧٩)  
 "في مساء ١٦ سبتمبر سنة ١٧٧٣م تسلل عدد من الأمريكيين إلى ميناء بوسطن ليلا وألقوا بحمولة ثلاث سفن إنجليزية من الشاي في البحر، وقد أثار هذا العمل غضب البرلمان الإنجليزي الذي أصدر عدة قرارات لمعاقبة ميناء بوسطن كان من أبرزها إغلاق ميناء بوسطن حتى يتم دفع ثمن الشاي وتعيين الجنرال جيدج حاكما عسكريا على بوسطن."

١- اضع عنوانا للفقرة السابقة.  
 حفلة شاي بوسطن ١٧٧٣م. (أو ما يراه المصحح مناسباً)

٢- استخرج من الفقرة السابقة القرارات التي اتخذها البرلمان الإنجليزي لمعاقبة ميناء بوسطن.  
 - إغلاق ميناء بوسطن حتى يتم دفع الشاي.  
 - تعيين الجنرال جيدج حاكما عسكريا على بوسطن.



(ب) قارن بين كل من: (٤ درجات)

المعيار	معركة ساراتوجا (ص ٨٢)	معركة فالمي
العام	١٧٧٧ م	١٧٩٢ م
النتائج	- خسر الإنجليز جيشا كاملا من ٦ الاف جندي واستسلم. - سيطر الأمريكيون على حوض هدسون. - إعتراف فرنسا باستقلال الثوار الأمريكيين ودخولها الحرب إلى جانبهم. - زاد تعاطف الشعوب الأوروبية مع الثورة الأمريكية. (يكتفى بنتيجة واحدة)	- أنقذت أفكار الثورة الفرنسية من الضياع. - حالت دون وقوع باريس. - رفعت الروح المعنوية للفرنسيين. - تحول جيش الثورة من الفاع للهجوم وأصبح مصدر رعب للدول الأوروبية فيما بعد. (يكتفى بنتيجة واحدة)

(ج) عدد لكل من الأسئلة التالية :-

١- العوامل التي ساعدت على نجاح الثورة الشيوعية في روسيا عام ١٩١٧م. (٣ درجات) (ص ١٠٦)  
 - فساد الحكم القيصري في روسيا واستبداده.  
 - الهزائم الكبرى التي حلت بالجيش الروسي منذ عام ١٩٠٥م على يد اليابان ثم الحرب العالمية الأولى وسقوط ملايين القتلى والجرحى.  
 - سوء الحالة الاقتصادية التي تأثر بها العمال والفلاحون وانتشار البطالة والمجاعات والأمراض.  
 - شخصية لينين وقدرته على إقناع الجماهير من خلال رفعه شعاره المشهور (السلام للجيش/الغذاء للجميع/الغذاء للجميع/الحكم للسوفيت) وتنظيم الحزب الشيوعي. (يكتفى بثلاث)

٢- أهداف منظمة الأمم المتحدة. (٣ درجات) (ص ١١٦) (يكتفى بثلاث)  
 - المحافظة على الأمن والسلام الدوليين وحل النزاعات بالطرق السلمية.  
 - تنمية العلاقات الدولية بين الدول على المساواة واحترام حقوق الإنسان.  
 - تحقيق التعاون الدولي في جميع المجالات.  
 - تكون الأمم المتحدة أداة للتنسيق بين أعمال الدول والمنظمات الأخرى.



وزارة التربية

امتحان نهاية الفترة الدراسية الرابعة

عدد الصفحات ( ٧ )

التوجيه الفني العام للإجتماعيات

للسف الثاني عشر الأدبي

الزمن : ساعتان وربع

المقرر الدراسي : تاريخ العالم الحديث والمعاصر

العام الدراسي ٢٠١٤/٢٠١٥م

أجب على أربعة أسئلة مما يلي على أن يكون السؤال الأول من بينها إجبارياً :-

السؤال الأول : ( إجباري ) يتكون من ( أ ، ب ، ج ، د ، هـ ) :-

أ- اختر الإجابة الصحيحة من بين البدائل التي تلي كل عبارة مما يلي وضع خطاً تحتها :-

١- أصدر الكونجرس الأمريكي إعلان الاستقلال في ٤ يوليو عام :

أ- ١٧٧٦م ب- ١٧٧٧م

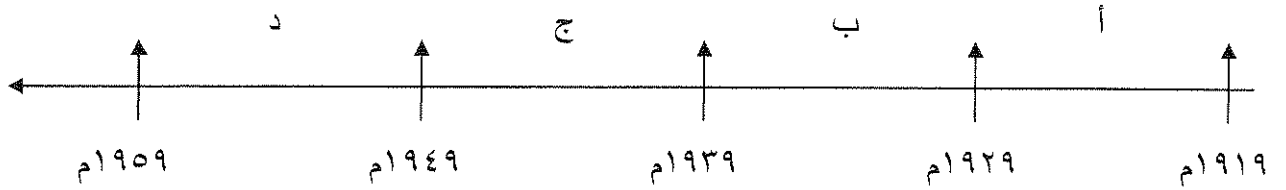
ج- ١٧٧٨م د- ١٧٧٩م

٢- المستعمرة الإنجليزية التي تأسست سنة ١٦٠٧م في أمريكا الشمالية :

أ- نيويورك ب- جيمس تون

ج- بوسطن د- واشنطن

٣- الفترة الزمنية التي حدثت فيها الأزمة الاقتصادية العالمية يمثلها على المخطط الزمني الحرف :



٤- المفكر الذي ألف كتاب العقد الاجتماعي :

أ- روسو ب- جون لوك

ج- فولتير د- منتيسكيو

٥- أعلنت بريطانيا الحرب على ألمانيا في ٤ / ٨ / ١٩١٤م بسبب :

أ- حشود القوات الألمانية على الحدود الروسية

ب- احتلال ألمانيا لمنطقة الراين

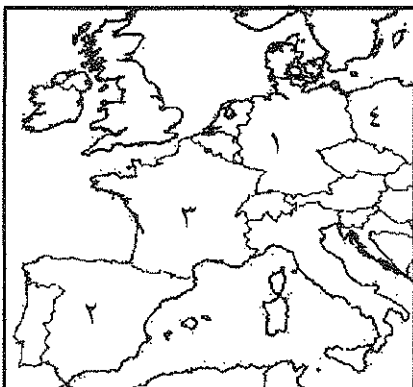
ج- مهاجمة ألمانيا للسفن الأمريكية

د- انتهاك ألمانيا حياد البلجيك

٦- دولة هرب إليها الملك جيمس الثاني يمثلها على الخريطة المقابلة الرقم :

أ- ( ١ ) ب- ( ٢ )

ج- ( ٣ ) د- ( ٤ )



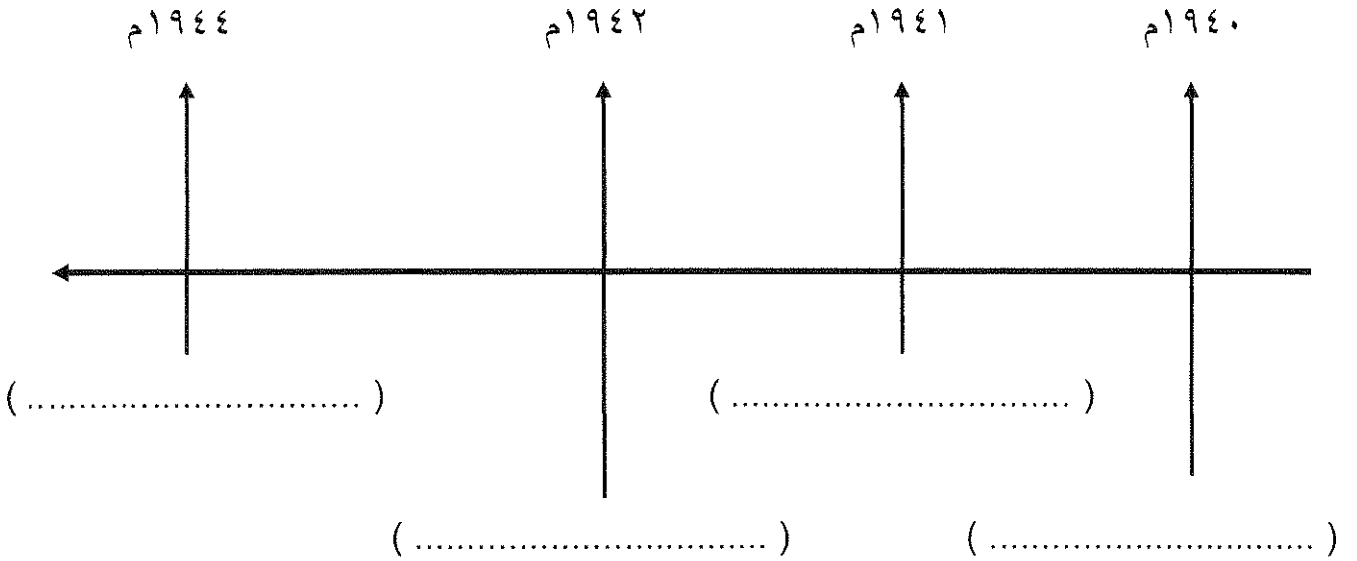
تابع السؤال الأول ( الإجباري ) :-

ب - اكتب المفهوم الدالة عليه العبارات التالية :-

- ١- ( ..... ) جماعة أمريكية نظمت المعارضة وقاومت القوانين الإنجليزية سيئة السمعة .
- ٢- ( ..... ) إتفاقيات حرم بموجبها استخدام الأسلحة الفتاكة .
- ٣- (.....) المجالس الشيوعية المحلية التي أسسها الحزب الشيوعي في روسيا .
- ٤- (.....) مجلس يضم نواب الطبقتين الأرستقراطية الإقطاعية ورجال الدين ويعينهم الملك الإنجليزي .

ج - رتب الأحداث التاريخية التالية وفقاً للمخطط الزمني التالي لها :-

- \* إنزال الحلفاء في النورماندي .
- \* هزيمة دول المحور في ستالينجراد .
- \* فرنسا تستسلم لألمانيا .
- \* اليابان تهاجم ميناء بيرل هاربر .



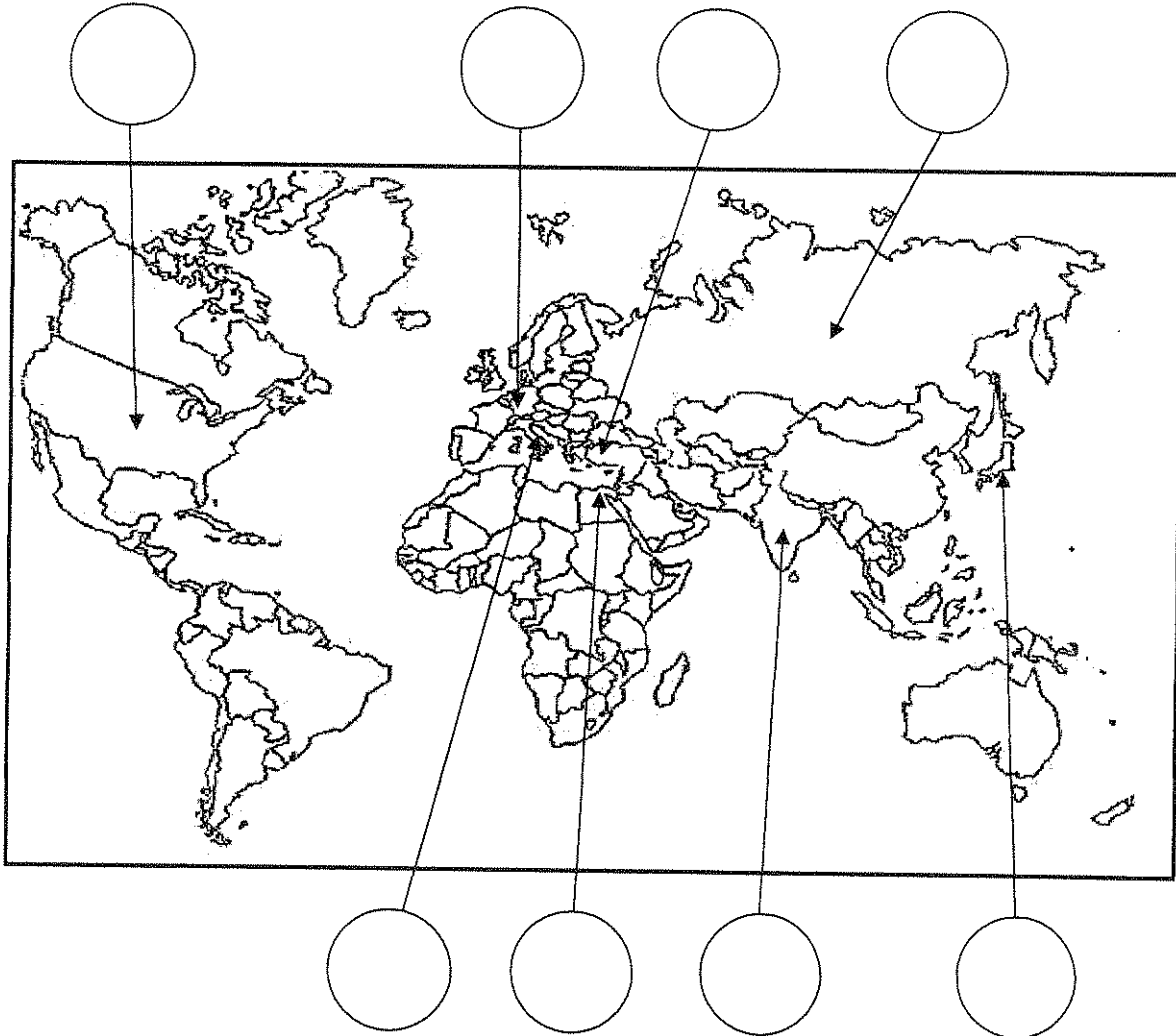
د - صنف الأسماء التالية حسب الجدول :-

- ( روسو - نيكر - دانتون - فولتير - ميرابو - منتيسكيو )

مفكرون	سياسيون

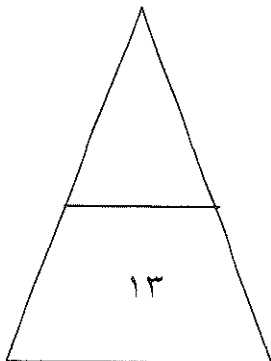
تابع السؤال الأول ( الإجباري ) :-

هـ - لاحظ خريطة العالم التي أمامك جيدا ثم نفذ المطلوب :-



- ضع رقم كل عبارة مما يلي في الدائرة المناسبة لها على الخريطة :-

- ١- دولة استسلمت دون قيد أو شرط إثر ضربها بقنبلتين ذريتين .
- ٢- إمبراطورية إسلامية تفككت بعد الحرب العالمية الأولى .
- ٣- دولة ظهرت كوحدة سياسية مجتمعة في العالم الجديد عام ١٧٨٣م .
- ٤- دولة قامت فيها الحركة الفاشية عام ١٩٢٢م .
- ٥- دولة وقعت على أرضها معركة العلمين عام ١٩٤٢م .
- ٦- دولة أوروبية هزمت في الحرب العالمية الأولى وتحملت مسؤولية الحرب .



السؤال الثاني : ( اختياري ) يتكون من (أ- ب- ج):-

أ- دلل على صحة العبارات التالية :-

١- تعتبر الثورة الفرنسية واحدة من أهم الثورات الكبرى في العالم .

\*

\*

٢- اختلفت الحرب العالمية الثانية عن جميع الحروب التي سبقتها .

\*

\*

ب- عرف ما يلي :-

١- الحلف الفولاذي :

٢- نازية :

٣- مجلس العموم :

ج- علل لما يلي:-

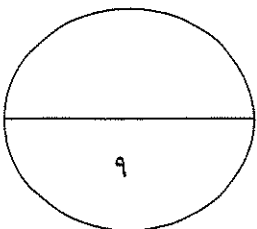
١- أثار قانون التمغة أكبر قدر من المعارضة لدى الأمريكيين .

\*

٢- كانت القارة الأوروبية محور العلاقات الدولية في بداية القرن العشرين .

\*

\*



السؤال الثالث : (اختياري) يتكون من ( أ - ب - ج ) :-

أ- اقرأ الفقرة التالية ثم نفذ المطلوب :-

" انقسم العالم سياسياً في أواخر القرن التاسع عشر وبداية القرن العشرين الميلادي بسبب عدة عوامل أهمها بروز النزعة القومية وتصادم الأيديولوجيات وسياسة التوسع للسيطرة على مناطق مختلفة من العالم ."

١- عرف ما تحته خط .

الأيديولوجية : .....

.....

٢- استخرج من الفقرة أسباب انقسام العالم سياسياً .

..... \*

..... \*

ب- فرق حسب الجدول :-

القوانين الجائرة	القوانين سينة السمعة
.....	.....
.....	.....
.....	.....

ج- برهن على صحة العبارات التالية :-

١- ساهمت شروط معاهدات الصلح عام ١٩١٩م في قيام الحرب العالمية الثانية .

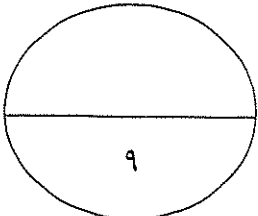
..... \*

..... \*

٢- لم تقتصر إصلاحات الجمعية الوطنية على إصدار وثيقة الحقوق الفرنسية ودستور ١٧٩١م .

..... \*

..... \*



السؤال الرابع : (اختياري) يتكون من (أ- ب - ج) :-

أ- اكتب فقرة مترابطة من ثلاثة أسطر مستعينا بالكلمات التالية :-

( الكساد الإقتصادي - بورصة نيويورك - النظام الجديد - الإقتصاد الرأسمالي الحر )

.....  
.....  
.....

ب- نفذ المطلوب منك بين الأقواس :-

١- الثورة الإنجليزية . ( نتائجها )

..... \*

..... \*

٢- إصلاحات نابليون الداخلية . ( الإصلاح الإداري )

..... \*

..... \*

٣- الدستور الأمريكي ١٧٨٩ م . ( مميزاته )

..... \*

..... \*

ج - ما تفسيرك لكل مما يلي :-

١- تغير أوضاع الحرب العالمية الثانية عام ١٩٤٢ م لصالح الحلفاء .

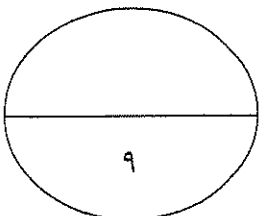
..... \*

..... \*

٢- نجاح الثورة الشيوعية في روسيا عام ١٩١٧ م .

..... \*

..... \*



السؤال الخامس : ( اختياري ) يتكون من ( أ- ب- ج ) :-

أ- عدد لكل مما يلي :-

١- مبادئ لائحة الحقوق الإنجليزية ١٦٨٩ م .

\*

\*

٢- نتائج سقوط حصن الباستيل ١٧٨٩ م .

\*

\*

ب- فرق حسب الجدول :-

السبب المباشر لقيام الحرب العالمية الثانية	السبب المباشر لقيام الحرب العالمية الأولى
*	*

ج- اكتب مهام الأجهزة التالية :-

١- منظمة التربية والعلوم والثقافة ( اليونسكو ) .

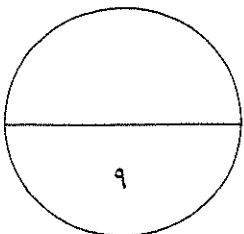
\*

٢- منظمة التغذية والزراعة ( الفاو ) .

\*

٣- محكمة العدل الدولية .

\*



انتهت الأسئلة



وزارة التربية الإجابة النموذجية لامتحان نهاية الفترة الدراسية الرابعة ( عدد الصفحات : ٧ )  
التوجيه الفني العام للاجتماعيات للصف الثاني عشر الأدبي الزمن : ساعتان وربع  
المقرر الدراسي : تاريخ العالم الحديث والمعاصر العام الدراسي ٢٠١٤/٢٠١٥ م

أجب على أربعة أسئلة مما يلي على أن يكون السؤال الأول من بينها إجبارياً :-

السؤال الأول : ( إجباري ) يتكون من ( أ ، ب ، ج ، د ، هـ ) :- ( كل نقطة نصف درجة )

أ- اختر الإجابة الصحيحة من بين البدائل التي تلي كل عبارة مما يلي وضع خطأ تحتها :-

١- أصدر الكونجرس الأمريكي إعلان الاستقلال في ٤ يوليو عام : ص ٨١

ب- ١٧٧٧ م

أ- ١٧٧٦ م

د- ١٧٧٩ م

ج- ١٧٧٨ م

٢- المستعمرة الإنجليزية التي تأسست سنة ١٦٠٧ في أمريكا الشمالية : ص ٧٦

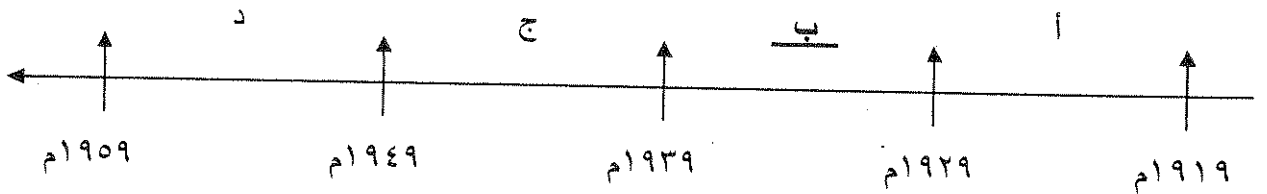
ب- جيمس تون

أ- نيويورك

د- واشنطن

ج- بوسطن

٣- الفترة الزمنية التي حدثت فيها الأزمة الاقتصادية العالمية يمثلها على المخطط الزمني الحرف : ص ١٠٥



٤- المفكر الذي ألف كتاب العقد الاجتماعي : ص ٨٥

ب- جون لوك

أ- روسو

د- منتيسكيو

ج- فولتير

٥- أعلنت بريطانيا الحرب على ألمانيا في ٤ / ٨ / ١٩١٤ م بسبب : ص ١٠٠

ب- احتلال ألمانيا لمنطقة الراين

أ- حشود القوات الألمانية على الحدود الروسية

د- انتهاك ألمانيا حياض البلجيك

ج- مهاجمة ألمانيا للسفن الأمريكية

ص ٧٤

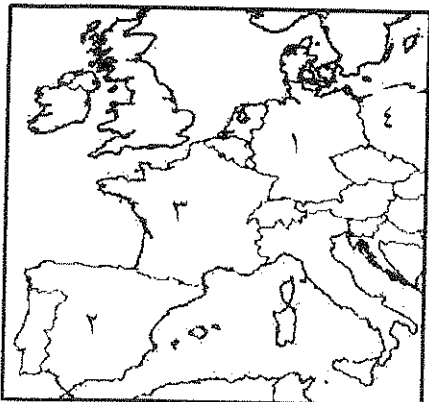
٦- دولة هرب إليها الملك جيمس الثاني يمثلها على الخريطة المقابلة الرقم :

ب- ( ٢ )

أ- ( ١ )

د- ( ٤ )

ج- ( ٣ )



( ١ )

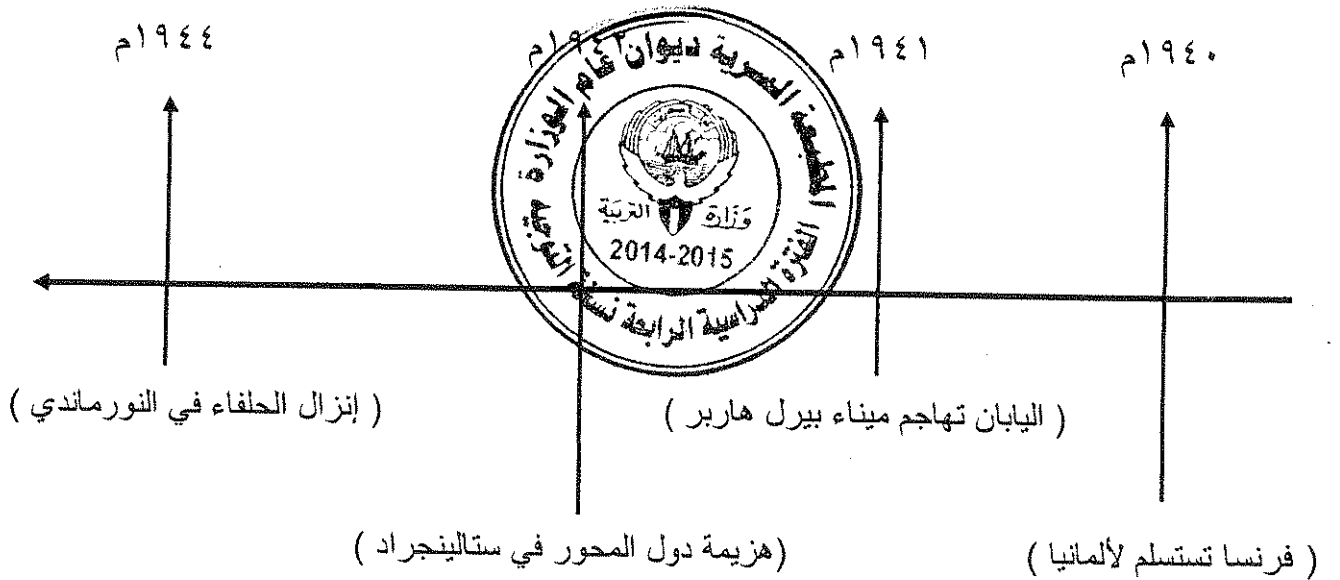
تابع السؤال الأول ( الإجباري ) :-

ب - اكتب المفهوم الدالة عليه العبارات التالية :-

- ١- (أبناء الحرية) جماعة أمريكية نظمت المعارضة وقامت القوانين الإنجليزية سيئة السمعة . ص ٧٨
- ٢- (إتفاقيات سالت ) إتفاقيات حرم بموجبها استخدام الأسلحة الفتاكة . ص ١١٥
- ٣- (السوفيت) المجالس الشيوعية المحلية التي أسسها الحزب الشيوعي في روسيا . ص ١٠٦
- ٤- (مجلس اللوردات) مجلس يضم نواب الطبقتين الأرستقراطية الإقطاعية ورجال الدين ويعينهم الملك الإنجليزي . ص ٧٤

ج - رتب الأحداث التاريخية التالية وفقاً للمخطط الزمني التالي لها :- ص ١١٣

- \* إنزال الحلفاء في النورماندي .
- \* هزيمة دول المحور في ستالينجراد .
- \* فرنسا تستسلم لألمانيا .
- \* اليابان تهاجم ميناء بيرل هاربر .



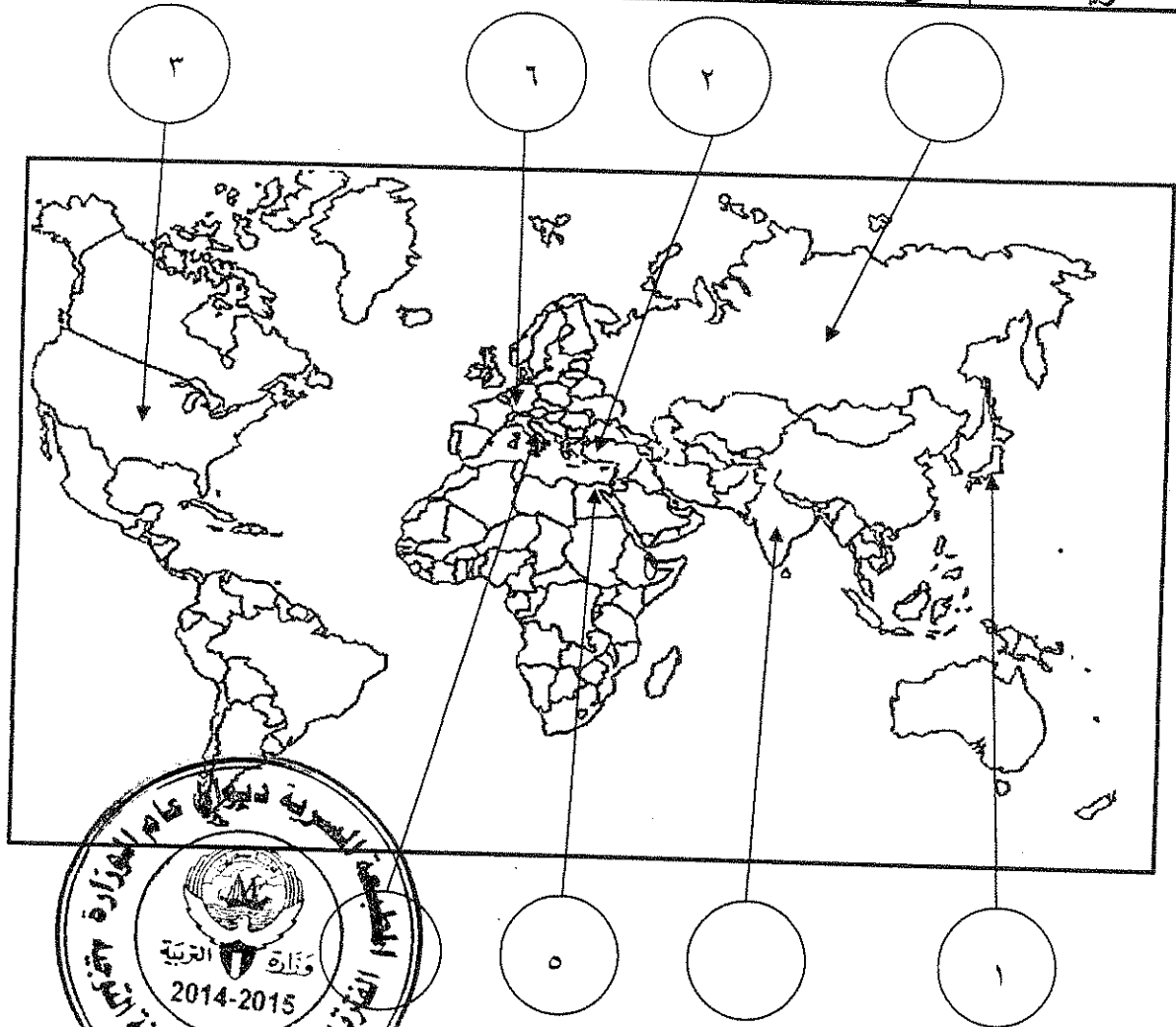
د - صنف الأسماء التالية حسب الجدول :-

( روسو - نيكر - دانتون - فولتير - ميرابو - منتيسكيو )

مفكرون	سياسيون
روسو	نيكر
فولتير	دانتون
منتيسكيو	ميرابو

تابع السؤال الأول ( الإجابى ) :-

هـ - لاحظ خريطة العالم التى أمامك جيدا ثم نفذ المطلوب :-



- ضع رقم كل عبارة مما يلي في الدائرة المناسبة لها على الخريطة :-

- ١- دولة استسلمت دون قيد أو شرط إثر ضربها بقنبلتين ذريتين .
- ٢- إمبراطورية إسلامية تفككت بعد الحرب العالمية الأولى .
- ٣- دولة ظهرت كوحدة سياسية مجتمعة في العالم الجديد عام ١٧٨٣م .
- ٤- دولة قامت فيها الحركة الفاشية عام ١٩٢٢م .
- ٥- دولة وقعت على أرضها معركة العلمين عام ١٩٤٢م .
- ٦- دولة أوروبية هزمت في الحرب العالمية الأولى وتحملت مسؤولية الحرب .

ص ١٠٣

ص ٨٢

ص ١٠٨

ص ١١١

ص ١٠٣

السؤال الثاني : ( اختياري ) يتكون من (أ- ب- ج):-

أ- دلل على صحة العبارات التالية :-

- ١- تعتبر الثورة الفرنسية واحدة من أهم الثورات الكبرى في العالم . درجتان ( يكتفى بنقطتين ) ص ٨٣  
- أعطت مفاهيم جديدة للعالم . - وضعت في حيز التنفيذ مبادئ عامة كانت مجرد نظريات .  
- غيرت الثورة جميع مناحي الحياة الفرنسية . - لم يكن تغييرها قاصراً على فرنسا وأوربا بل شمل جميع العالم .
- ٢- اختلفت الحرب العالمية الثانية عن جميع الحروب التي سبقتها . درجتان ( يكتفى بنقطتين ) ص ١١٣-١١٤  
- كانت حرب شاملة لدول العالم بالاشتراك المباشر أو بالتحالف مع الدول - تسخير الطاقات البشرية حيث سخرت دول المحور أسرى الحرب للعمل في المصانع والحقول ودفع الحلفاء بالإناث للعمل في هذا المجال بدل الرجال وفتحت الولايات المتحدة باب الهجرة للعمل  
- مواجهة بين أيديولوجيات وصراع بين نظريات دكتاتورية عنصرية تبنتها دول المحور بينما تبني الحلفاء الديمقراطية التي تنادي بالمساواة وحقوق الإنسان - تنافس صناعي سخرت جميع الدول المشاركة في الحرب مقدراتها ومقدرات الشعوب التي احتلتها بهدف تطوير الإنتاج الصناعي الحربي وتطوير الاقتصاد - سباق تسليح تكنولوجي - تطور أساليب القتال والأسلحة فاستخدمت التكنولوجيا في الأرض والجو والبحر وكل البحار اكبر وشمل جميع المجالات - استخدام القنبلة الذرية .

ب- عرف ما يلي :-

- ١- الحلف الفولاذي : درجة  
- حلف وقعه هتلر مع موسوليني في أغسطس عام ١٩٣٩م ص ١٠٩
- ٢- نازية : درجة  
- هي كلمة ألمانية تعني الاشتراكية الوطنية وهي التسمية التي أطلقها أدولف هتلر على الحزب النازي . ص ١٠٧
- ٣- مجلس العموم : درجة  
- يمثل الديمقراطية ويضم نواب الطبقتين الوسطى الزراعية والوسطى في المدن البرجوازية وينتخبهم الشعب . ص ٧٥



ج- علل لما يلي :-

- ١- أثار قانون التمتع أكبر قدر من المعارضة لدى الأمريكيين . درجة ( يكتفى بنقطة ) ص ٧٨  
- لأنه أصاب رجال الصحافة والكتاب ورجال المال والأعمال ولهؤلاء نفوذ قوى في التأثير على الراي العام
- ٢- كانت القارة الأوروبية محور العلاقات الدولية في بداية القرن العشرين . درجة ( يكتفى بنقطتين ) ص ٩٧  
- مركز الثورة الصناعية . - وفرة الموارد والإمكانات الاقتصادية .  
- النفوذ الاستعماري في جميع القارات . - نشوء الإمبراطوريات الكبرى .

السؤال الثالث : (اختياري) يتكون من ( أ - ب - ج ) :-

أ- اقرأ الفقرة التالية ثم نفذ المطلوب :-

" انقسم العالم سياسياً في أواخر القرن التاسع عشر وبداية القرن العشرين الميلادي بسبب عدة عوامل أهمها بروز النزعة القومية وتصادم الأيديولوجيات وسياسة التوسع للسيطرة على مناطق مختلفة من العالم ."

١- عرف ما تحته خط .

الأيديولوجية : نسق من الآراء والأفكار السياسية والقانونية والفلسفية ودرجة ص ٩٧

٢- استخرج من الفقرة أسباب انقسام العالم سياسياً تصادم الأيديولوجيات وسياسة التوسع للسيطرة على مناطق مختلفة من العالم . ص ٩٧

- بروز النزعة القومية .

- سياسة التوسع للسيطرة على مناطق مختلفة من العالم .

ب- فرّق حسب الجدول :-

القوانين سينة السمعة ص ٧٨	القوانين الجائرة ص ٧٩
ضرائب جديدة فرضها مجلس العموم البريطاني على الأمريكيين منها عام ١٧٦٤م على السكر والعسل والنيبذ والحريير والبن و قانون التمغة الذي يفرض رسوم مالية على المستندات التجارية وعقود البيع والرهن وكانت الشرارة الأولى التي انطلقت منها الثورة الأمريكية .	قرارات اتخذها البرلمان الإنجليزي لمعاقبة ميناء بوسطن بعد حادثة حفلة شاي بوسطن ١٧٧٣م أهمها - إغلاق ميناء بوسطن حتى يتم دفع ثمن الشاي - تعيين الجنرال جيدج حاكماً عسكرياً على بوسطن - منع الاجتماعات إلا بإذن من السلطات العسكرية الإنجليزية .

ج- برهن على صحة العبارات التالية :- لكل سؤال درجتان ( يكتفى بنقطتين )

١- ساهمت شروط معاهدات الصلح عام ١٩١٩م في قيام الحرب العالمية الثانية . ص ١٠٩

- استحوذت الدول المنتصرة على نصيب الأسد من مكاسب مادية ومستعمرات .

- فرض القيود ذات الشروط المذلة على الدول المهزومة .

- فقدت الدول المهزومة أجزاء كبيرة من أراضيها مما أثار سخطها على هذه القيود .

٢- لم تقتصر إصلاحات الجمعية الوطنية على إصدار وثيقة الحقوق الفرنسية ودستور ١٧٩١م . ص ٨٩

- قامت بإصلاح النظام الإداري حيث قسمت فرنسا إلى محافظات جغرافية وليس على أساس طبقي .

- ألغت النظام القضائي القديم وأصبح منصب القاضي انتخابياً .

- إصلاح النظام الضريبي والمالي بالمساواة بين جميع الأفراد وطبقاً لدخل الفرد .

- إصلاح الكنيسة بمصادرة أملاكها لصالح الدولة لحل الأزمة المالية .

السؤال الرابع : ( اختياري ) يتكون من ( أ - ب - ج ) :-

أ- اكتب فقرة مترابطة من ثلاثة اسطر مستعينا بالكلمات التالية :- درجتان ص ١٠٥

( الكساد الإقتصادي - بورصة نيويورك - النظام الجديد - الإقتصاد الرأسمالي الحر )

كان من أبرز النتائج الإقتصادية للحرب العالمية الأولى الكساد الإقتصادي الذي أدى إلى انهيار بورصة نيويورك فترتب عليه إفلاس كثير من البنوك والمؤسسات . فتبنى الرئيس الأمريكي روزفلت سياسة إقتصادية جديدة عرفت بالنظام الجديد خرج بها عن الإقتصاد الرأسمالي الحر إلى إقتصاد رأسمالي موجه . ( أو ما يراه المصحح مناسباً )

ب- نفذ المطلوب منك بين الأقواس :- ثلاث درجات كل سؤال درجة ( يكتفى بنقطتين )

١- الثورة الإنجليزية . ( نتائجها ) ص ٧٥-٧٦

- انتشرت فكرة المجالس النيابية لإصدار القوانين وفرض الضرائب وتقرير سياسة الدولة بعد ما كان ذلك من حق الملك فقط - الأخذ بمبدأ تركيز الحياة النيابية في مجلسين اللوردات والعموم ومن ثم أخذت عنها الشعوب الأخرى لذلك نجد نظام المجلسين قد طبق في اغلب دول العالم حتى الآن- أخذت معظم دول العالم عن انجلترا نظامها الانتخابي حيث التمثيل النيابي على حساب الدوائر الانتخابية وليست على أساس طبقي حيث أصبح عضو البرلمان يمثل دائرة انتخابية على حسب التقسيم الجغرافي الذي تراه الدولة فالعضو لا يمثل طبقة اجتماعية او إقتصادية ولكنه يمثل جميع سكان دائرته - إدراك الفرد حقوقه السياسية- تطور النظرية السياسية وأشهرها نظرية السيادة الشعبية لجون لوك .

٢- إصلاحات نابليون الداخلية . ( الإصلاح الإداري ) ص ٩٣

- اهتم نابليون بالإدارة و أصدر قانونا عام ١٨٠٠م الذي يقسم الإقليم الإداري القديم الذي أصدرته الجمعية الوطنية .  
- جعل الحكام يعينون من قبل القنصل الأول ( نابليون ) وثلاثة أعضاء آخرين ( ٢٠١٥-٢٠١٤ )

٣- الدستور الأمريكي ١٧٨٩م . ( مميزاته ) ص ٨٢

- امتاز بالفصل التام بين السلطات الثلاث ( التنفيذية / القضائية / التشريعية ) . - أكد على حق الفرد في الحرية والمساواة والاعتقاد وحرية الصحافة . - أكد على عدم تعارض السلطات المحلية مع السلطات الفيدرالية .  
- وضع الدستور لحماية حقوق الناس والمحافظة عليها . - أكد على مرونة الدستور وقابليته للتغيير والتعديل .

ج - ما تفسيرك لكل مما يلي :-

١- تغير أوضاع الحرب العالمية الثانية عام ١٩٤٢م لصالح الحلفاء . درجتان ( يكتفى بنقطتين ) ص ١١١

- إصرار بريطانيا بقيادة تشرشل على الصمود . - نمو قوة الحلفاء .

- صمود القوات الروسية ( الجيش الأحمر ) الذي هزم القوات الألمانية في ستالينجراد .

٢- نجاح الثورة الشيوعية في روسيا عام ١٩١٧م . درجتان ( يكتفى بنقطتين ) ص ١٠٦

- فساد الحكم القيصري في روسيا واستبداده . - هزائم الجيش الروسي منذ عام ١٩٠٥م على يد اليابان ثم الحرب العالمية الأولى . - سوء الحالة الإقتصادية لطبقة العمال والفلاحون وانتشار البطالة والمجاعات والأمراض .

- شخصية لينين وقدرته على إقناع الجماهير من خلال شعار ( السلام للجيش / الأرض للفلاحين / الغذاء للجميع / الحكم للسوفيت ) وتنظيم الحزب الشيوعي .

تابع امتحان تاريخ العالم الحديث والمعاصر - للصف الثاني عشر أدبي - الفترة الدراسية الرابعة - العام الدراسي ٢٠١٤/٢٠١٥ م

**السؤال الخامس : (اختياري ) يتكون من (أ- ب- ج):-**

**أ- عدد لكل مما يلي :-**

١- مبادئ لائحة الحقوق الإنجليزية ١٦٨٩ م . درجتان ( يكتفى بنقطتين ) ص ٧٤

- لا يحق للملك إبطال أو تعديل قانون صادر من البرلمان . - للبرلمان الحق الكامل في التعبير بحرية .

- لا يحق للملك فرض ضرائب جديدة أو تشكيل جيش أو إعلان حرب دون موافقة البرلمان .

- أعطى البرلمان حصانة للمواطنين حيث لا يمكن اعتقال مواطن دون محاكمة وفي ظل المبدأين المذكورين .

٢- نتائج سقوط حصن الباستيل ١٧٨٩ م . درجتان ( يكتفى بنقطتين ) ص ٧٤

- عمت الفوضى في كل مكان . - توقف الفلاحون عن دفع الضرائب .

- انقض الفلاحون على قصور النبلاء واحرقوها وقتلوا من فيها واحرقوا الوثائق التي تعطيهم حقوقا إقطاعية .

- هجرة النبلاء خارج فرنسا هرباً بحياتهم فأصبح هؤلاء المهاجرون أكبر خطر على الثورة الفرنسية .

درجتان

**ب- فرق حسب الجدول :-**

السبب المباشر لقيام الحرب العالمية الأولى ص ١٠٠	السبب المباشر لقيام الحرب العالمية الثانية ص ١١٠
قيام طالب صربي باغتيال ولي عهد النمسا الأرشيدوق فرديناند وزوجته في مدينة سراييفو عاصمة البوسنة عام ١٩١٤ م .	طالب هتلر بولندا بإعادة ممر دانزيغ ولكنها رفضت بشدة فقام باجتياح بولندا عام ١٩٣٩ م ورفض إنذار بريطانيا وفرنسا .

**ج- اكتب مهام الأجهزة التالية :-**

١- منظمة التربية والعلوم والثقافة ( اليونسكو ) . درجة ص ١١٨

- تقوم بتعزيز التعاون الدولي في مجالات التربية والعلوم والثقافة لتطويرها وتحقيق أكبر قدر من التفاهم بين الأمم .

٢- منظمة التغذية والزراعة ( الفاو ) . درجة ص ١١٨

- تساعد على تحسين إنتاج المزارع والغابات ومناطق صيد الأسماك .

٣- محكمة العدل الدولية . درجة ص ١١٧

- حل النزاعات على الحدود بين الدول الأعضاء والنزاعات الناجمة عن مخالفة القوانين الدولية .